

Мы рады приветствовать Вас  
на школьном этапе Всероссийской олимпиады школьников  
2022 – 2023 учебного года по истории  
10 классы  
Желаем успехов!

49

Время выполнения работы: 90 минут.  
Максимальное количество баллов: 92.

**Задание 1.** Вставьте пропущенные буквы в исторических терминах и понятиях. Напишите определение к каждому понятию и термину.

А) Н~~е~~ст~~я~~жители - монашеское движение в русском православии  
церкви 4

Б) М~~е~~ркант Илизм - Монахицелая политика 1

В) С~~е~~нтим. ~~е~~нтализм - литературное направление XVIII, XIX 4

Г) М~~ю~~ридизм - \_\_\_\_\_ 1

10

За каждое правильно написанное понятие или термин - 1 балл. За верное определение - 3 балла.  
Максимальный балл - 16.

**Задание 2.** Расположите в хронологической последовательности представленные события. Как называется данный период отечественной истории, упомянутых в задании исторических событий

- А) Семибоярщина и приглашение на трон королевича Владислава.
- Б) Царствование Бориса Годунова.
- В) Царствование Василия Шуйского.
- Г) Освобождение Москвы от поляков.

3 балла за верную последовательность, любая неверная последовательность 0 баллов. 1 балл за название периода. Максимальный балл - 4.

**Задание 3.** Согласны ли Вы с приведенными ниже утверждениями? Если согласны, напишите «Да», если не согласны - «Нет». Внесите свои ответы в таблицу.

- А) Военная реформа Александра II предусматривала отмену рекрутской системы комплектования армии.
- Б) Теорию официальной народности сформулировал в 1833 году министр народного просвещения граф С. Уваров.
- В) Программный документ «Северного общества», образованного в 1822 году, назывался «Русская правда»
- Г) Павел I, в качестве укрепления собственного положения во власти, оставил без изменения права дворянства и купечества, дарованные Жалованными грамотами 1785 года.
- Д) После смерти Анны Иоанновны был создан Верховный тайный совет как совещательный орган при монархе.
- Е) Алексей Михайлович вел курс внешней политики по возвращению побережья Финского залива, восстановлению выхода к Балтийскому морю.

А	Б	В	Г	Д	Е
нет	да	нет	да	да	нет

3

За каждый правильный ответ по 1 баллу. Максимальный балл - 6.

**Задание 4.** Установите соответствие между писателями и созданными ими произведениями: к каждой позиции первого столбца подберите соответствующую позицию из второго столбца. Запишите в таблицу выбранные цифры под соответствующими буквами.

ПИСАТЕЛИ	ПРОИЗВЕДЕНИЯ
А) М. Шолохов 2	1) «Живые и мёртвые»
Б) Б. Васильев 8	2) «Судьба человека»
В) В. Быков 4	3) «У войны - не женское лицо»
Г) К. Симонов 1	4) «Сотников»
Д) Ю. Бондарев 5	5) «Батальоны просят огня»
Е) С. Алексиевич 3	6) «Жизнь и судьба»
Ж) Д. Гранин 7	7) «Иду на грозу»
З) В. Гроссман 6	8) «В списках не значился»

Ответ:

А	Б	В	Г	Д	Е	Ж	З
2	8	9	1	5	3	4	6

По 1 баллу за каждое верное соответствие. Максимальный балл - 8.

**Задание 5.** Что с исторической точки зрения объединяет перечисленные в ряду элементы? Дайте максимально точный ответ.

- А). Тысяцкий, князь, посадник, архиепископ. Сфера управления  
 Б). 1487-1494 гг., 1500-1503 гг., 1512-1522 гг., 1534-1537 гг. Война  
 В) Ленинградско-Новгородская операция, Крымская операция, операция «Багратион». 0

2 балла за каждый верный ответ. Максимальный балл - 6.

**Задание 6.** Установите соответствие между общественными деятелями и организациями /обществами, в которых они состояли. Запишите в таблицу выбранные цифры под соответствующими буквами.

ДЕЯТЕЛИ	ОРГАНИЗАЦИИ/ОБЩЕСТВА
А) С.Г. Нечаев	1) «Союз борьбы за освобождение рабочего класса»
Б) А.И. Желябов	2) кружок петрашевцев
В) В.И. Ульянов	3) «Народная воля»
Г) В.И. Засулич	4) «Северное тайное общество»
Д) К.Ф. Рылеев	5) «Арзамас»
Е) Ф.М. Достоевский	6) «Освобождение труда»
Ж) С.С. Уваров	7) «Народная расправа»

Ответ:

А	Б	В	Г	Д	Е	Ж
3	4	7	1	5	2	6

За каждое правильное соответствие 1 балл. Максимальный балл - 7.

**Задание 7.** Соотнесите правителя, год проведения реформы и название реформы.

Год	Деятельность
А) 1842	1) Земская реформа
Б) 1881	2) Негласный комитет
В) 1810	3) Городская реформа
Г) 1887	4) Военные поселения
Д) 1864	5) указ об «обязанных крестьянах»
Е) 1801	6) Манифест «О незыблемости самодержавия»
Ж) 1870	7) циркуляр о «кухаркиных детях»

Ответ:

Александр I	Николай I	Александр II	Александр III
2 Е Ч В	5 А	4 1 Ж 3	6 Б 7 Г

За каждый правильный ответ по 2 балла. Максимальный балл — 12.

**Задание 8.** Определите пропущенные в тексте названия, слова, имена, даты, обозначенные порядковыми номерами. При необходимости при порядковых номерах даются пояснения о характере требуемой вставки. Необходимые вставки впишите под соответствующими номерами в помещённую ниже таблицу.

«Ясным солнечным утром (1 – дата с точностью до дня) празднично одетые рабочие вместе с жёнами и детьми, неся иконы и портреты царя (2 – имя), двинулись с окраин города к резиденции императора – (3 – название). Шествие, в котором участвовало более 140 тыс. человек, возглавил священник (4 – имя). Путь к резиденции преградили полиция и войска, которые открыли огонь по демонстрантам. Этот день вошёл в историю под названием «(5 – название)». Весть о расстреле демонстрации в (6 – название города) вызвала гнев и возмущение во всех слоях общества по всей России. Новый толчок к народному негодованию дали известия о поражении русской армии под (7 – название города) и русского флота в (8 – название пролива) проливе. По стране прокатились мощные стачки рабочих, крупнейшей из которых стала стачка текстильщиков в (9 – название города). Летом вспыхнуло восстание матросов на броненосце «(10 – название броненосца)», находившемся на рейде недалеко от Одессы. Броненосец сумел прорваться в открытое море, но, не имея запасов угля и продовольствия, он был вынужден уйти к берегам (11 – название страны), где и сдался местным властям. Осенью центром движения стала (12 – название города) – сначала там выступили с экономическими требованиями печатники, затем к ним присоединились рабочие городских предприятий, а затем – железнодорожники, поддержанные рабочими почти всех железных дорог страны. Так началась (13 – термин). Она стала общероссийской, охватила 120 городов, в ней

приняли участие 2 млн рабочих и служащих. Более чем в 50 городах и рабочих поселках страны были созданы (14 – название органов), не только руководившие революционной борьбой, но и игравшие роль органов местной власти. Верховная власть была вынуждена пойти на уступки – царь подписал Манифест «(15 – полное название манифеста)».

Ответ:

Номер	Вставка	Номер	Вставка
1	09.01 1905г. +	9	Иваново +
2	Император II +	10	Потемкин +
3	Земский Собор +	11	Дулишин +
4		12	Исква +
5	Кровавое воскресенье +	13	Ревальский
6	Петербург +	14	
7		15	Об утверждении вавати их. порядка
8			

За каждую верную вставку – 1 балл. Максимальный балл - 15.

10

**Задание 9.** Заполните пустые ячейки таблицы, используя приведенный ниже список пропущенных элементов: для каждого пропуска, обозначенного буквой, выберите номер нужного элемента.

Век	Событие истории России	Событие истории зарубежных стран
А _____	Б _____	Казнь Людовика XVI
XVII в.	В _____	«Славная революция» в Англии
Г _____	Провозглашение курса на ликвидацию кулачества как класса	Д _____
XIX в.	Создание III Отделения императорской канцелярии	Е _____

Пропущенные элементы: 1) создание Верховного тайного совета 2) провозглашение Германской империи 3) XVIII в. 4) заключение Вестфальского мира 5) Убийство Дж. Кеннеди 6) XX в. 7) избрание Михаила Романова на царствование 8) созыв Учредительного собрания в России 9) XIX в.

Ответ:

А	Б	В	Г	Д	Е
3	7	8	6	5	2

За каждый правильный ответ 1 балл. Максимальный балл – 6.




3

**Задание 10.** Укажите вариант ответа, в котором события Великой Отечественной войны расположены в верной хронологической последовательности:

А) Сталинградская битва Б) Берлинская операция В) Курская битва Г) Битва за Москву Д) начало блокады Ленинграда. Б В Д А Г

3 балла за верную последовательность. Максимальный балл - 3.

**Задание 11.** Рассмотрите изображения. Напишите полное имя персоны, чем прославились.

		
Иван Степанович	Виллим (Георг Вильгельм)	Элиас _____

1 балл за имя, до 2х баллов за описание деятельности. Максимальный балл - 9.

