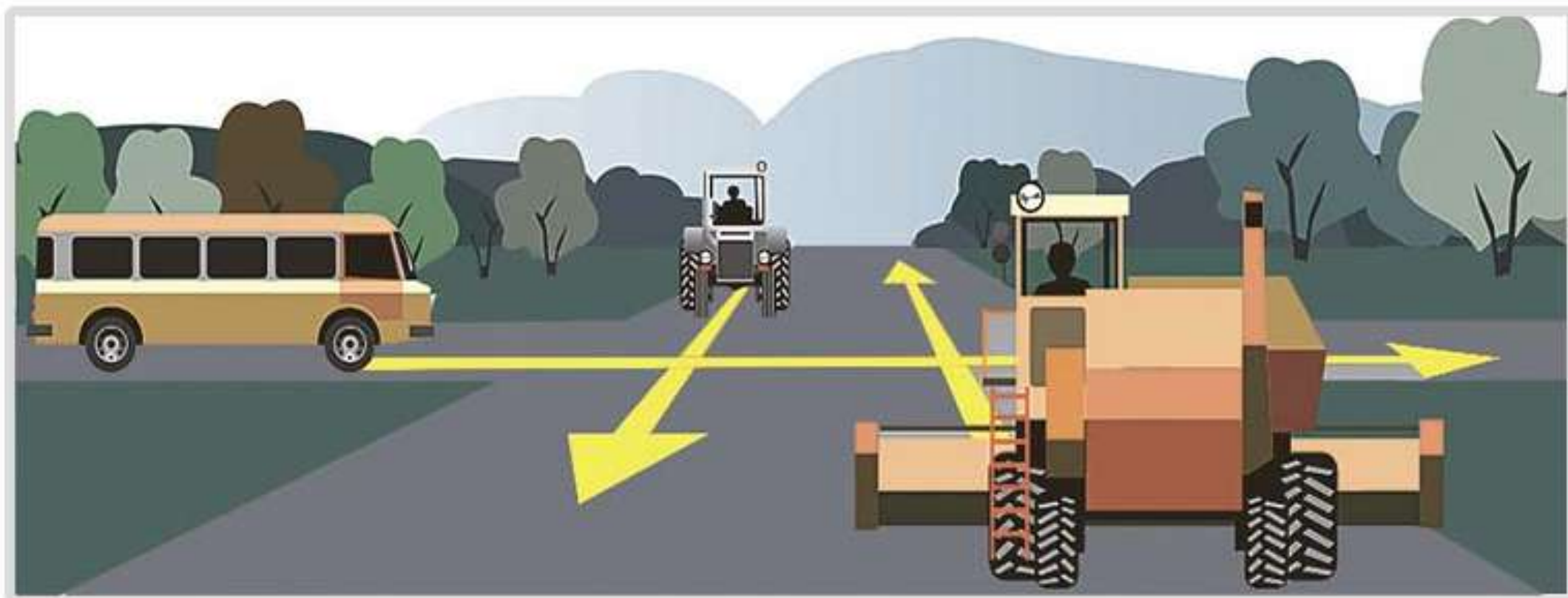




1 При развороте должен ли водитель самоходной машины уступить дорогу автомобилю?

1. Должен.

2. Не должен.



2 Транспортные средства проедут перекресток в следующем порядке:

1. Автобус, трактор, комбайн.

2. Комбайн, автобус, трактор.

3. Комбайн, одновременно с ним трактор, автобус.



3 В каком месте должен остановиться водитель самоходной машины в случаях, когда движение через переезд запрещено?

1. Не ближе 5 м до ближайшего рельса.

2. Не ближе 10 м до ближайшего рельса.

3. Непосредственно перед железнодорожным переездом.

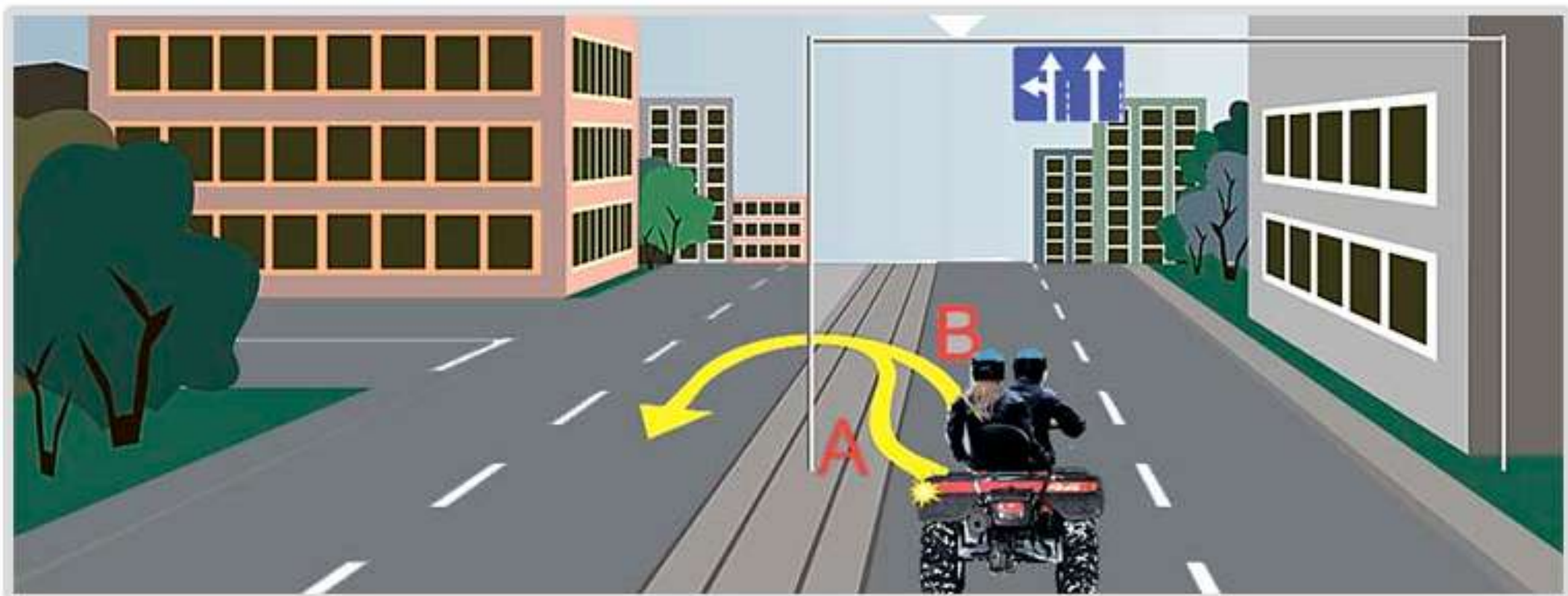


4 Что обозначает данная вертикальная разметка?

1. Край проезжей части.

2. Радиус поворота.

3. Боковые поверхности ограждений дорог на закруглениях малого радиуса, крутых спусках, других опасных участках.



5 По какой траектории водитель правильно выполнит разворот?

1. А.

2. В.

3. По любой.



6 Что означают данные знаки?

1. Парковочное место для мотоциклов и автомобилей, на которых установлен опознавательный знак «Инвалид».

2. Парковочное место, кроме мотоциклов и автомобилей, на которых установлен опознавательный знак «Инвалид».



7 Должны ли Вы уступить дорогу пешеходам вне населенного пункта?

1. Должны.

2. Не должны.



8 Разрешено ли движение по данной полосе?

1. Разрешено.

2. Запрещено.





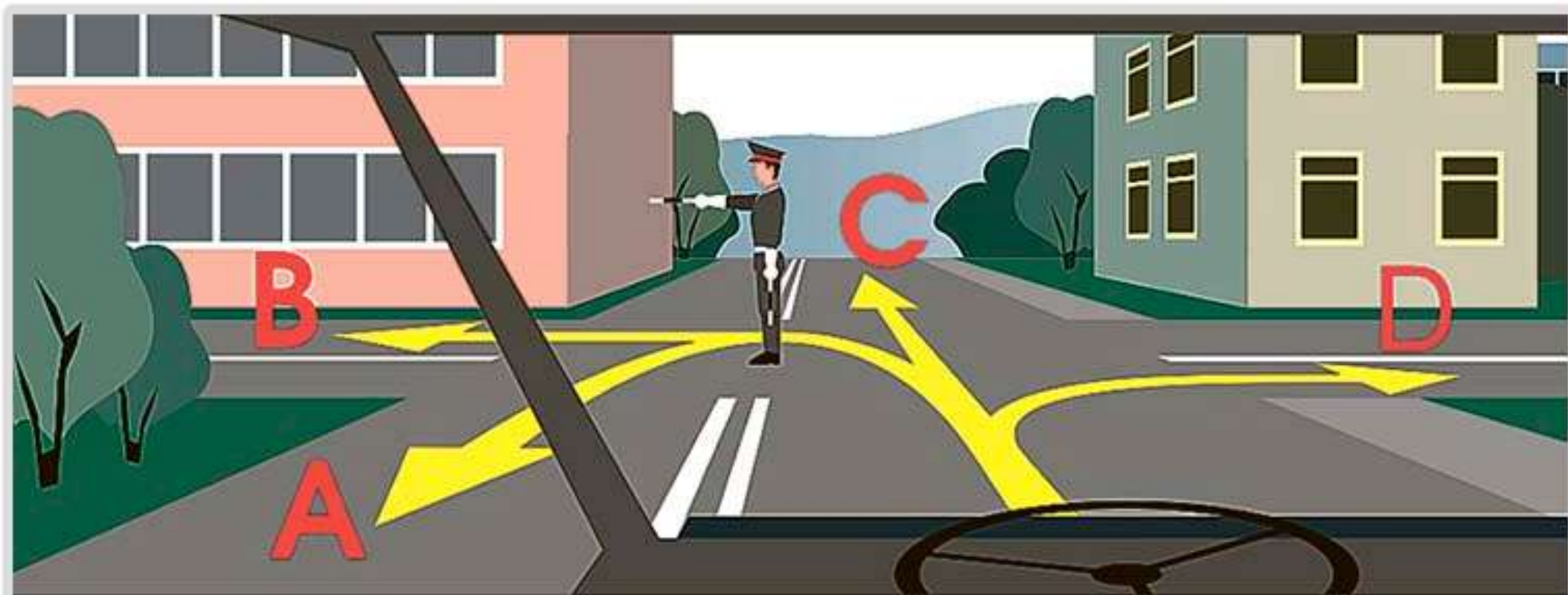
вопрос без изображения

9 Какие виды административных наказаний могут применяться к водителям самоходных машин за нарушения правил эксплуатации или ПДД?

1. Предупреждение, штраф, конфискация орудия или предмета совершения административного правонарушения, лишение специального права, предоставленного физическому лицу, административный арест, обязательные работы.

2. Только предупреждение, штраф или лишение специального права (лишение права управления ТС), предоставленного физическому лицу

3. Только предупреждение или штраф.



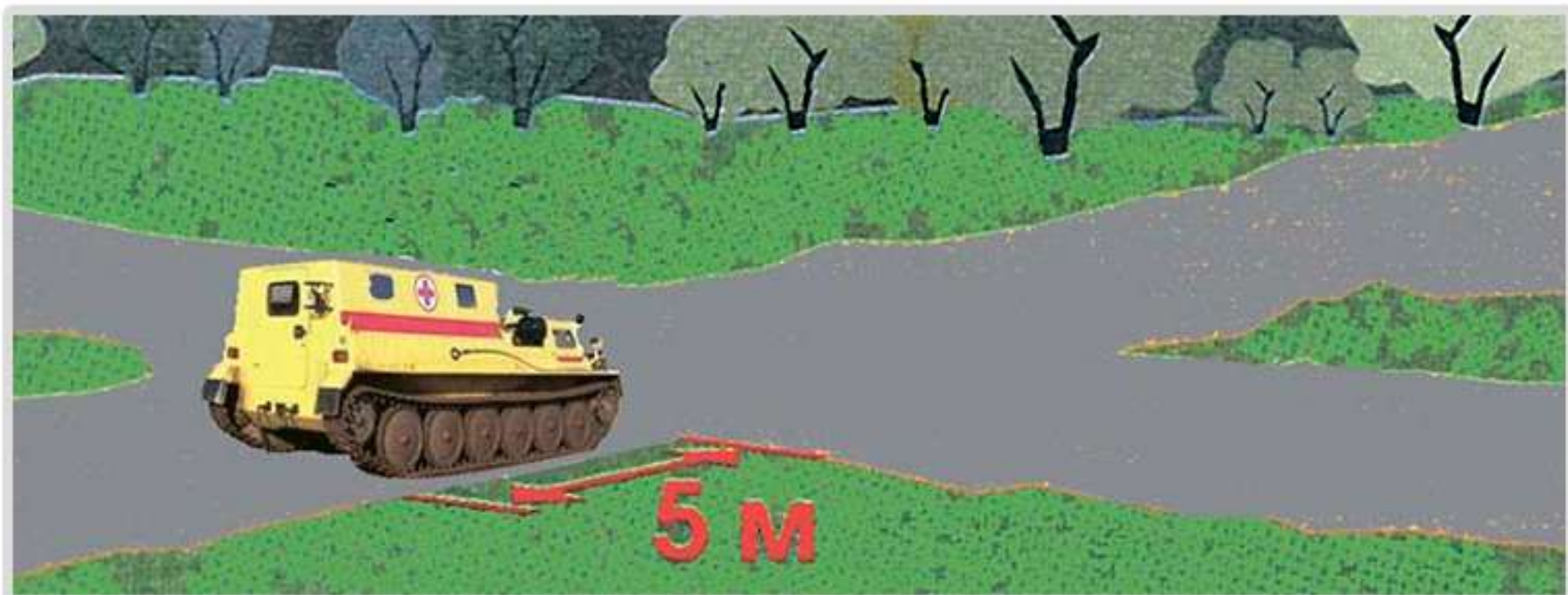
10 В каких направлениях разрешено продолжить движение?

1. Во всех направлениях.

2. С и D.

3. По всем, кроме А.

4. Движение запрещено.



11 Разрешена ли водителю самоходной машины стоянка в данном месте?

1. Разрешена.

2. Запрещена.



12 На каком расстоянии до пересечения дорог устанавливается этот знак вне населенного пункта?

1. 20 - 50 м.
2. 50 - 100 м.
3. 100 - 150 м.
4. 150 - 300 м.



13 Обязан ли водитель включать указатели поворота, выезжая с бензоколонки

1. Обязан.

2. Не обязан.

3. По своему усмотрению.?



14 Как Вы должны поступить в данной ситуации?

1. Снизить скорость перед пешеходным переходом.

2. Обязаны пропустить слепых пешеходов, подающих сигнал белой тростью.

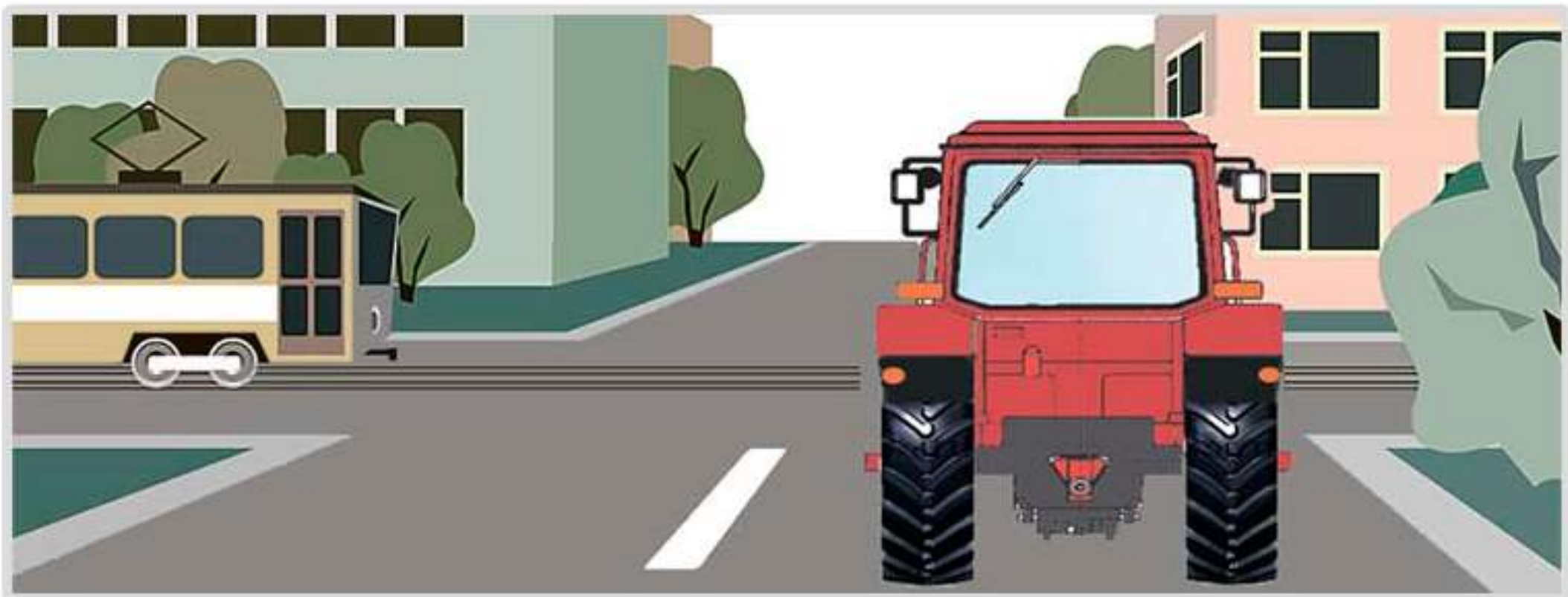
3. Продолжить движение, так как горит зеленый - разрешающий сигнал светофора.



вопрос без изображения

**15** Чем необходимо руководствоваться, если значения временных дорожных знаков и линий горизонтальной разметки противоречат друг другу?

1. Требованиями линий горизонтальной разметки.
2. Требованиями временных дорожных знаков.
3. Правила эту ситуацию не регламентируют.



16 Должен ли водитель трактора уступить дорогу трамваю, приближающемуся слева?

1. Должен.

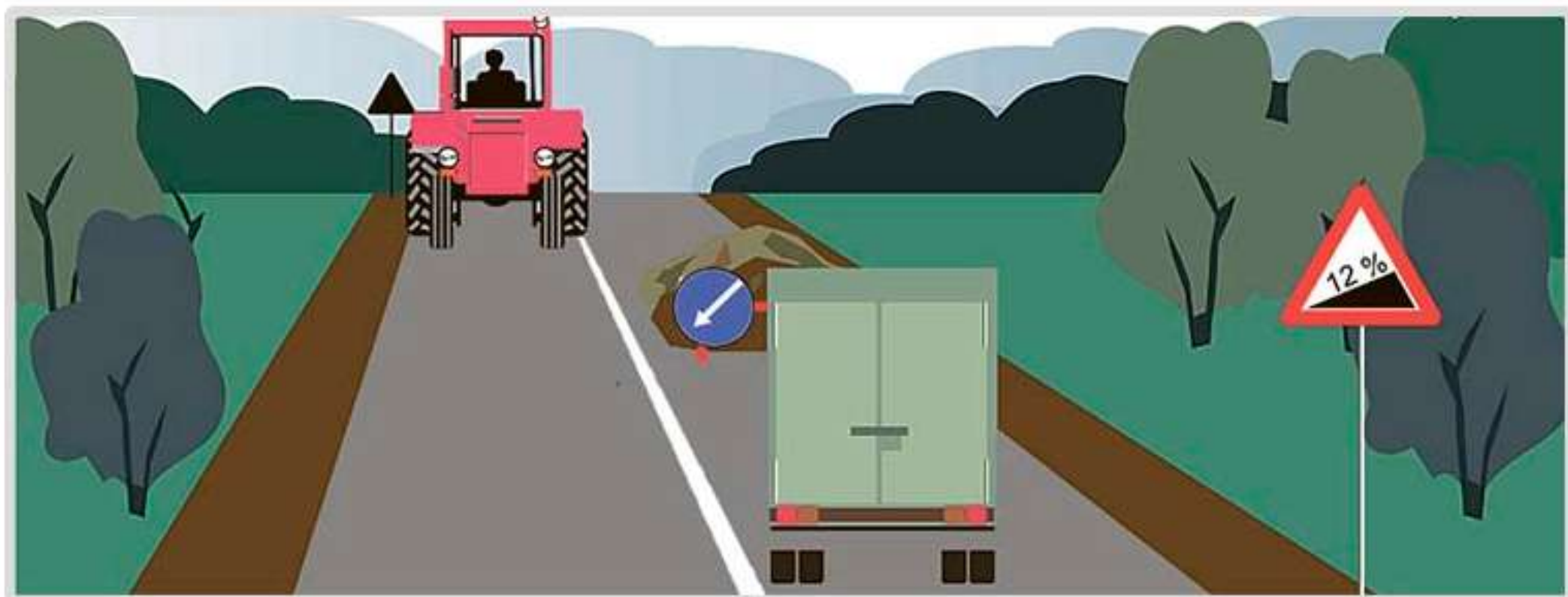
2. Не должен.





**17** Что означает желтый мигающий сигнал светофора?

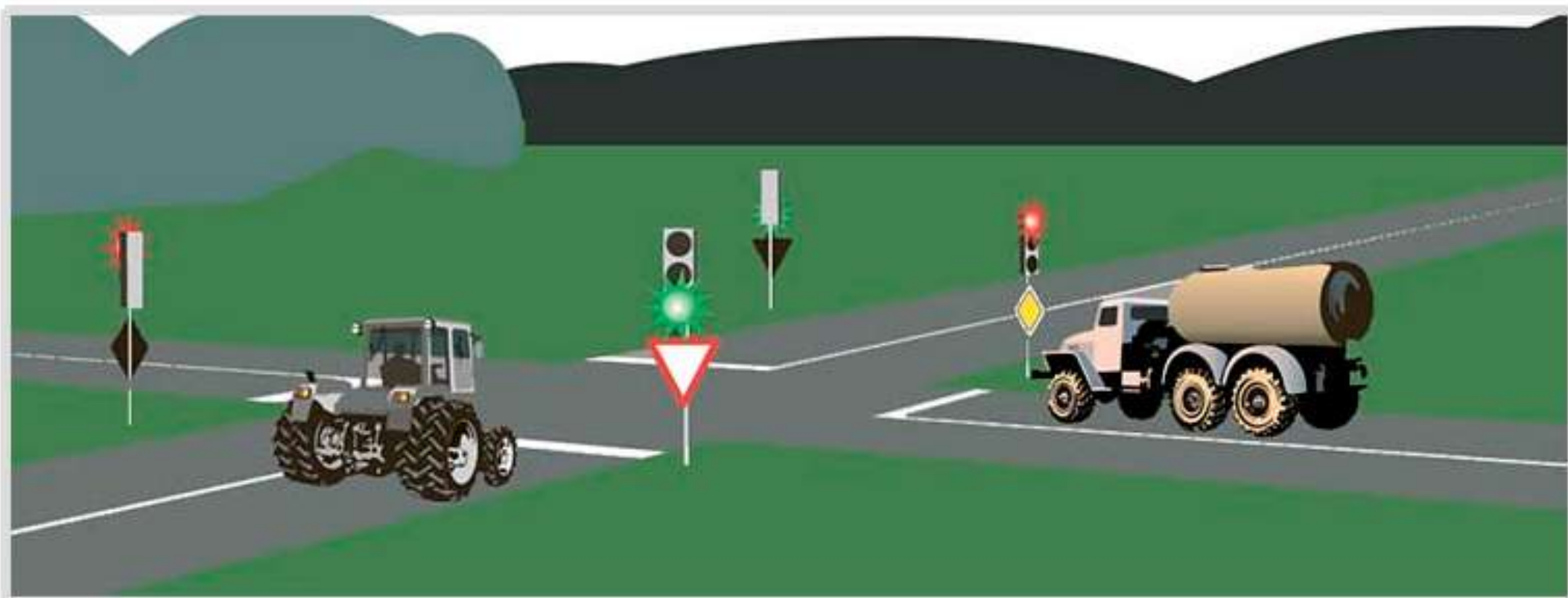
1. Перекресток считается нерегулируемым.
2. Скоро включится красный сигнал светофора.
3. Скоро включится зеленый сигнал светофора.



18 Водитель какого транспортного средства должен проехать первым?

1. Водитель трактора.

2. Водитель грузового автомобиля.



**19** Какое транспортное средство первым проедет перекресток?

1. Автомобиль.

2. Самоходная машина.



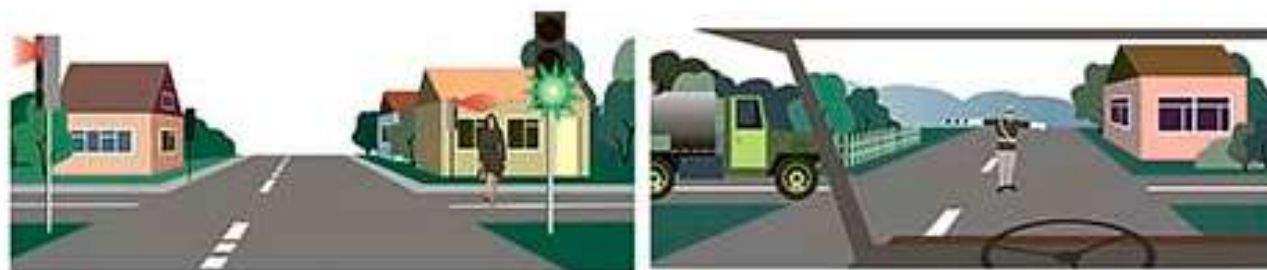
вопрос без изображения

**20** На какое время может быть наложен кровоостанавливающий жгут?

1. Не более получаса в холодное время года и не более одного часа в теплое время года.

2. Не более одного часа в холодное время года и не более получаса в теплое время года.

3. Время наложения жгута не ограничено.



A

B



C

1 На каком рисунке изображен регулируемый перекресток?

1. А.

2. В.

3. С.

4. А и В.



2 Дает ли преимущество перед другими участниками движения включенный проблесковый маячок оранжевого или желтого цвета?

1. Дает.

2. Не дает.



3 Вы намерены проехать перекресток в прямом направлении.

1. Проедете перекресток первым.

2. Уступите дорогу трамваю.



4 Должен ли водитель самоходной машины уступить дорогу пешеходам при повороте налево?

1. Должен.

2. Не должен.





A



B



C



D


- 5 Какой знак устанавливается в начале дороги, по которой осуществляется движение по всей ширине проезжей части в одном направлении?

1. A.

2. B.

3. C.

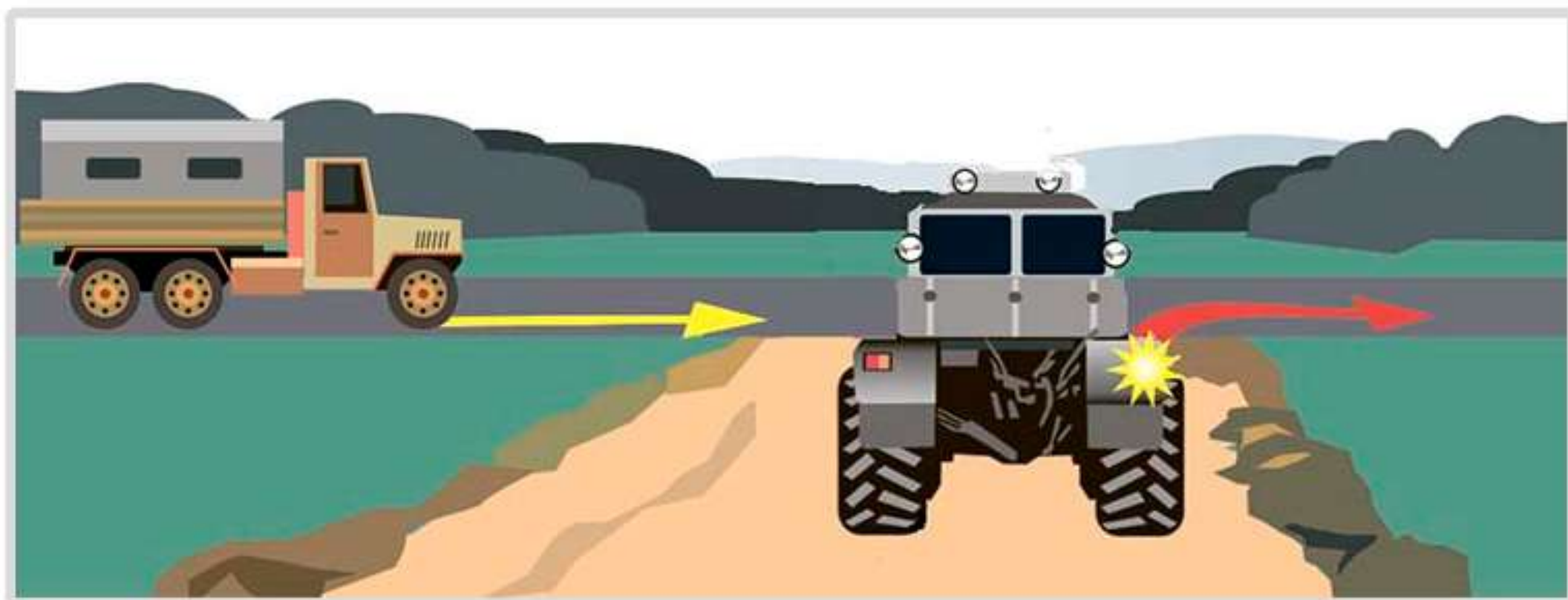
4. D.



6 Разрешено ли продолжение движения через железнодорожный переезд при открытом шлагбауме и запрещающем сигнале светофора?

1. Разрешено, если Вы убедились в отсутствии приближающегося поезда.

2. Запрещено.



7 Должен ли водитель трактора уступить дорогу грузовому автомобилю?

1. Должен.

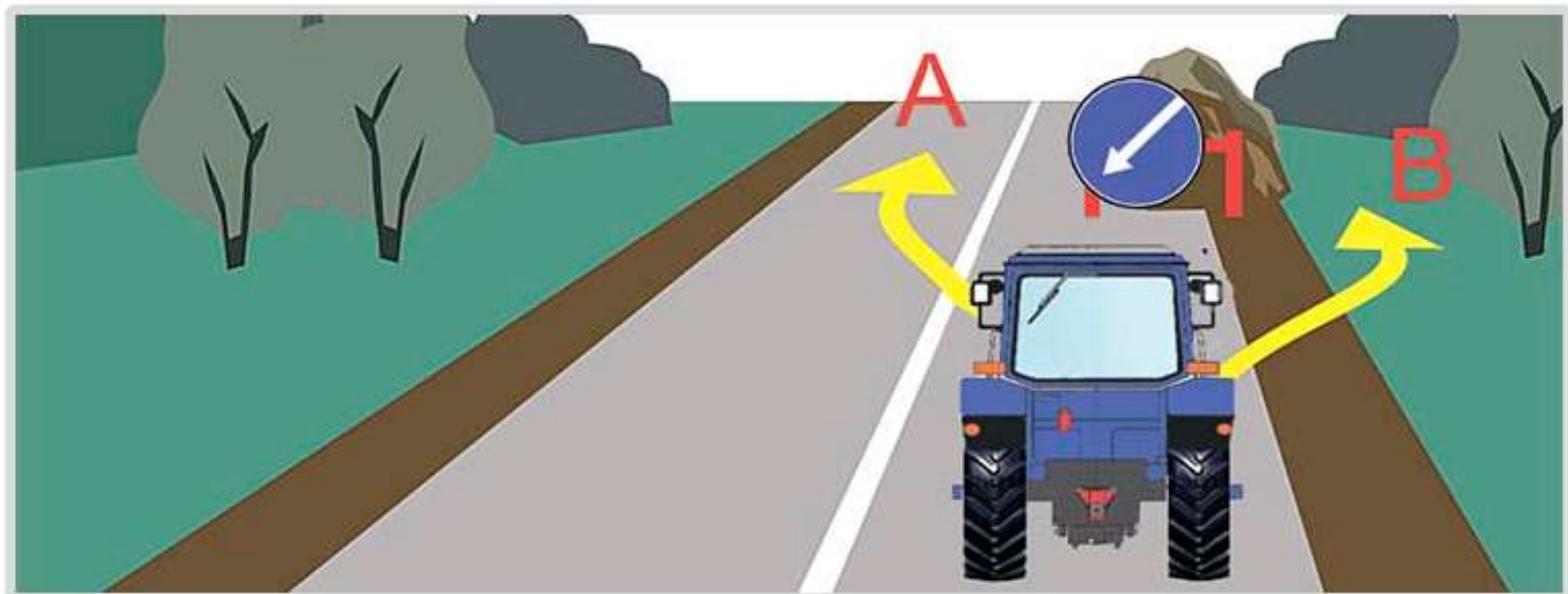
2. Не должен.



вопрос без изображения

8 В случае дорожно-транспортного происшествия вне населенных пунктов в темное время суток при нахождении на проезжей части или обочине водитель обязан:

1. Включить аварийную сигнализацию.
2. Выставить знак аварийной остановки.
3. Надеть куртку, жилет или жилет-накидку с полосами световозвращающего материала.
4. Выполнить все перечисленное.



9 По какой траектории водитель самоходной машины может объехать препятствие?

1. По траектории А.

2. По траектории В.

3. По любой.



**А**



**Б**



**В**

**10** Какой из знаков распространяет свое действие только на ту полосу, над которой он установлен?

1. Только А.

2. Только Б.

3. Б и В.



**A**



**B**



**C**



**D**

11 Какие знаки запрещают движение тракторов и самоходных машин?

1. А и В.

2. В и С.

3. С и D.

4. Все, кроме D.

5. Только С.



12 Разрешен ли разворот на участках дорог, обозначенных этим знаком?

1. Разворот разрешен только в населенных пунктах.

2. Разворот разрешен только при видимости дороги более 100 м.

3. Разворот запрещен.





вопрос без изображения

**13** Какое административное взыскание предусмотрено за непредоставление преимущества в движении транспортному средству, имеющему нанесенные на наружные поверхности специальные цветографические схемы с одновременно включенным проблесковым маячком синего цвета и специальным звуковым сигналом?

1. Административный штраф.

2. Лишение права управления транспортными средствами.

3. Возможно любое из перечисленных взысканий.



14 Разрешен ли Вам обгон в данной ситуации?

1. Да.

2. Да, если обгон будет завершен до перекрестка.

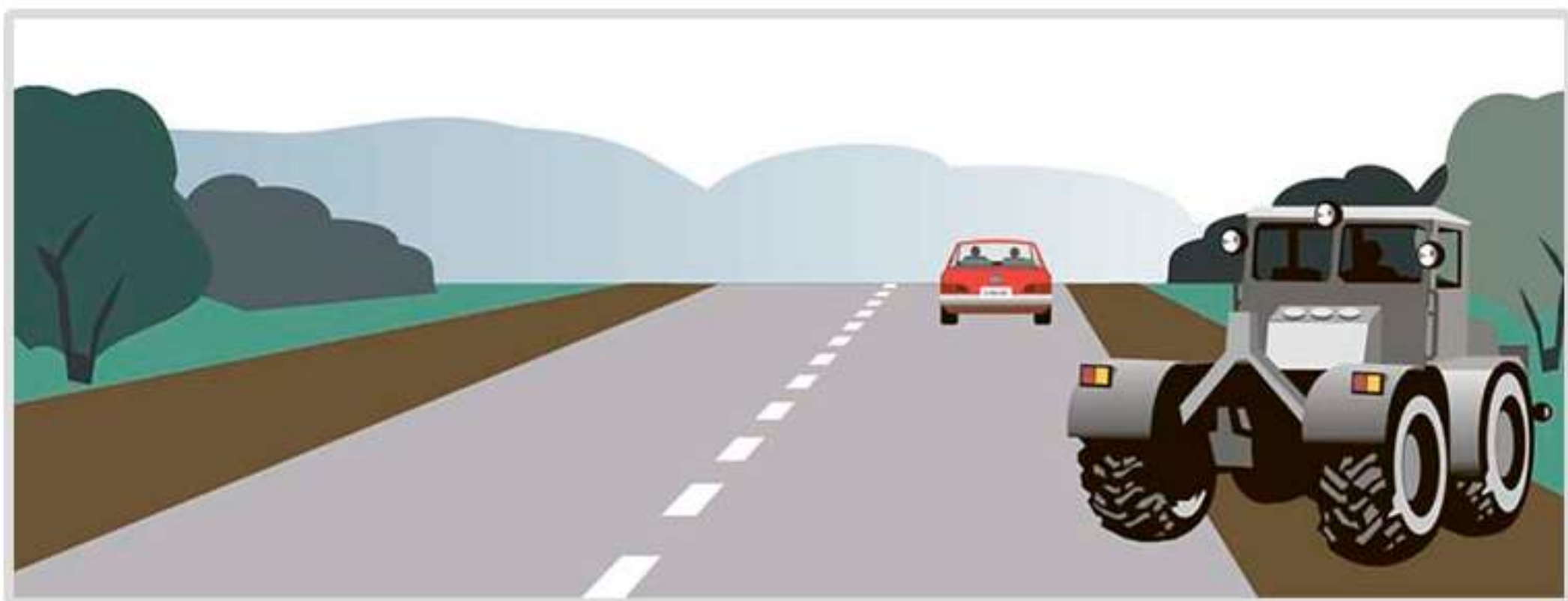
3. Нет.



15 Должны ли Вы уступить дорогу пешеходам, идущим к остановившемуся на остановке трамваю?

1. Должны.

2. Не должны.



16 Правильно ли остановился водитель самоходной машины?

1. Правильно.

2. Неправильно.



**17** Когда могут применяться звуковые сигналы при движении вне населенных пунктов?

1. Только для предупреждения других водителей об обгоне.
2. Для предотвращения дорожно- транспортного происшествия.
3. Верно, п.1, 2.



18 Нарушил ли водитель самоходной машины правила остановки?

1. Нарушил.

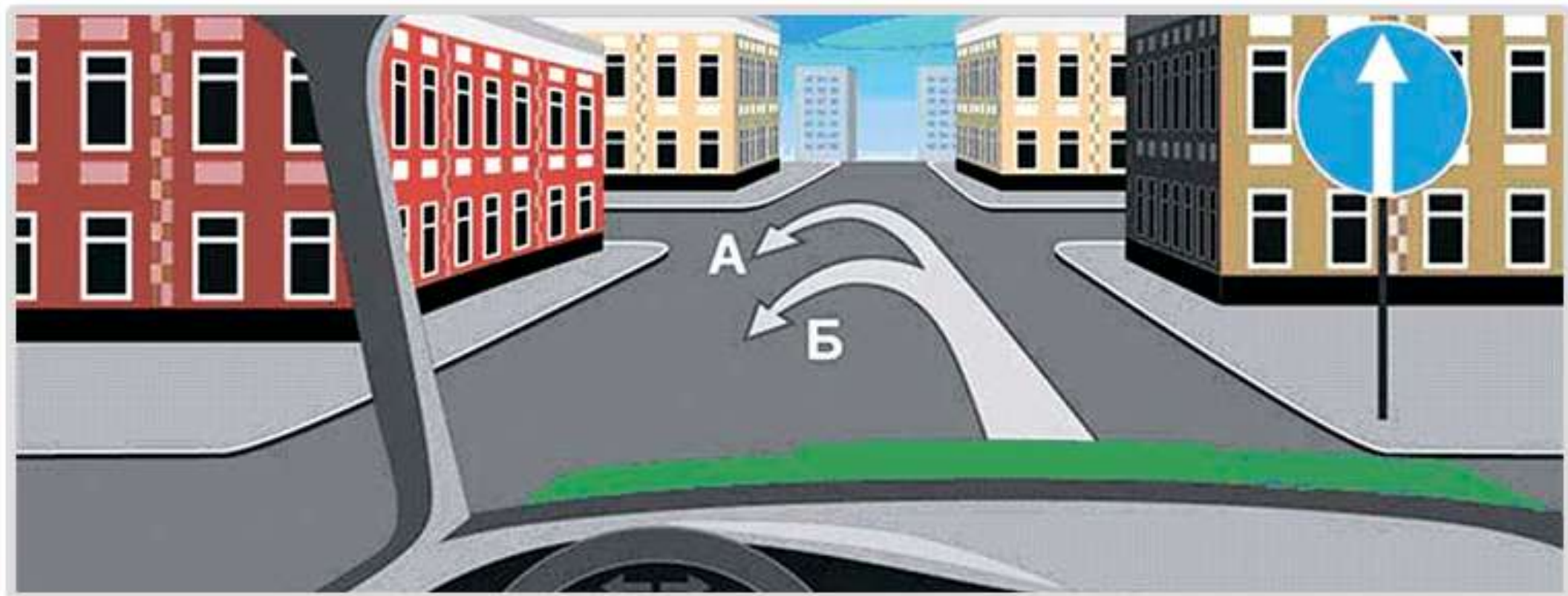
2. Не нарушил.



19 Должны ли Вы уступить дорогу легковому автомобилю?

1. Должны.

2. Не должны.



20 По какой траектории Вы можете совершить разворот?

1. А.

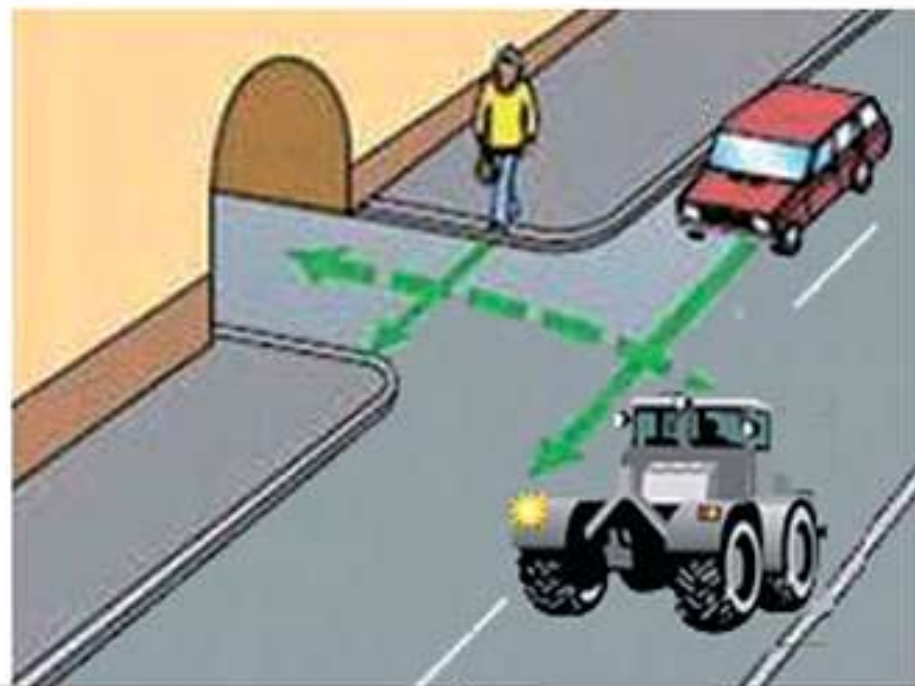
2. Б.

3. А и Б.





а



б

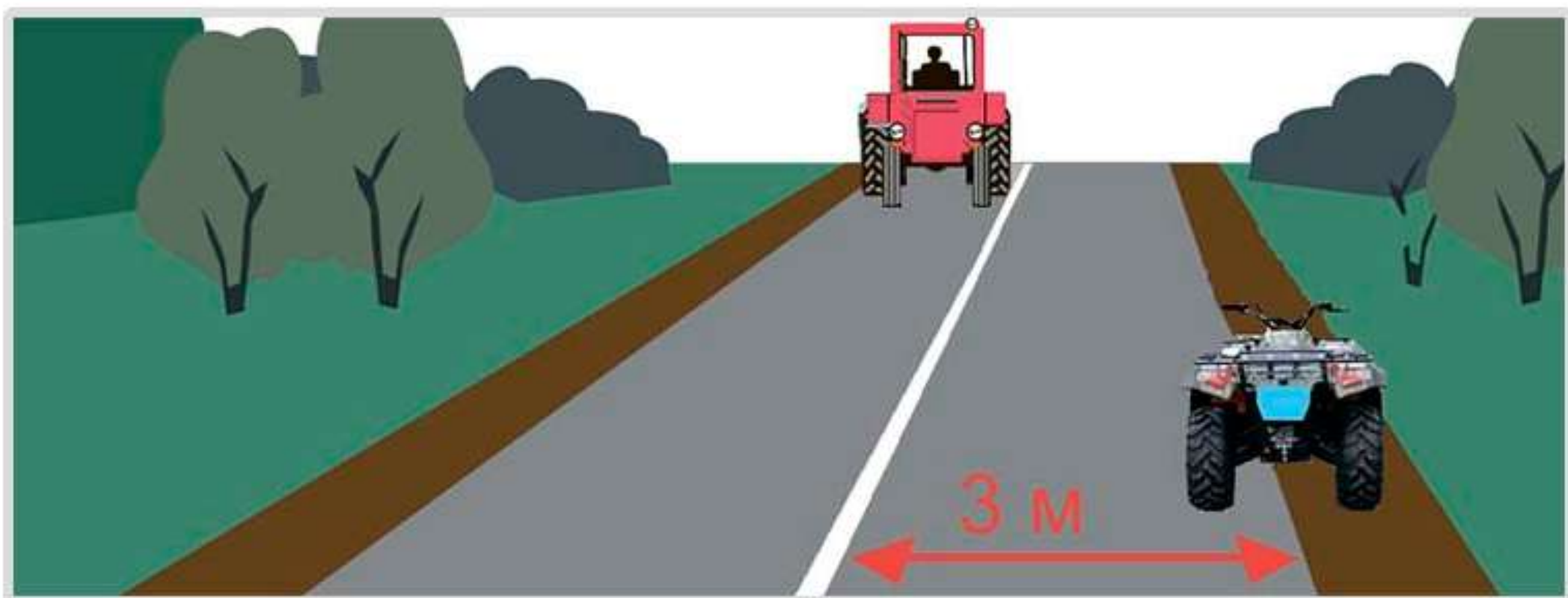
1 На каких рисунках изображен перекресток?

1. На левом (а).

2. На правом (б).

3. На обоих.

4. Ни на одном.



2 Разрешено ли водителю внедорожного мототранспортного средства остановиться в данном месте?

1. Разрешено.

2. Запрещено.

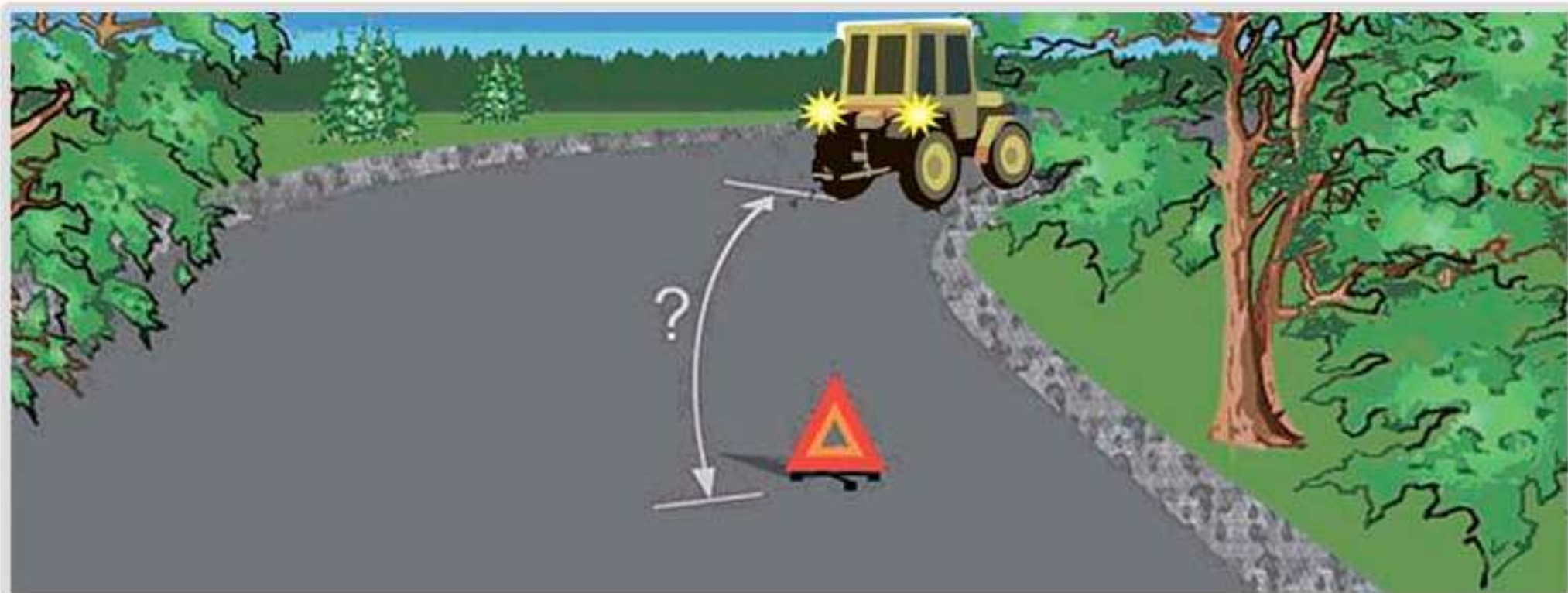


3 Разрешено ли водителю самоходной машины продолжить движение прямо?

1. Разрешено.

2. Запрещено.

3. Разрешено, если он обслуживает предприятия, находящиеся в обозначенной зоне, или граждан, проживающих в обозначенной зоне.




4 На каком расстоянии от неисправного транспортного средства водитель должен выставить знак аварийной остановки вне населенного пункта?

1. Не менее 15 м.

2. Не менее 30 м.


3. Не менее 40 м.

4. Не менее 50 м.



5 Включенный бело-лунный мигающий сигнал светофора на железнодорожном переезде:

1. Разрешает движение транспортных средств через переезд.
2. Разрешает движение после обязательной остановки у светофора.
3. Запрещает движение.



6 Разрешено ли поставить самоходную машину на стоянку в данном месте?

1. Разрешено.

2. Запрещено.


3. Разрешено для самоходных машин, обслуживающих предприятия, находящиеся в обозначенной зоне.



7 Кто проедет перекресток первым

1. Трактор.

2. Легковой автомобиль.



8 Что означает данный знак?

1. Остановка запрещена.
2. Стоянка запрещена.
3. Стоянка запрещена по четным числам месяца.
4. Стоянка запрещена по нечетным числам месяца.





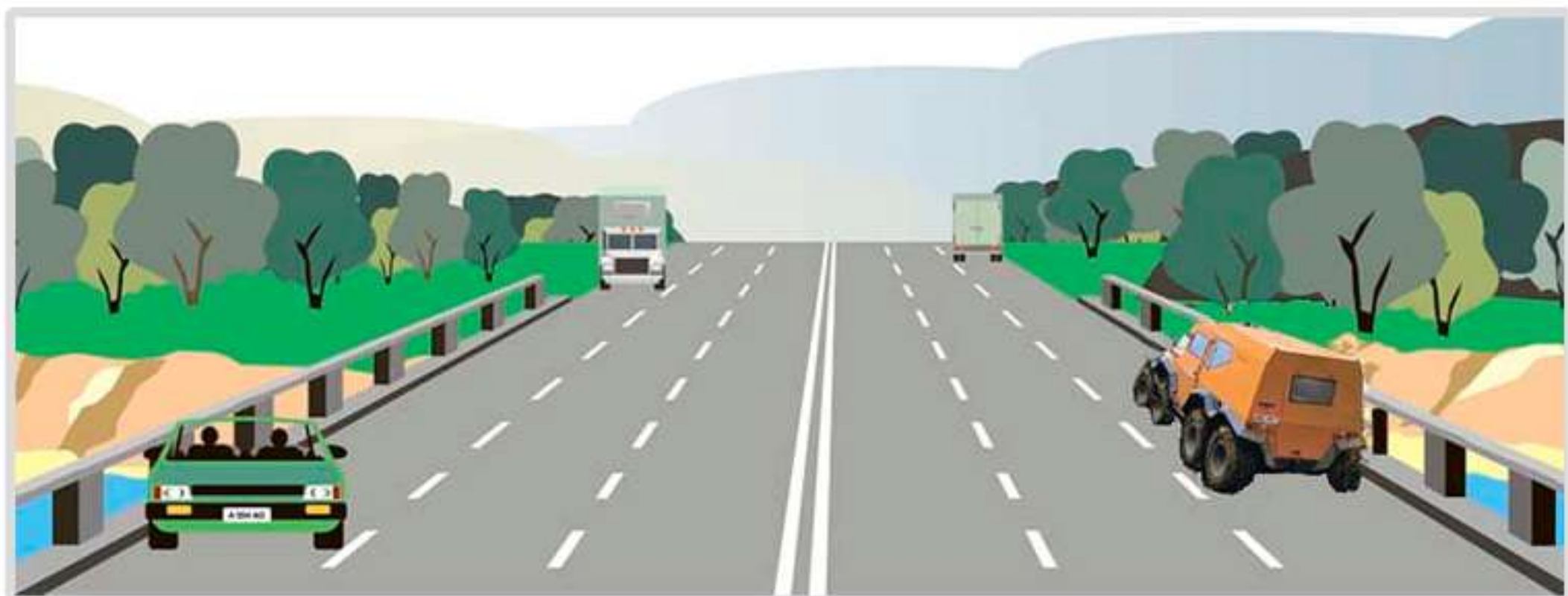
вопрос без изображения

9 Неуплата административного штрафа в срок влечет:

1. Наложение административного штрафа в двукратном размере суммы неуплаченного административного штрафа, но не менее 1000 рублей, либо административный арест на срок до пятнадцати суток, либо обязательные работы на срок до пятидесяти часов.

2. Наложение административного штрафа в двукратном размере суммы неуплаченного административного штрафа, но не менее 1000 рублей.

3. Наложение административного ареста на срок до пятнадцати суток, либо обязательные работы на срок до пятидесяти часов.



10 Разрешено ли водителю самоходной машины остановиться в данном месте?

1. Разрешено.

2. Запрещено.



**11** Что означает данная разметка?

1. На дороге три полосы для движения в одном направлении.

2. Границы полос движения, на которых осуществляется реверсивное регулирование.



12 На каком расстоянии должен устанавливаться повторный знак до начала опасного участка дороги вне населенного пункта?

1. Не менее 10 м.

2. Не менее 20 м.

3. Не менее 50 м.



A



B



C



D

13 Какие знаки означают выезд на дорогу с односторонним движением?

1. А.

2. В.

3. В и С.

4. С и D.



14 Должен ли водитель самоходной машины уступить дорогу трамваю?

1. Должен.

2. Не должен.

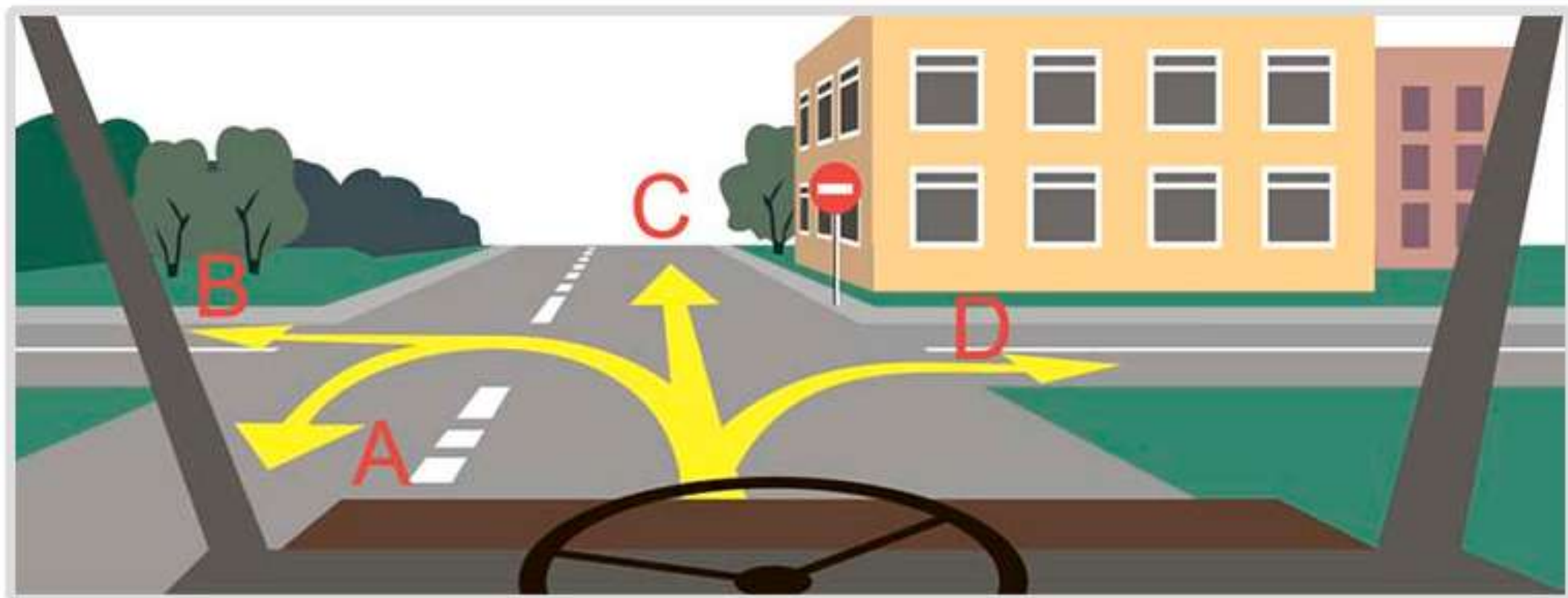


**15** Аварийная сигнализация на буксируемом механическом транспортном средстве должна быть включена:

1. Только в условиях недостаточной видимости.

et 2. Только в темное время суток.

3. Во всех случаях, когда осуществляется буксировка.



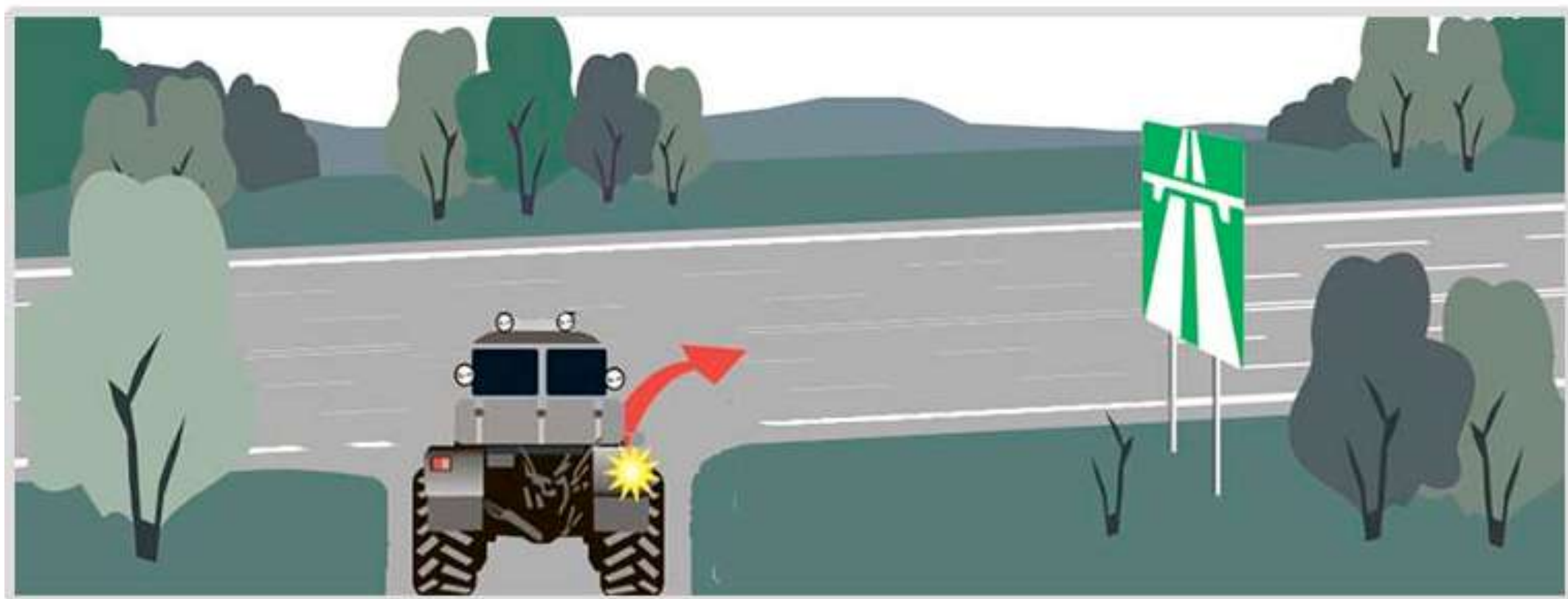
16 В каких направлениях разрешено продолжить движение?

1. В и D.

2. В, С, D.

3. В любых, кроме С.





17 Разрешено ли водителю самоходной машины продолжить движение по дороге, обозначенной данным знаком?

1. Разрешено.

2. Запрещено.

3. Разрешено в крайнем правом ряду.



18 Сколько проезжих частей имеет данная дорога?

1. Одну.

2. Две.

3. Четыре.



19 Обязаны ли Вы уступить дорогу автомобилю с включенным проблесковым маячком синего цвета и специальным звуковым сигналом?

1. Обязаны.

2. Не обязаны.



вопрос без изображения

20 Разрешено ли пострадавшему при оказании первой помощи давать лекарственные средства?

1. Запрещено.

2. Разрешено в случае крайней необходимости.

3. Разрешено.

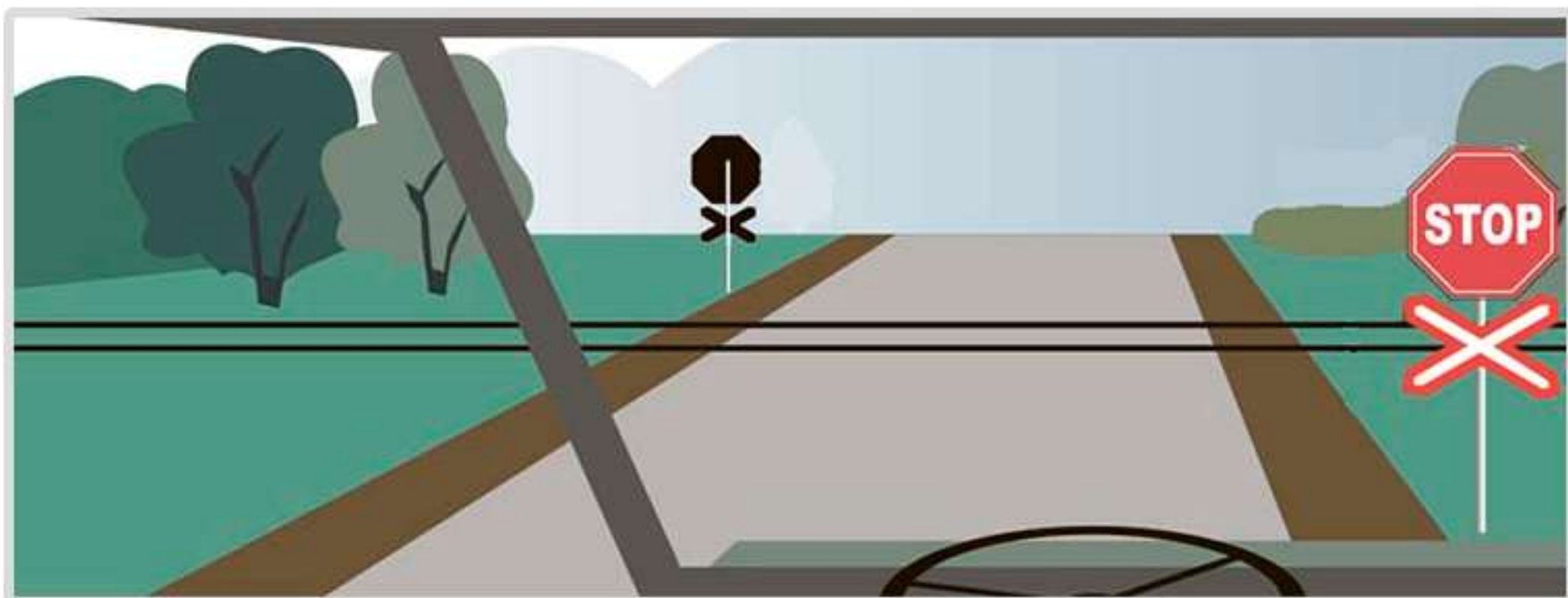


1 Что означает этот знак?

1. Место для разворота.

2. Зона для разворота - 15 м.

3. Зона, в которой разворот запрещен.



2 В каком месте Вы должны остановиться?

1. У знака «Движение без остановки запрещено».

2. За 5 м до ближайшего рельса.

3. За 10 м до ближайшего рельса.



3 Что обозначает данная вертикальная разметка?

1. Ограничение габаритной высоты транспортных средств.

2. Нижний край пролетного строения тоннелей, мостов и путепроводов.



4 Должен ли водитель самоходной машины при повороте налево уступить дорогу мотоциклу?

1. Должен.

2. Не должен.



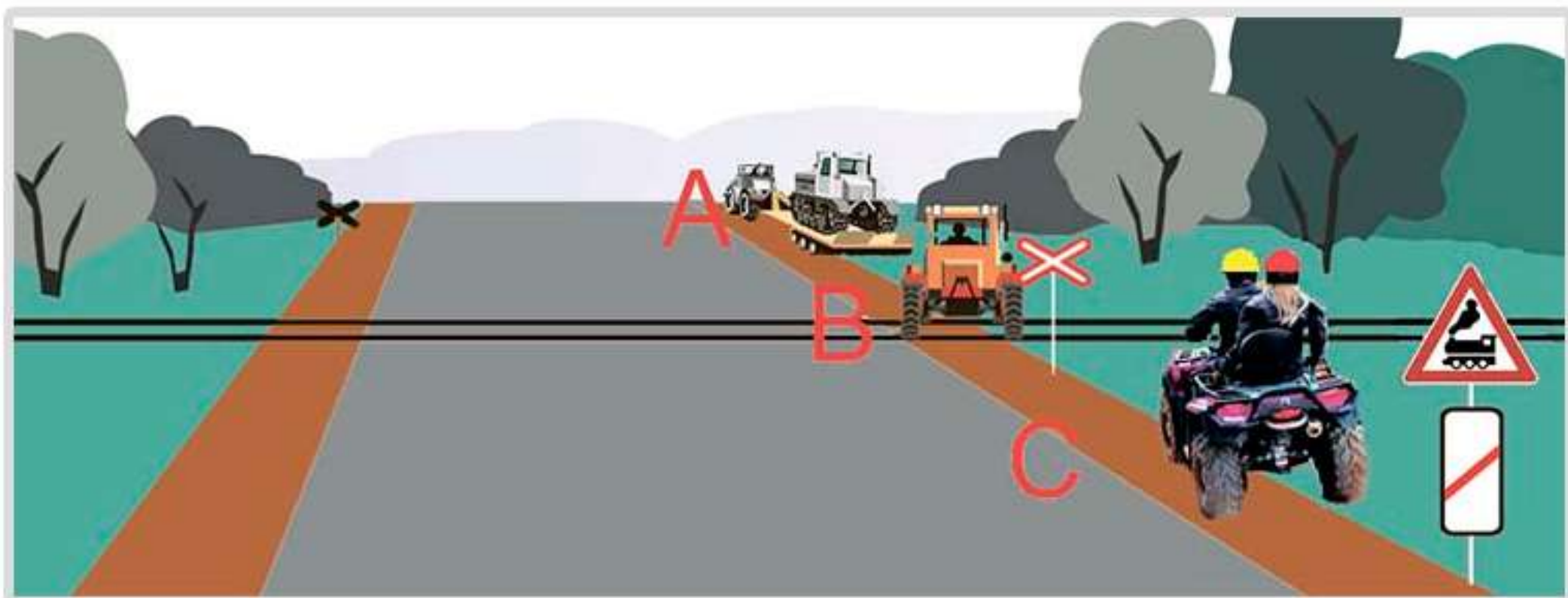


5 Разрешено ли водителю трактора с включенным проблесковым маячком оранжевого цвета совершить маневр в техническом разрыве разделительной полосы?

1. Разрешено.

2. Запрещено, так как любое движение по автомагистрали тракторам запрещено.

3. Разрешено при выполнении работ по строительству, ремонту или содержанию дорог при условии обеспечения безопасности дорожного движения.



6 В каком месте запрещена остановка транспортных средств?

1. А.

2. В.

3. В и С.

4. Во всех местах.



7 На каком расстоянии до опасного участка дороги в населенном пункте устанавливаются эти знаки?

1. 20 - 50 м.

2. 50 - 100 м.

3. 100 - 150 м.

4. 150 - 300 м.



8 Должна ли самоходная машина уступить дорогу грузовому автомобилю?

1. Должна.

2. Не должна.



9 Разрешено ли Вам начать обгон идущего впереди транспортного средства в данной ситуации?

1. Разрешено.

2. Запрещено.



10 При каком сигнале светофора водителю разрешено закончить разворот?

1. При зеленом.

2. При красном.

3. При любом.



11 Разрешена ли водителю самоходной машины остановка в данном месте?

1. Да.

2. Нет.



12 По какой траектории Вы можете продолжить движение?

1. Только А.

2. А и С.

3. А и В.

4. По любой.





13 Выезд со двора или с другой прилегающей территории считается:

1. равнозначным перекрестком.
2. неравнозначным перекрестком.
3. не считается перекрестком.



14 Преимущество при движении имеет:

1. Легковой автомобиль.
2. Самоходная машина.



вопрос без изображения

**15** Что обязан контролировать водитель перед началом и во время перевозки грузов?

1. Размещение, крепление и состояние груза во избежание его падения.
2. То, что груз не создает помехи для движения.
3. Оба перечисленных требования.



**16** Разрешено ли совершить разворот в этом месте?

1. Разрешено.

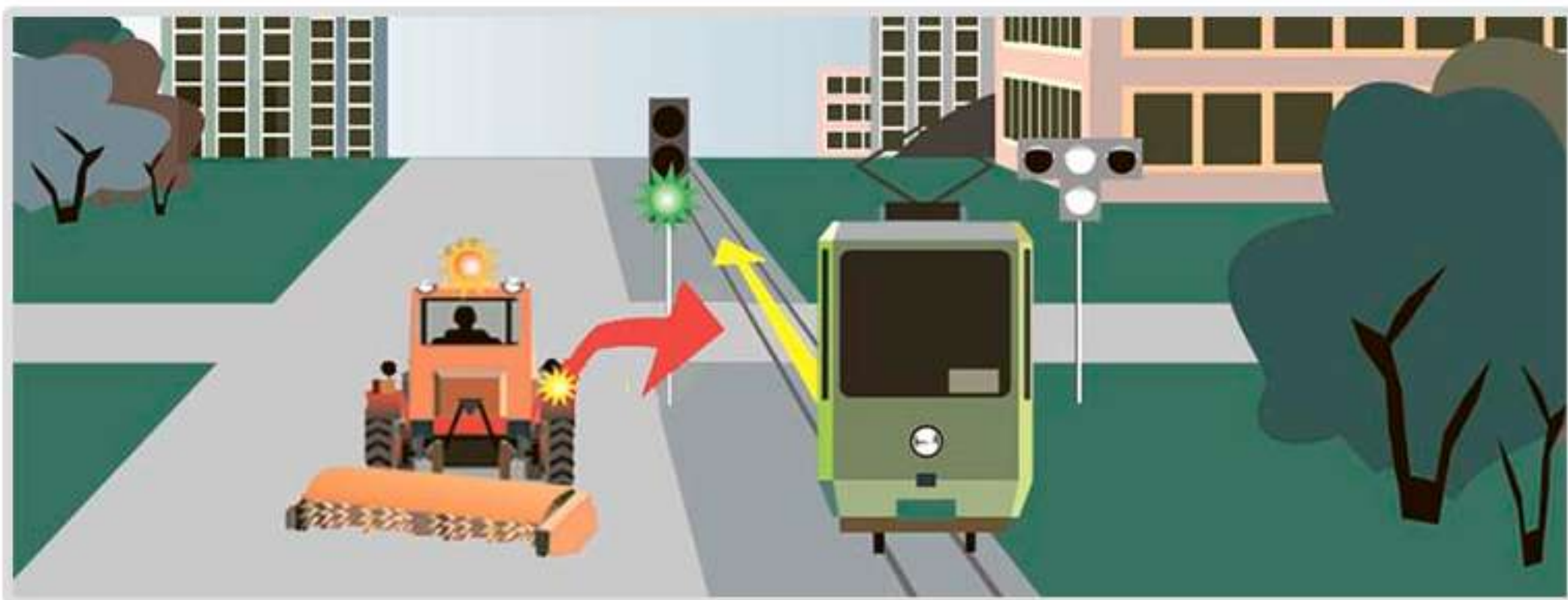
2. Запрещено, так как пересекается сплошная линия.



17 Разрешена ли водителю самоходной машины стоянка в данном месте?

1. Разрешена.

2. Запрещена.



18 Кто имеет преимущество при движении?

1. Трамвай.

2. Трактор.



19 Должен ли водитель при движении по данному участку дороги включить левый указатель поворота?

1. Должен.

2. Не должен, так как сигнал введет в заблуждение других участников движения.



вопрос без изображения

20 Разрешено ли движение задним ходом на перекрестке?

1. Разрешено.

2. Разрешено лишь при отсутствии попутных и встречных транспортных средств.

3. Запрещено.





1 Количество полос для движения на проезжей части определяется:

1. Только разметкой.
2. Только соответствующими знаками.
3. Разметкой или знаками, а если их нет, то самими водителями.



2 Кто должен уступить дорогу при взаимном перестроении?

1. Водитель комбайна.

2. Водитель трактора.



**А**



**Б**



**В**

3 Какие знаки устанавливают непосредственно перед железнодорожным переездом?

1. Только А.

2. Только Б.

3. Только В.

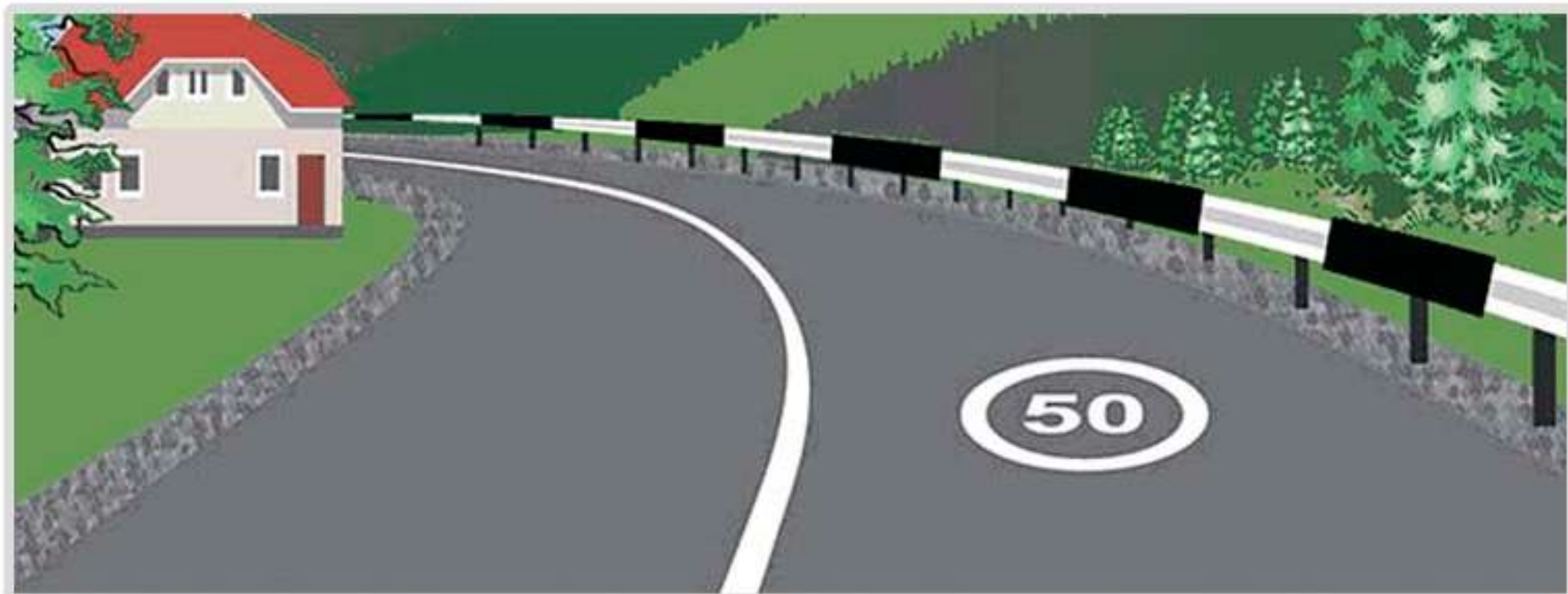
4. А, В.



4 Должны ли Вы уступить дорогу встречному грузовому автомобилю?

1. Да.

2. Нет.



5 Эта разметка обозначает:

1. Номер дороги или маршрута.

2. Рекомендуемую скорость движения на данной дороге.

3. Разрешенную максимальную скорость движения на данной дороге.



6 Разрешено ли водителю самоходной машины развернуться на перекрестке?

1. Разрешено.

2. Запрещено.



7 Как должно быть обозначено транспортное средство при дорожно-транспортном происшествии?

1. Включить аварийную сигнализацию.

2. Выставить знак аварийной остановки.

3. Включить аварийную сигнализацию, а также выставить знак аварийной остановки.



8 Что должен предпринять водитель, покидая свое место и оставляя транспортное средство в этой ситуации?

1. Принять меры, исключающие самопроизвольное движение транспортного средства.

2. Принять меры, исключающие использование транспортного средства посторонними лицами в отсутствие водителя.

3. Верно, п. 1, 2.






вопрос без изображения

**9** Административная ответственность наступает в случае нарушения правил дорожного движения или правил эксплуатации транспортного средства:

1. Повлекшее причинение легкого вреда здоровью потерпевшего либо материального ущерба.

2. Повлекшее причинение легкого или средней тяжести вреда здоровью потерпевшего.

3. Повлекшее причинение средней тяжести вреда здоровью потерпевшего либо материального ущерба.

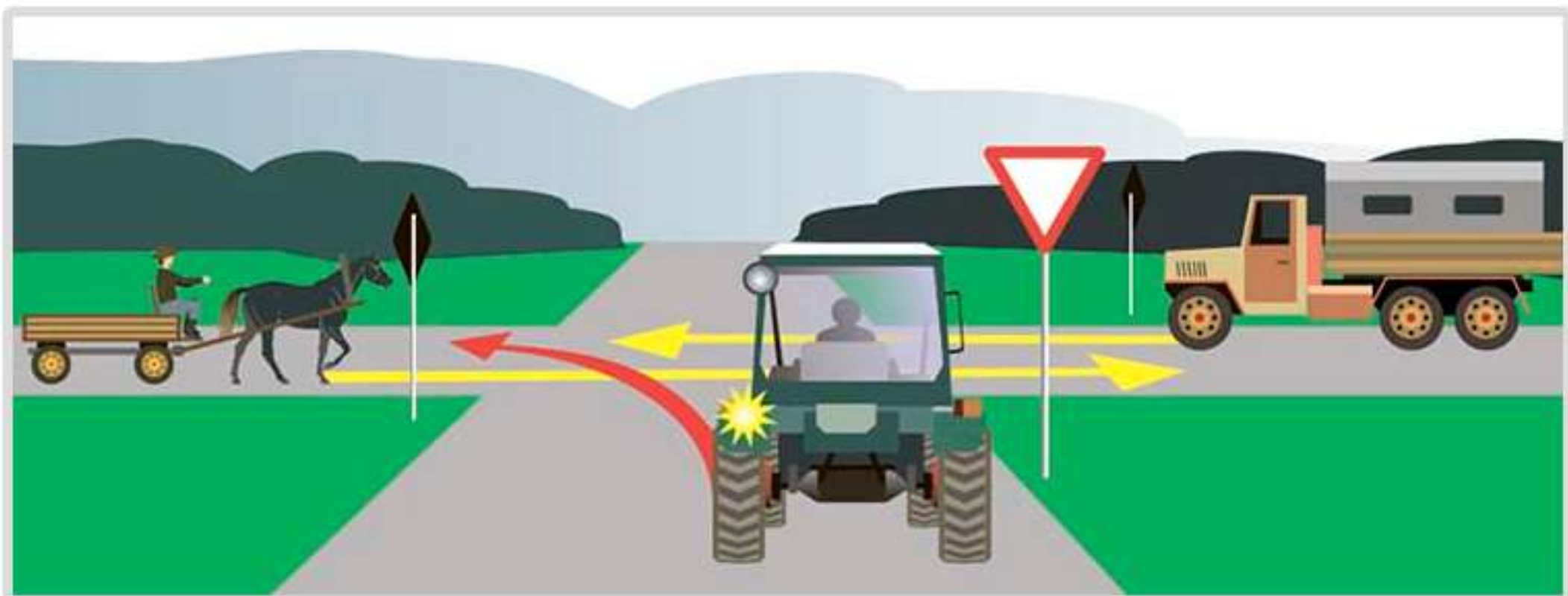


**10** Каким должно быть расстояние между транспортными средствами при буксировке на жесткой сцепке?

1. Не более 4 м.

2. Не менее 4 м.

3. 4 - 6 м.



**11** Последним перекресток проедет:

1. Грузовой автомобиль.

2. Трактор.

3. Гужевая повозка.



12 Разрешен ли обгон трактора в данном месте?

1. Разрешен.

2. Запрещен.



13 Что означает поднятая вверх рука водителя?

1. Самоходная машина повернет направо.
2. Сигнал водителя о торможении.
3. Самоходная машина будет разворачиваться.



**A**



**B**



**C**



**D**


14 Какой знак означает дорогу с полосой для маршрутных транспортных средств?

1. А.

2. В.

3. В и С.

4. А и D.



15 В каком месте водителю транспортного средства разрешена остановка?

1. А (за перекрестком).
2. В (напротив бокового проезда).
3. С (перед перекрестком).
4. В любом.
5. А и В.



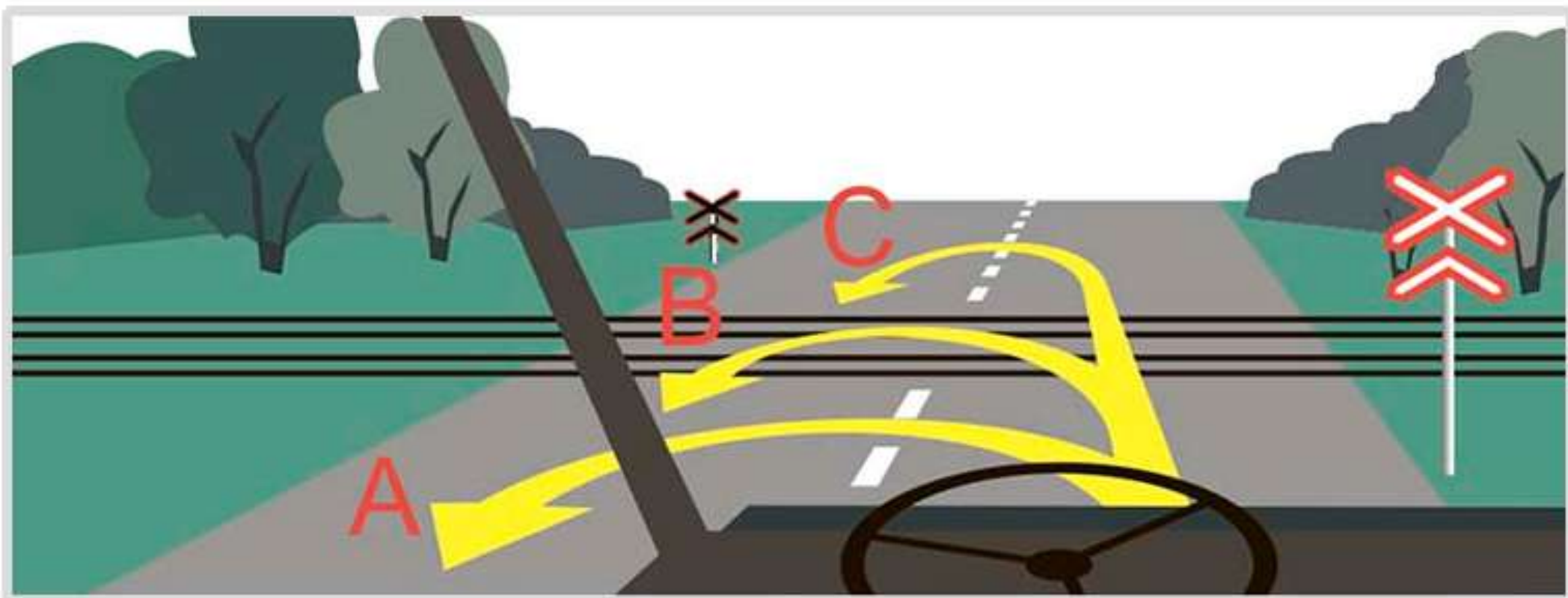
**16** Какое транспортное средство проедет перекресток вторым?

1. Легковой автомобиль.

2. Самоходная машина.

3. Комбайн.





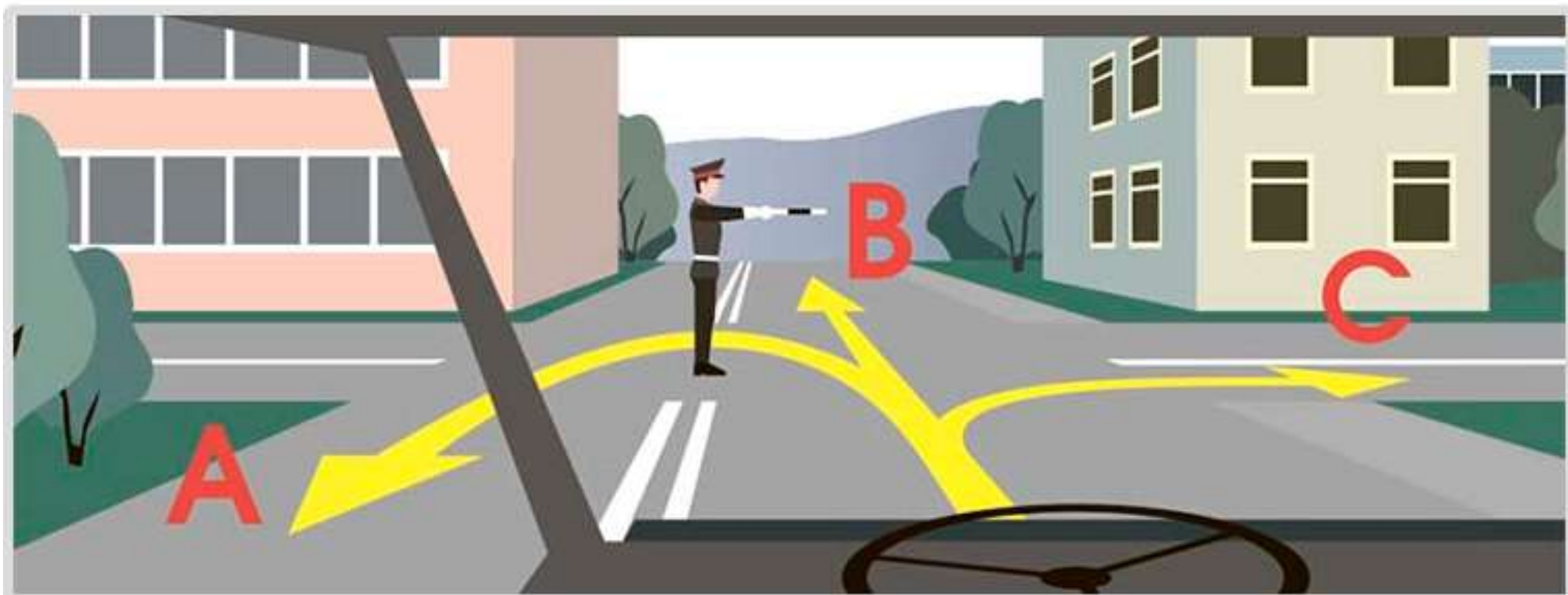
17 В каком месте разрешен разворот?

1. А.

2. В.

3. С.

4. А и С.



18 В каких направлениях разрешено продолжить движение?

1. Во всех направлениях.

2. В и С.

3. Движение запрещено.

4. С.



19 Должен ли водитель транспортного средства подать сигнал поворота при выезде с поля на укатанную дорогу?

1. Должен.

2. Не должен.

3. На его усмотрение.



20 В каком направлении разрешено продолжить движение на перекрестке?

1. В любом.

2. В и С.

3. С.



вопрос без изображения

1 Разрешается ли водителю пользоваться телефоном во время движения?

1. Разрешается.

2. Разрешается только при использовании технического устройства, позволяющего вести переговоры без использования рук.

3. Разрешается только при движении со скоростью менее 40 км/ч.

4. Запрещается.



2 Разрешено ли водителю транспортного средства продолжить движение в прямом направлении?

1. Разрешено.

2. Запрещено.

3. Разрешено при обслуживании предприятий в этой зоне.



3 В каких направлениях можно продолжить движение?

1. В любом.

2. С и D.

3. Во всех, кроме А.



вопрос без изображения

4 Какие транспортные средства запрещается эксплуатировать без двух противооткатных упоров?

1. Тракторы.

2. Самоходные дорожно-строительные.

3. Самоходные сельскохозяйственные.

4. Прицепы и полуприцепы.

5. Любые из перечисленных.





5 Что означает данная комбинация знаков?

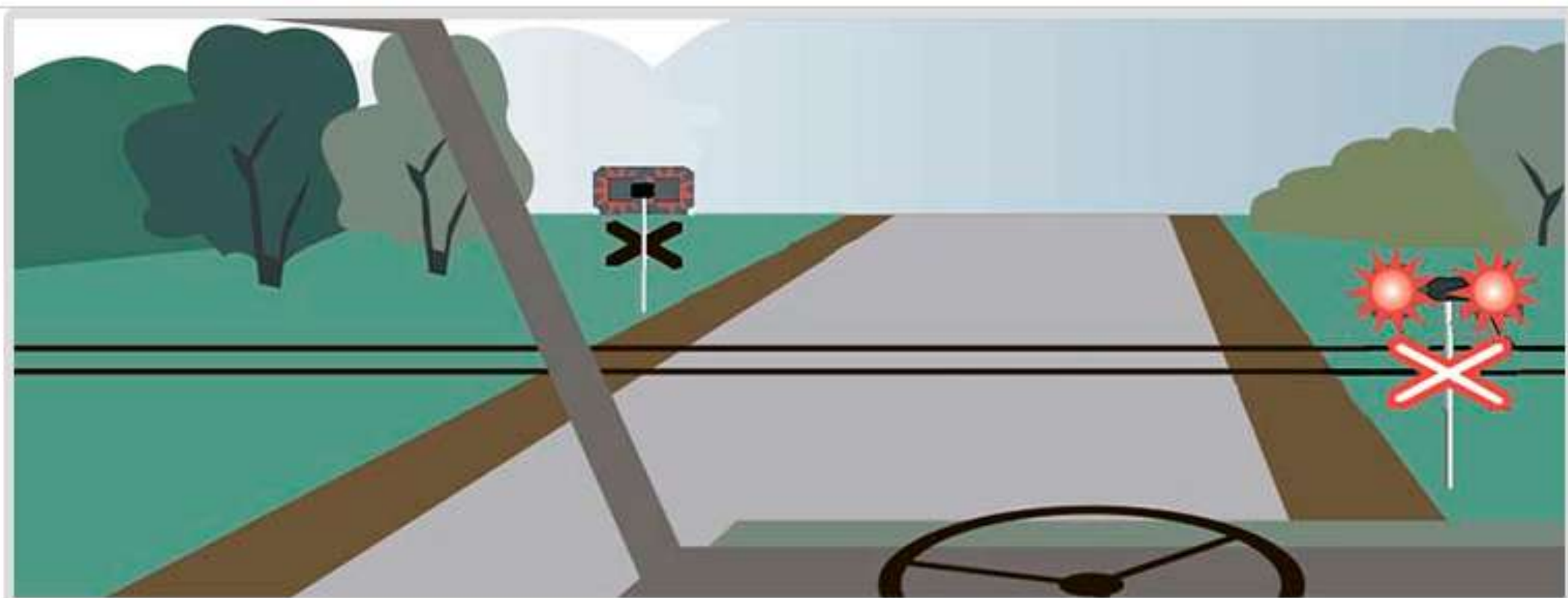
1. Указывает, что в зоне железнодорожного переезда осуществляется фиксация нарушений ПДД в автоматическом режиме.

2. Указывает, что в зоне железнодорожного переезда запрещаются фото и видеосъемка.



6 Что означает данный знак, установленный вне населенного пункта?


1. Начало дороги с закруглением.
2. Через 50-100 м опасный поворот.
3. Через 150-300 м опасный поворот.



7 Разрешено ли продолжить движение через железнодорожный переезд?

1. Разрешено при отсутствии приближающегося поезда.

2. Запрещено.



8 Что обозначает оранжевая линия разметки?

1. Границы полос в пределах перекрестка.

2. Временная линия разметки, обозначающая полосы движения в пределах перекрестка.

3. Границы полос на перекрестке, где разрешено перестроение.



9 Какое транспортное средство первым проедет перекресток?

1. Легковой автомобиль.

2. Трактор.

3. Грузовой автомобиль.



**10** Имеет ли право водитель самоходной машины, включив указатели поворота, сразу начать движение?

1. Имеет, так как гужевая повозка движется медленнее трактора, а он включил указатель поворота.

2. Должен пропустить гужевую повозку, так как включение указателя поворота не дает преимущества перед другими участниками движения.



11 В каком месте Вы должны остановиться перед перекрестком?

1. Перед знаком.


2. Перед краем пересекаемой проезжей части.



12 В каких случаях водителю разрешено выезжать на среднюю полосу движения?

1. При обгоне.
2. При объезде.
3. Для поворота налево или разворота.
4. Во всех перечисленных случаях.





13 Разрешено ли транспортному средству в данном месте выехать на поле?

1. Разрешено при отсутствии приближающегося поезда.

2. Запрещено.



14 Разрешено ли водителю самоходной машины остановиться на краю тротуара, граничащего с проезжей частью?

1. Разрешено.

2. Запрещено.

3. Разрешено, если не будет создано помех движению пешеходов.



15 Разрешено ли буксировать трактор с недействующей тормозной системой, если его масса превышает половину массы Вашего транспортного средства?

1. Разрешено.

2. Разрешено на жесткой сцепке при скорости не более 30 км/ч.

3. Запрещено.



**16** В какой последовательности проедут перекресток транспортные средства?

1. Трактор, затем грузовой автомобиль.

2. Трактор первым выезжает на перекресток, а после проезда грузового автомобиля заканчивает разворот.



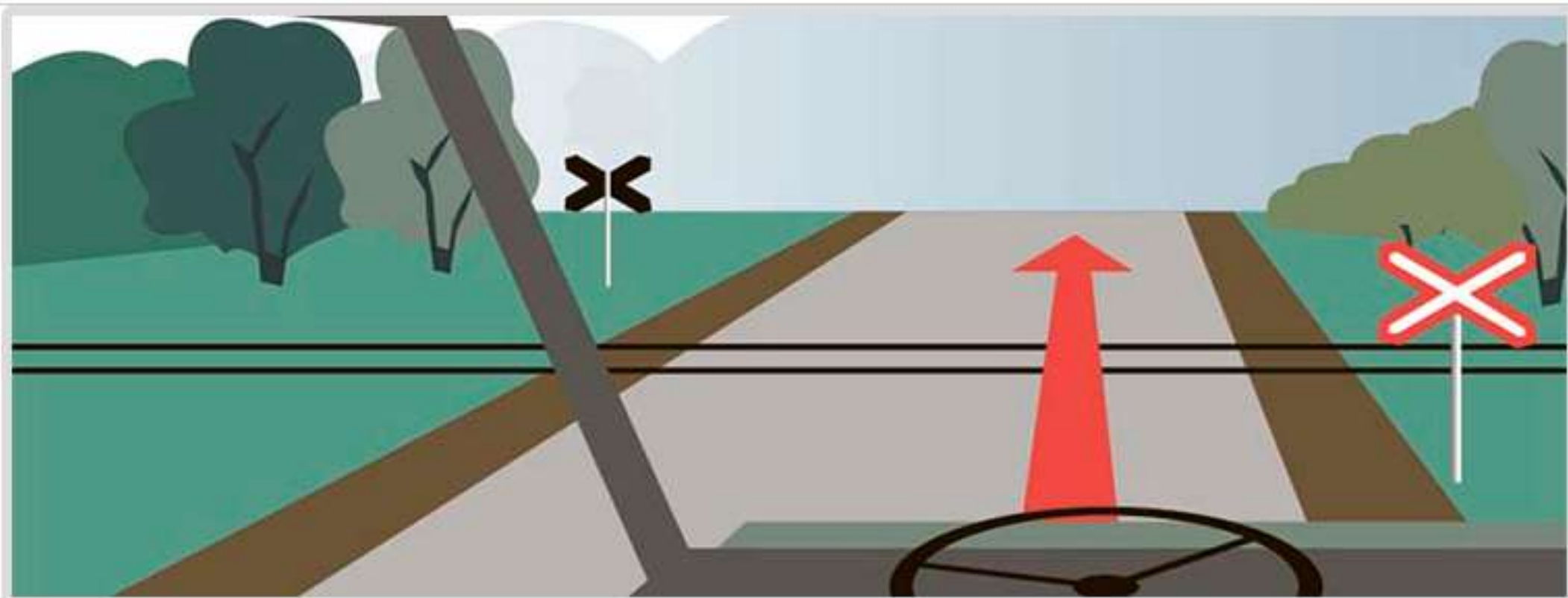
вопрос без изображения

17 Какое взыскание предусмотрено при движении транспортных средств по полосе для маршрутных транспортных средств или остановки на указанной полосе в нарушение Правил дорожного движения?

1. Административный штраф.

2. Лишение права управления транспортными средствами.

3. Возможно любое из перечисленных взысканий.



18 Разрешено ли проехать через железнодорожный переезд, если скорость движения транспортного средства менее 8 км/ч?

1. Разрешено.

2. Запрещено.

3. Разрешено только с разрешения начальника дистанции пути железной дороги.



вопрос без изображения

**19** Каким способом запрещена буксировка механических транспортных средств в гололед?

1. Методом частичной погрузки.

2. На гибкой сцепке.

3. На жесткой сцепке.



20 Нарушают ли пешеходы ПДД двигаясь по проезжей части?

1. Нарушают.

2. Не нарушают.





1 Как Вы должны поступить в данной ситуации.

1. Остановиться у стоп-линии, затем продолжить движение.

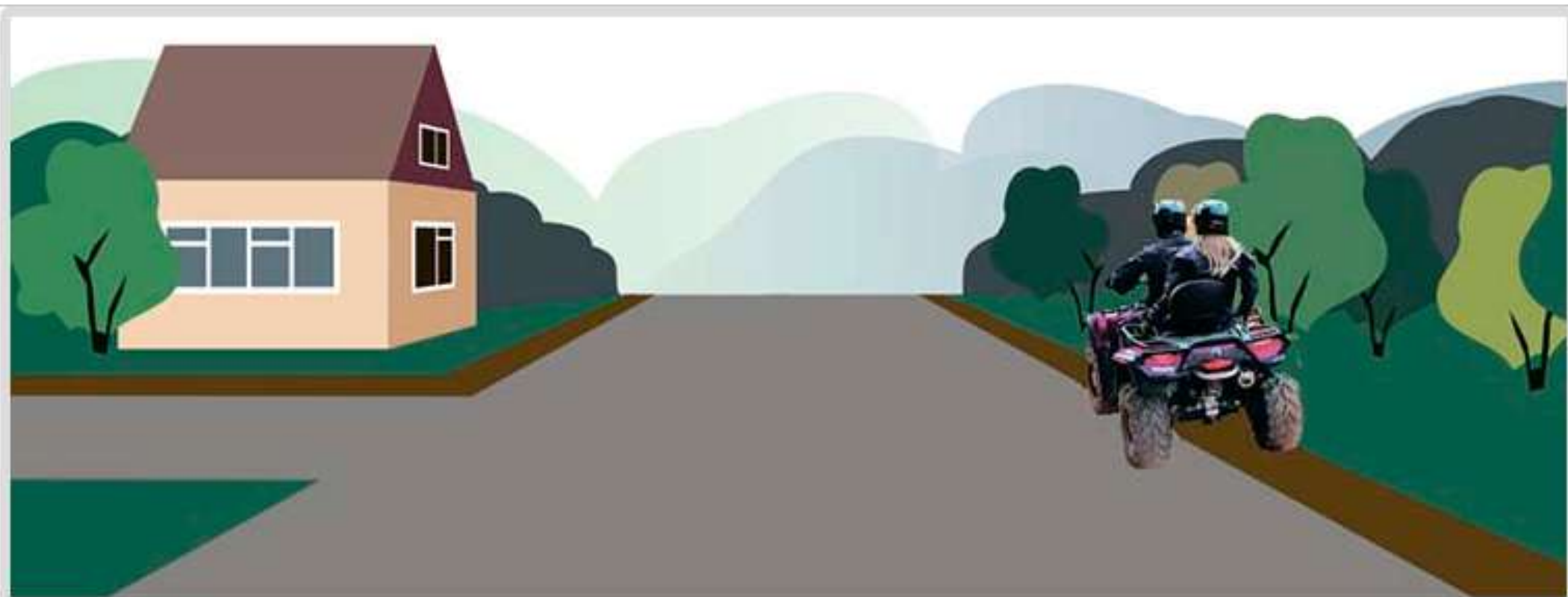
2. Продолжить движение без остановки.



2 Как должен поступить водитель трактора в данной ситуации?

1. Продолжить движение.


2. Снизить скорость, при необходимости остановиться и пропустить группу детей.



3 Разрешено ли водителю транспортного средства остановиться в данном месте?

1. Да.

2. Нет.



4 Разрешено ли Вам сквозное движение в обозначенной знаком зоне?

1. Разрешено.


2. Запрещено.



- 5 Разрешается ли Вам продолжить движение, если регулировщик поднял руку вверх после того, как Вы въехали на перекресток?

5:

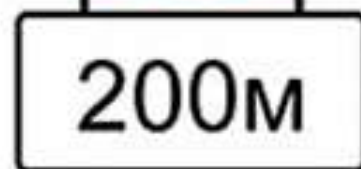
1. Запрещается.
2. Разрешается, только если Вы поворачиваете направо.
3. Разрешается.



**А**



**Б**



**В**

6 Требования каких знаков вступают в силу с места, где они установлены?

1. Только А.

2. Только Б.

3. Только В.

4. А и Б.




7 Что должен соблюдать водитель состава транспортных средств длиной более 7 м?

1. Ограничение скоростного режима.

2. Должен поддерживать между своим и движущимся впереди транспортным средством такую дистанцию, чтобы обгоняющие его транспортные средства могли без помех перестроиться на ранее занимаемую ими полосу.

3. Расположение транспортного средства на проезжей части.



8 Что обозначает разметка «А-100», нанесенная на проезжую часть дороги?

1. Расстояние до ближайшего перекрестка.
2. Расстояние до ближайшего населенного пункта.
3. Номер дороги.

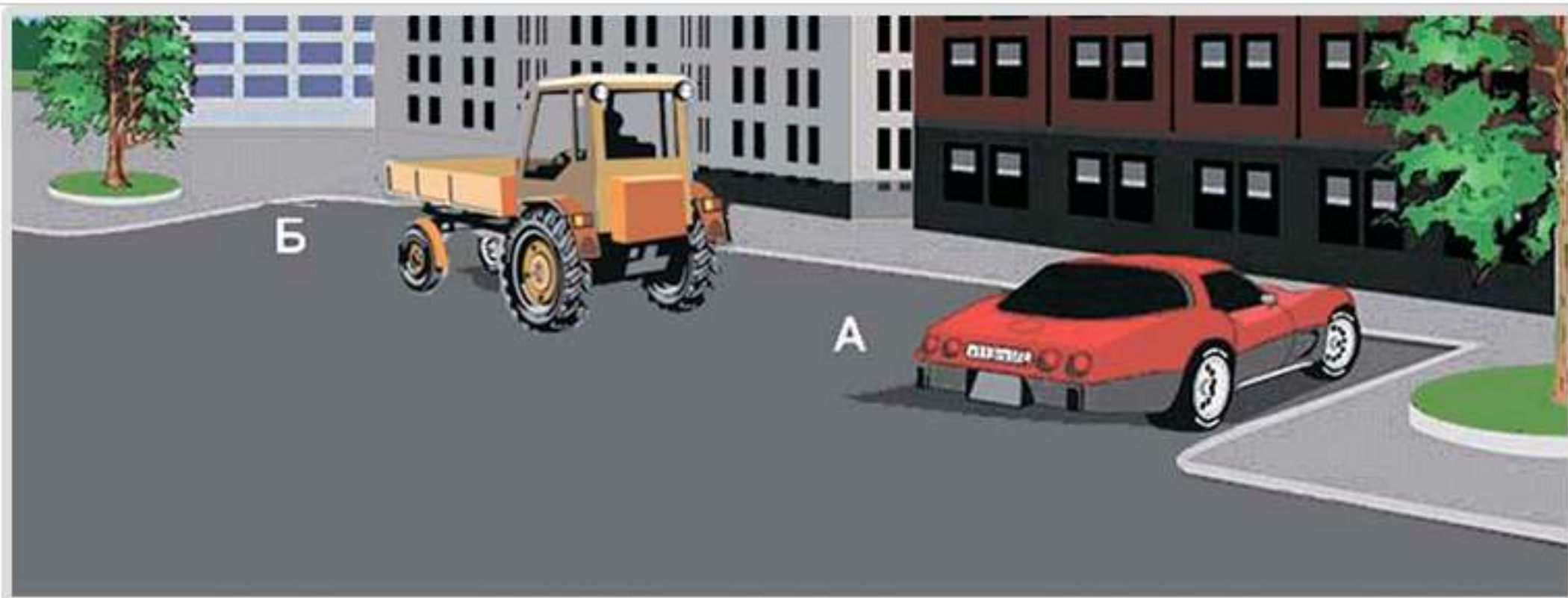




вопрос без изображения

9 Какое взыскание на граждан влечет нарушение правил или норм эксплуатации тракторов, самоходных, дорожно-строительных и иных машин и оборудования?

1. Предупреждение.
2. Наложение административного штрафа.
3. Лишение права управления транспортными средствами.
4. Одно из перечисленные взысканий.




10 Кто из водителей нарушил правила стоянки?

1. Водитель автомобиля.

2. Водитель трактора.

3. Никто не нарушил.

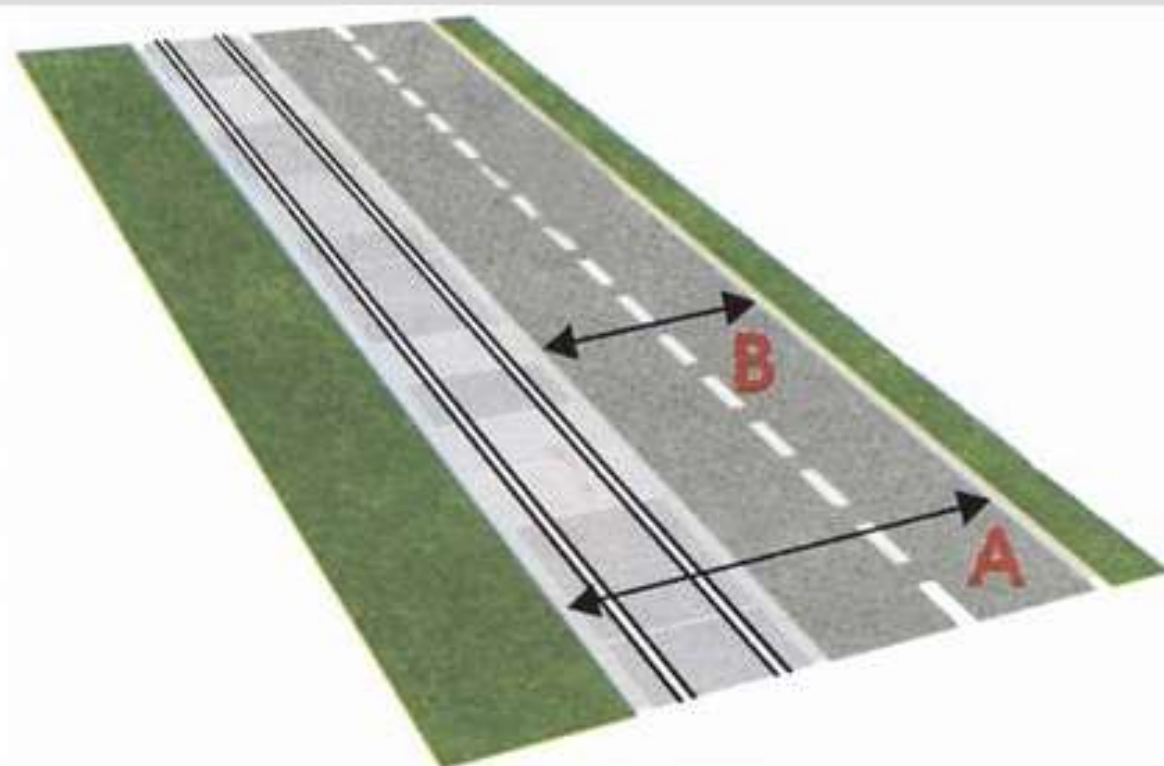


11 Обязан ли водитель, начиная движение с обочины дороги, включить указатели поворота?

1. Обязан.

2. Не обязан.

3. Обязан при наличии рядом других транспортных средств.

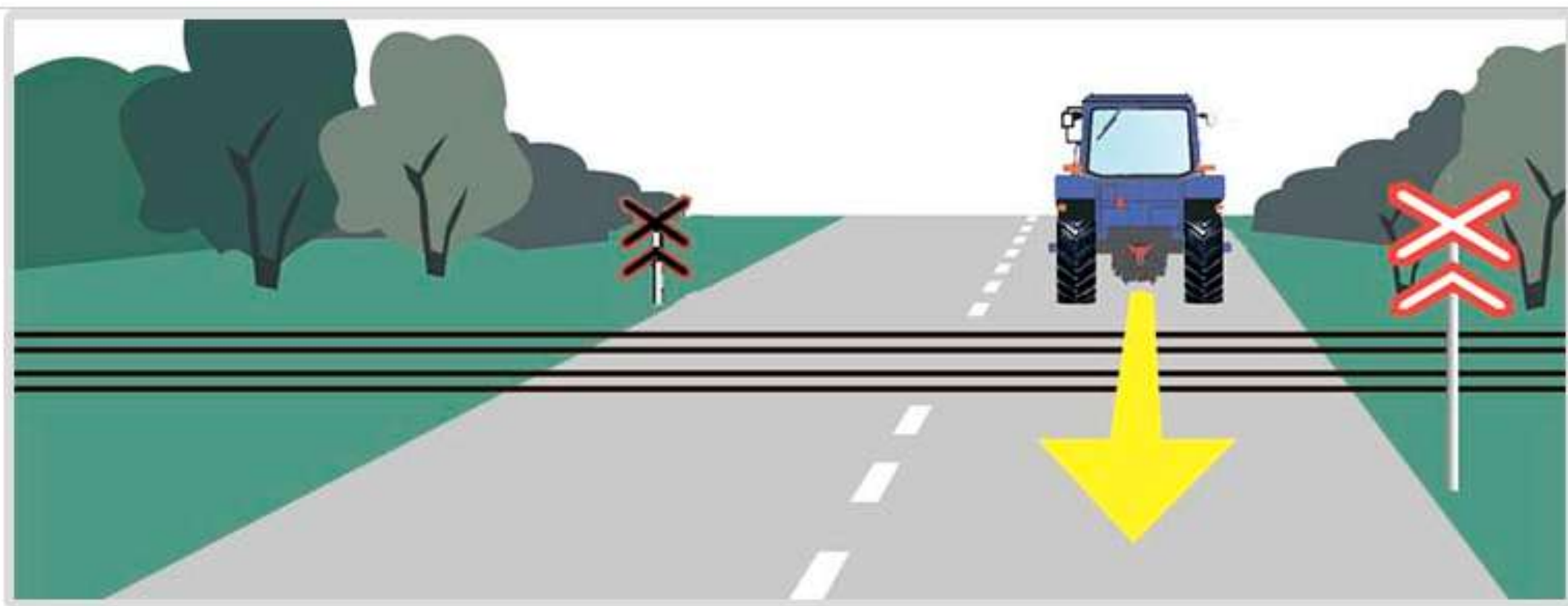


12 Какая часть дороги является проезжей частью?

1. Только А.

2. Только В.

3. А и В.



13 Разрешено ли движение задним ходом через железнодорожный переезд

1. Разрешено.

2. Запрещено.



14 При повороте налево водитель трактора:

1. Имеет право проехать первым.
2. Должен пропустить трамвай.



**A**



**B**



**C**

15 На каком рисунке изображен знак железнодорожного переезда со шлагбаумом?

1. А.

2. А и С.

3. В.

4. С.



**16** Каким способом должно быть обозначено буксируемое транспортное средство при неисправной аварийной световой сигнализации?

1. Должны быть включены внешние световые приборы.
2. На задней части должен быть закреплен знак аварийной остановки.
3. На задней части должен быть закреплен знак «Прочие опасности».





17 Разрешено ли водителю самоходной машины остановиться в данном месте в населенном пункте?

1. Разрешено.

2. Запрещено.



**18** На каком расстоянии необходимо переключить дальний свет фар на ближний?

1. Не менее чем за 150 м.

2. Не менее чем за 300 м.

3. По усмотрению водителя.



**19** Какое транспортное средство имеет преимущество в движении в населенных пунктах?

1. Трактор, движущийся без изменения направления по своей полосе.
2. Автобус, начинающий движение от обозначенной остановки.



вопрос без изображения

**20** Характерными признаками сотрясения мозга являются:

1. Головная боль, тошнота и рвота, потеря сознания.
2. Покраснение кожных покровов, учащенное дыхание.
3. Сонливость, вялость, потемнение в глазах, учащенное сердцебиение.



1 Обязан ли водитель трактора уступить дорогу грузовому автомобилю при его перестроении?

1. Обязан.

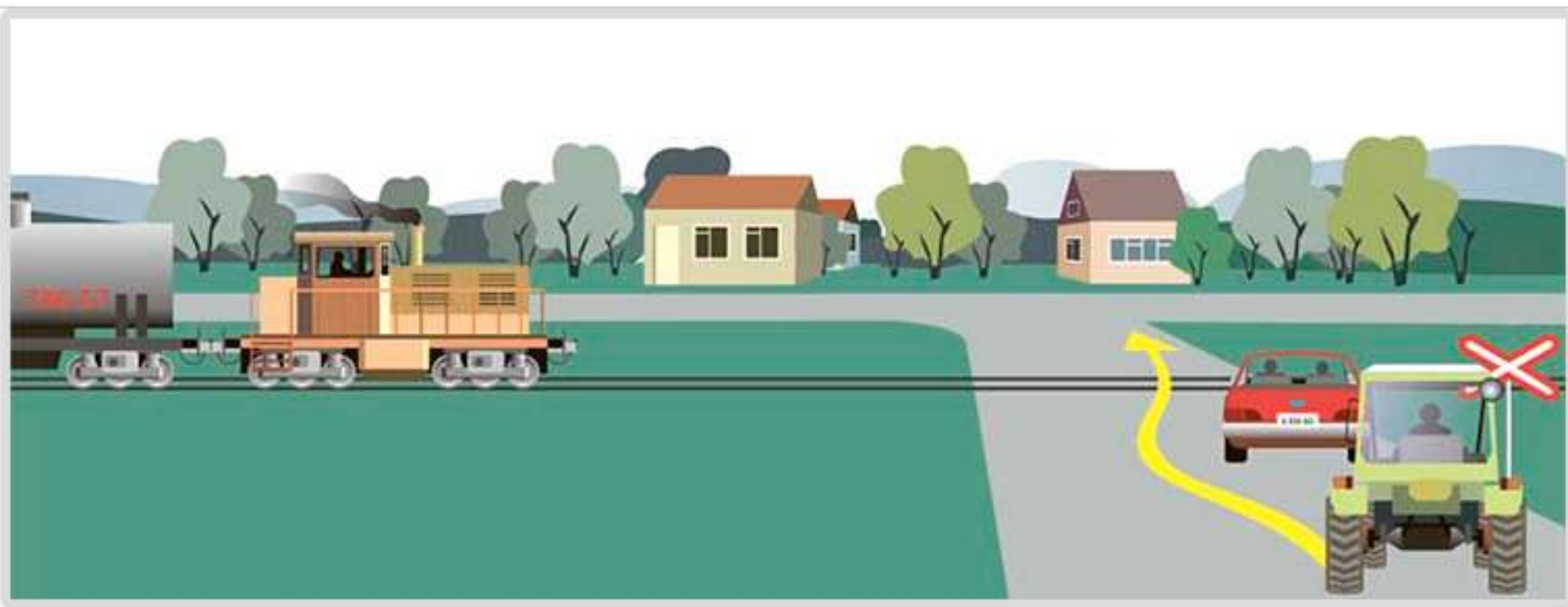
2. Не обязан.



2 Разрешен ли обгон трактора в данном месте?

1. Разрешен.

2. Запрещен.



3 Разрешено ли водителю трактора объехать стоящий перед железнодорожным переездом легковой автомобиль?

1. Разрешено.

2. Запрещено.



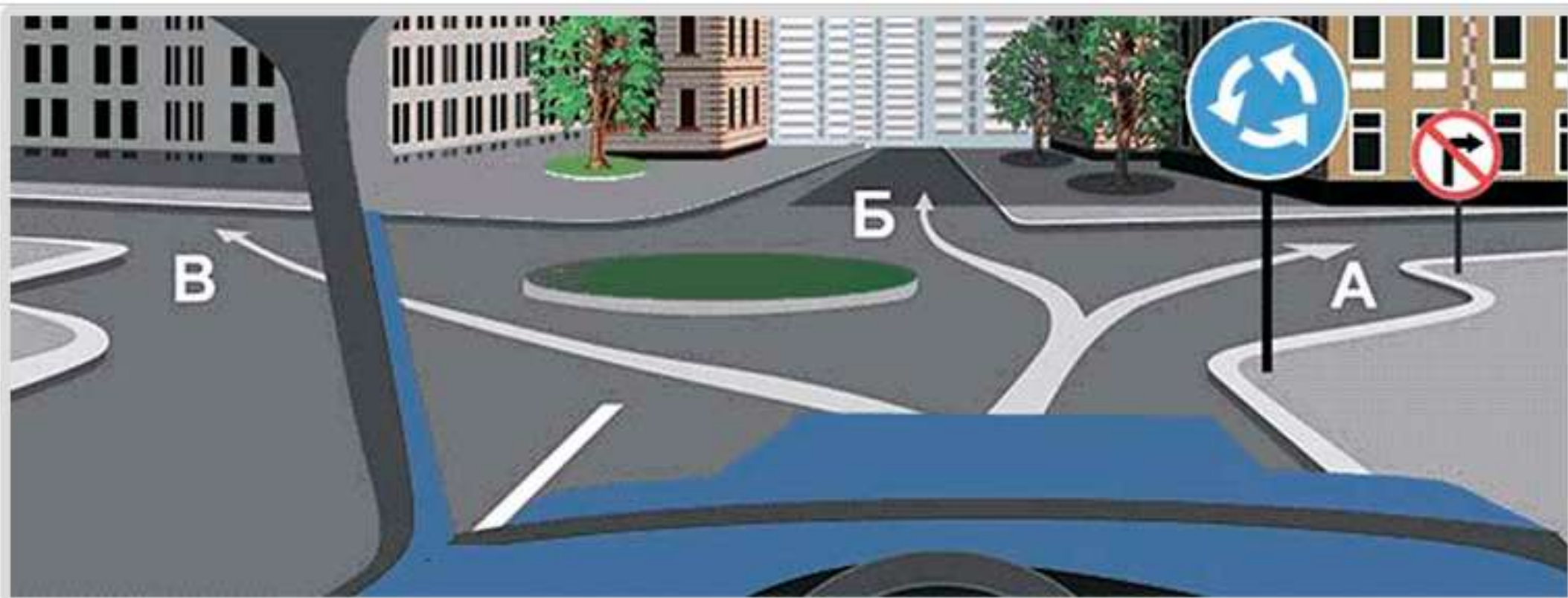
4 С какой полосы Вы должны совершить поворот налево?

1. С крайней правой.

2. Со средней.

3. С любой.





5 В каких направлениях разрешено продолжить движение?

1. Только А.

2. Только Б.

3. Только В.

4. Во всех направлениях.



6 Сколько перекрестков изображено на рисунке?

1. Один.

2. Два.

3. Четыре.



**А**



**Б**



**В**



**Г**

7 Действие каких знаков распространяется только до ближайшего перекрестка?

1. А и В.

2. Б и Г.

3. В и Г.

4. Всех указанных знаков.



**А**



**Б**

8 На каком рисунке изображена дорога с разделительной полосой?

1. На рисунке А

2. На рисунке Б.

3. На обоих рисунках.

4. Ни на одном.



9 Разрешено ли водителю транспортного средства выехать на железнодорожный переезд, если за ним образовался затор?

1. Разрешено.

2. Запрещено.

3. Разрешено при отсутствии поезда в пределах видимости.

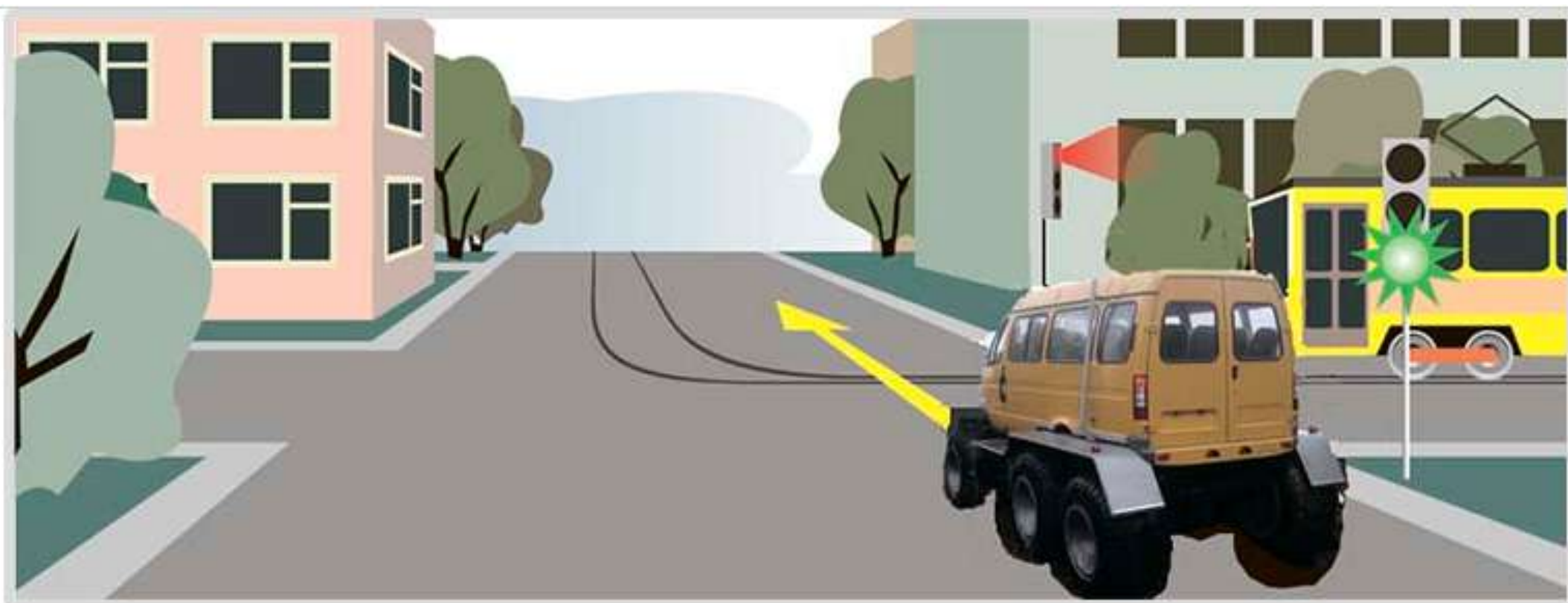


10 Разрешен ли разворот на указанном участке дороги?

1. Разрешен.

2. Запрещен.

3. Разрешен только при видимости дороги более 100 м.



11 Должен ли водитель самоходной машины уступить дорогу трамваю?

1. Должен.

2. Не должен.



вопрос без изображения

**12** При отсутствии каких предметов запрещается эксплуатировать трактор?

1. Аптечки.

2. Огнетушителя.

3. Знака аварийной остановки.

4. Противооткатных упоров.

5. При отсутствии любого предмета из перечисленного.

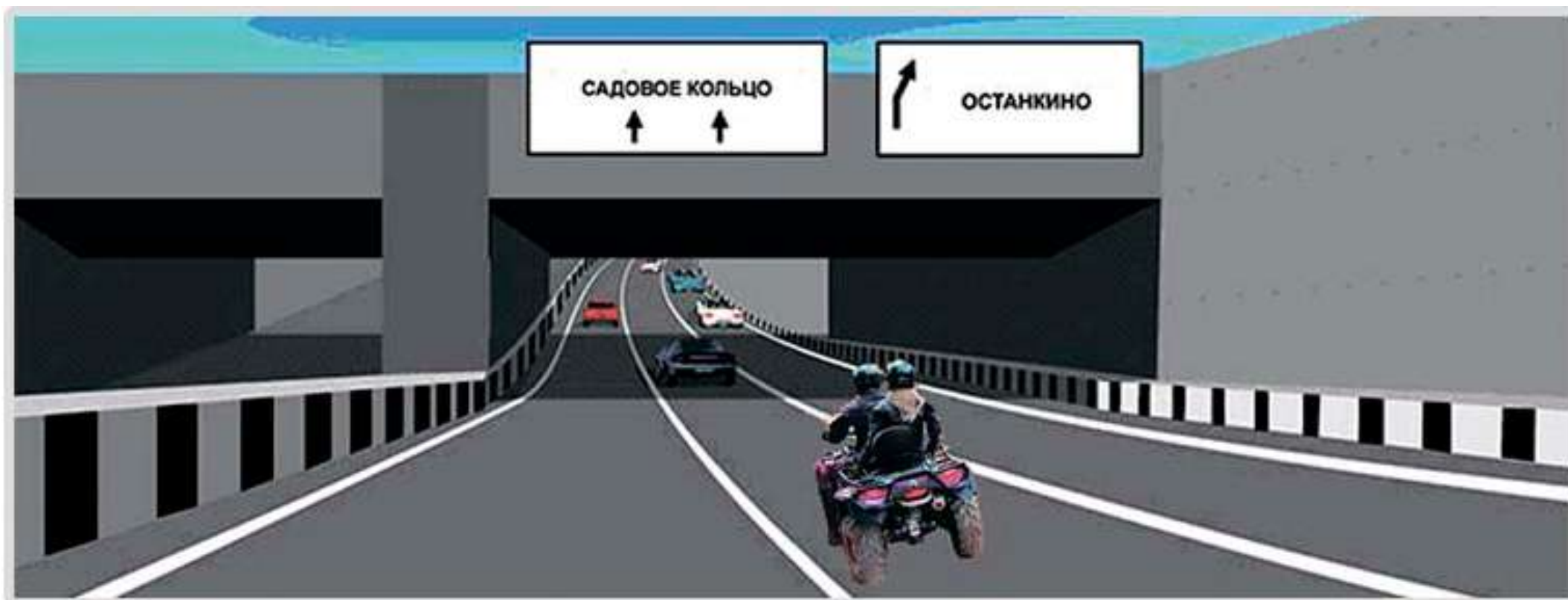




13 Водитель какого транспортного средства имеет преимущество при движении?

1. Трактора.

2. Грузового автомобиля.



14 Данная вертикальная разметка:

1. Запрещает стоянку транспортных средств.
2. Запрещает остановку транспортных средств.
3. Обозначает бордюры на опасных участках дорог.



15 Кто из водителей имеет преимущество в движении?

1. Водитель трактора с включенным проблесковым оранжевым маячком.
2. Водитель легкового автомобиля с включенным проблесковым маячком синего цвета и специальным звуковым сигналом.



16 Каким должно быть расстояние между транспортными средствами при буксировке на гибкой сцепке?

1. 2 - 4 м.

2. 4 - 6 м.

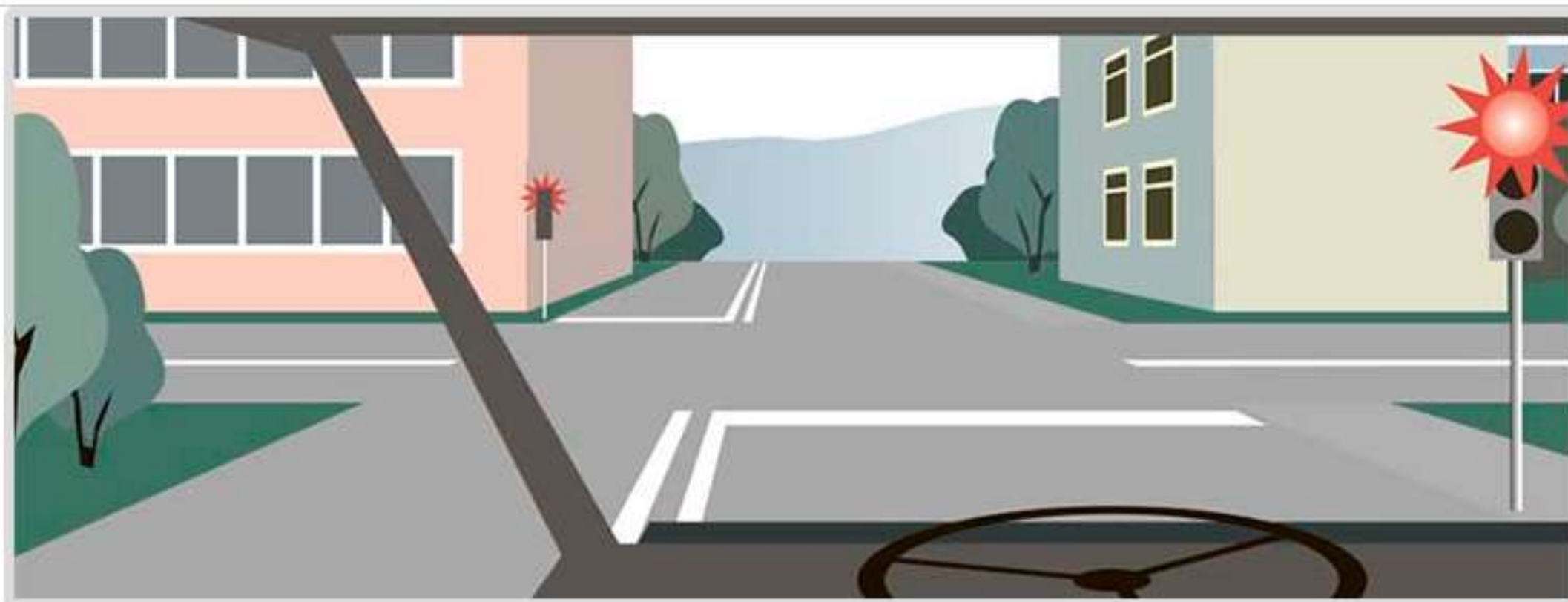
3. 6 - 8 м.

4. Не менее 6 м.



17 Какие внешние световые приборы должны быть включены при въезде в тоннель?

1. Габаритные огни.
2. Аварийная световая сигнализация.
3. Ближний или дальний свет фар.



18 В каком месте должен остановиться водитель при запрещающем сигнале светофора?


1. Перед светофором.
2. Перед пересекаемой проезжей частью.
3. Перед стоп-линией.



19 Разрешено ли Вам на перекрестке обогнать водителя мотоцикла, у которого включена аварийная сигнализация?

1. Разрешено.

2. Запрещено.



20 Нарушил ли водитель правила перевозки грузов?

1. Нарушил, так как выступающий сзади груз не обозначен знаком «Крупногабаритный груз».

2. Не нарушил.

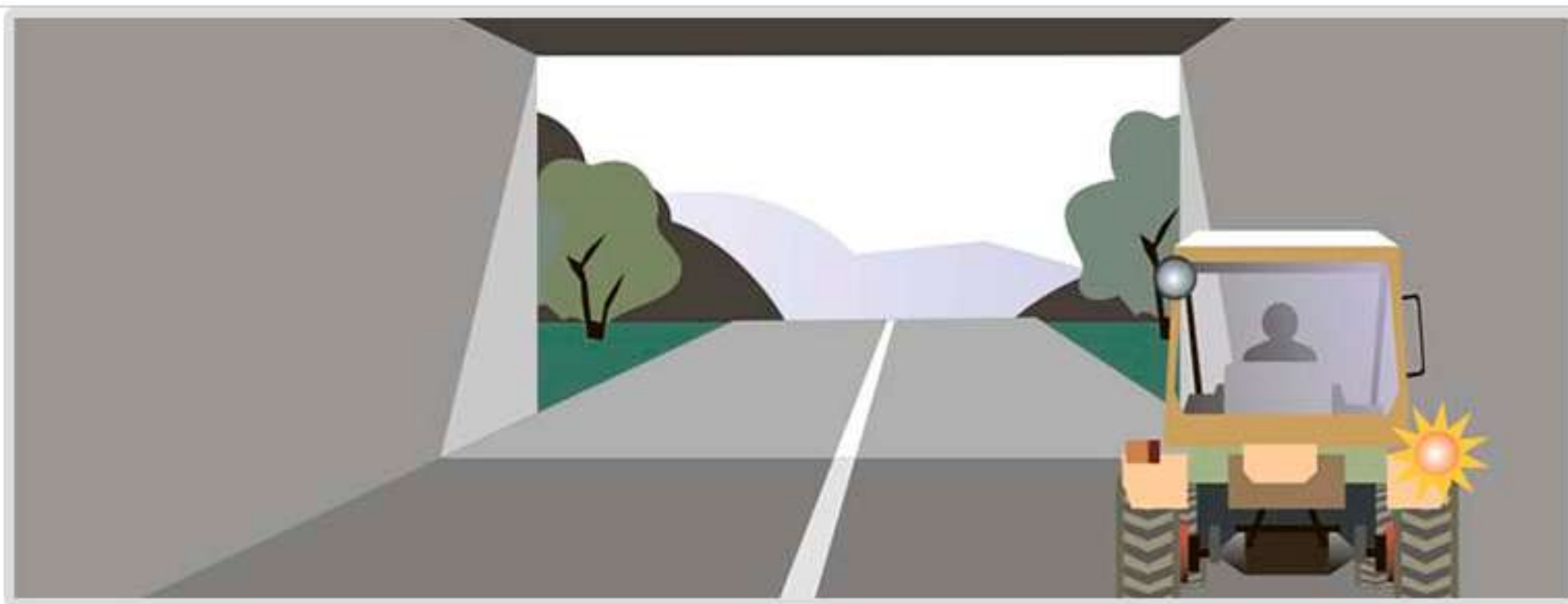




1 Первым проедет перекресток:

1. Легковой автомобиль.

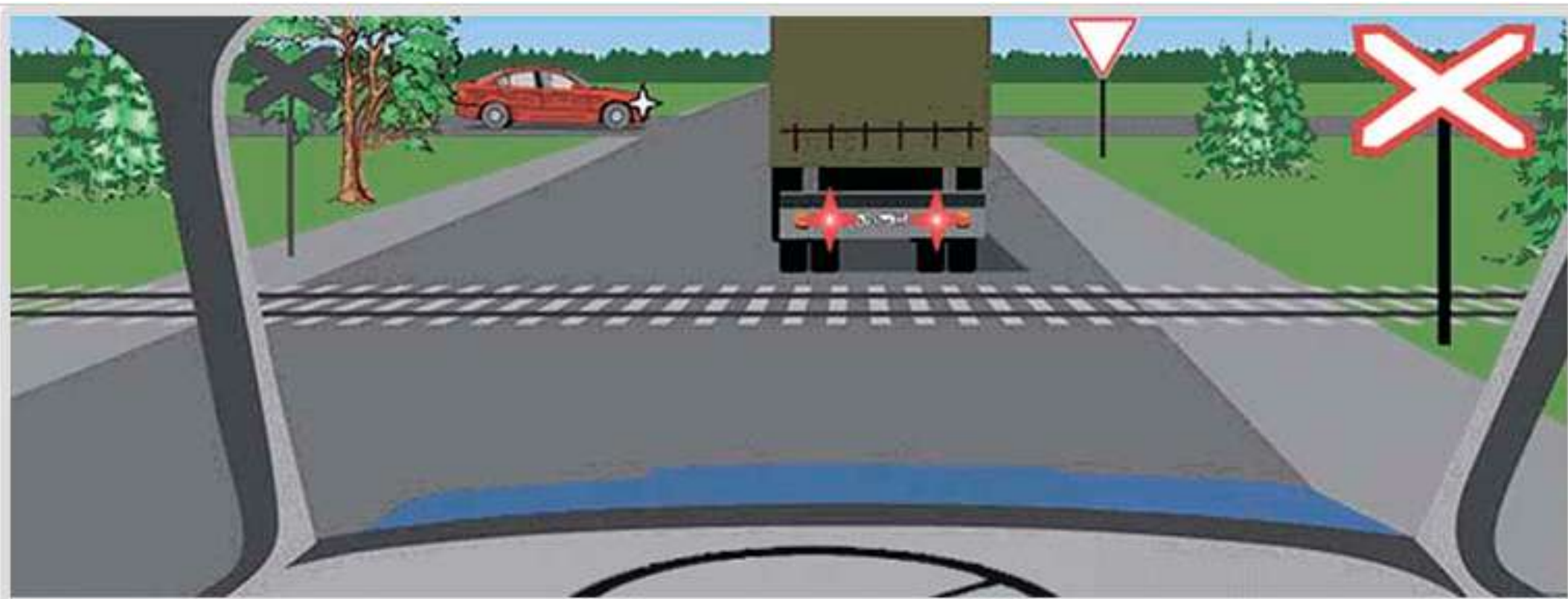
2. Трактор.



2 Разрешена ли остановка под эстакадой?

1. Разрешена.

2. Запрещена.



3 Разрешено ли продолжение движения через железнодорожный переезд?

1. Разрешено.

2. Разрешено при отсутствии приближающегося поезда.

3. Запрещено.



4 Как Вы должны поступить, если идущее впереди транспортное средство замедлило свой ход перед пешеходным переходом?

1. Продолжить движение с прежней скоростью.

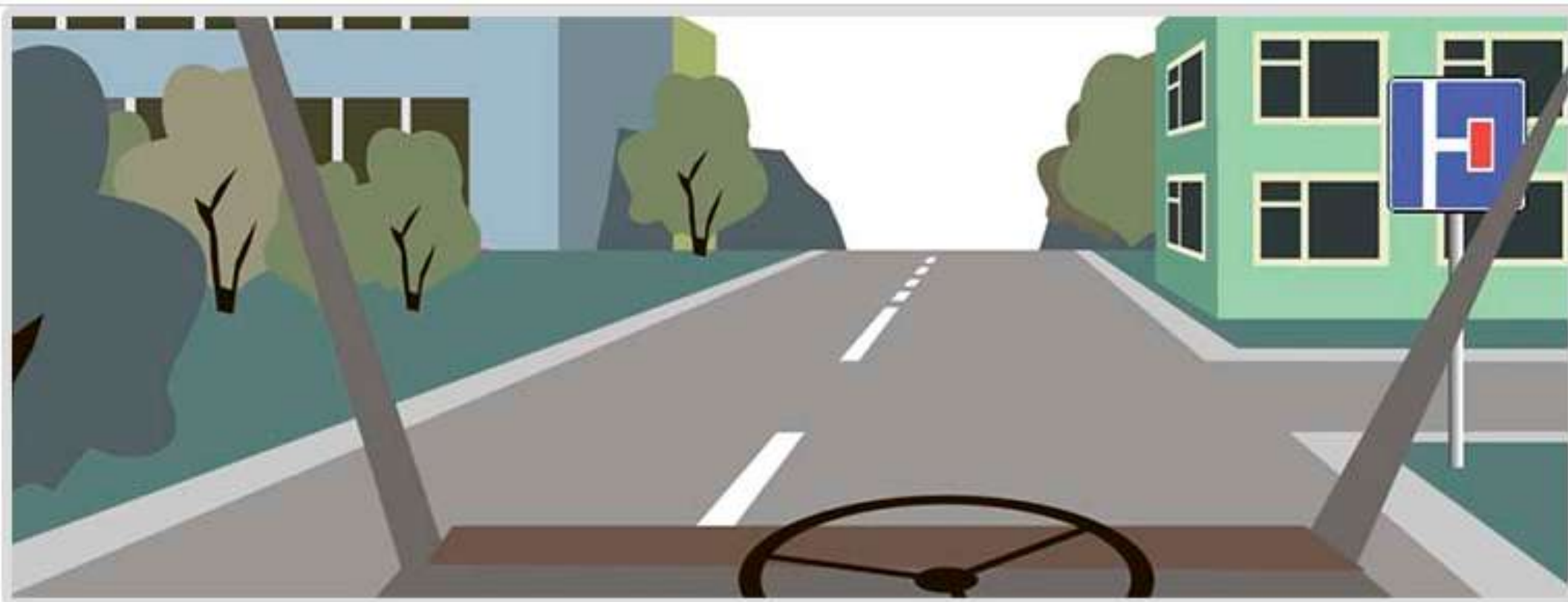
2. Снизить скорость или остановиться и продолжить движение, уступив дорогу пешеходам.



вопрос без изображения

5 Разрешен ли обгон на перекрестках?

1. Разрешен только на нерегулируемых перекрестках.
2. Разрешен только на нерегулируемых перекрестках при движении по главной дороге.
3. Запрещен во всех случаях.



6 Что означает данный знак?

1. Дорогу, не имеющую сквозного проезда.
2. На перекрестке справа второстепенная дорога.
3. Направление, где движение запрещено.



вопрос без изображения

7 В каких случаях водители могут быть привлечены к уголовной ответственности за нарушение правил дорожного движения или правил эксплуатации транспортных средств?

1. Повлекшее по неосторожности причинение тяжкого вреда здоровью человека.

2. Повлекшее по неосторожности причинение повреждений вне зависимости от степени тяжести, а также нанесение крупного материального ущерба.

3. Повлекшее по неосторожности причинение тяжкого вреда здоровью человека или смерть человека.



8 Как должен поступить водитель трактора в данной ситуации?

1. Совершить объезд грузового автомобиля с правой стороны.
2. Подождать, пока грузовой автомобиль совершит маневр, затем продолжить движение.
3. Совершить обгон грузового автомобиля с левой стороны.





**A**



**B**



**C**



**D**

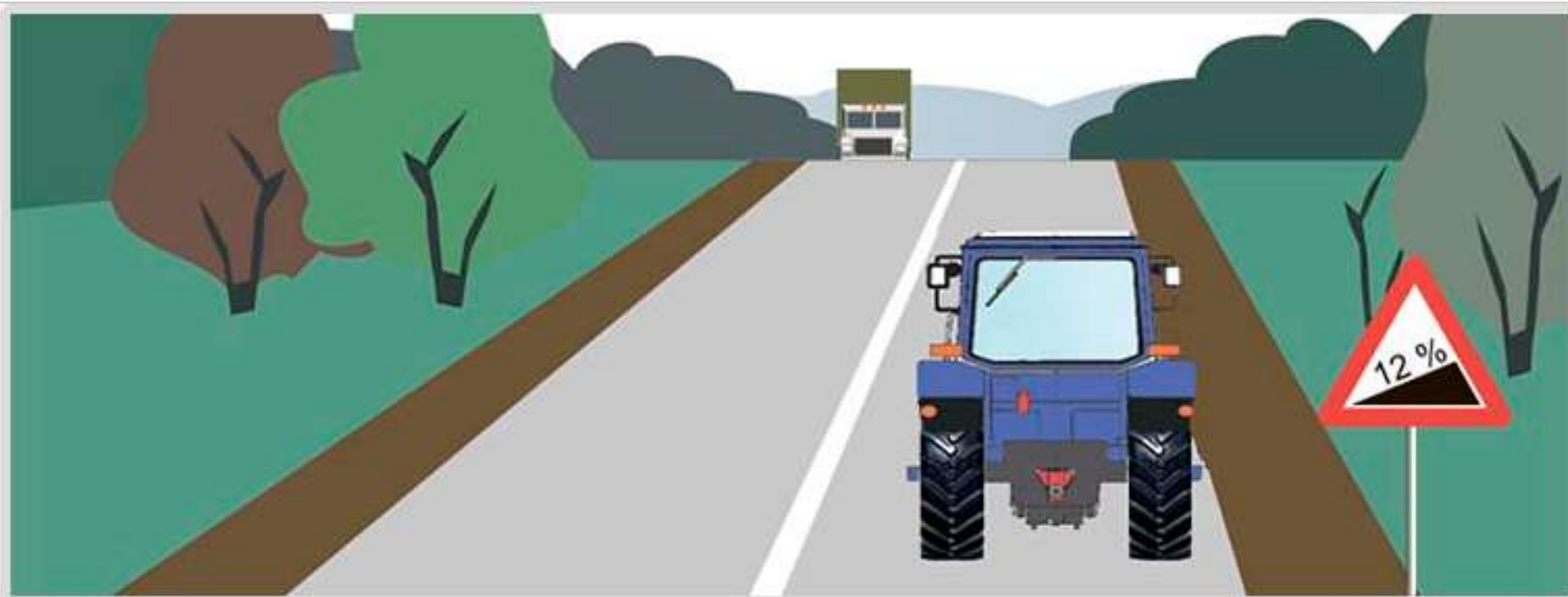
9 Какой знак разрешает объезд препятствия только справа?

1. A.

2. A и B.

3. C.

4. D.

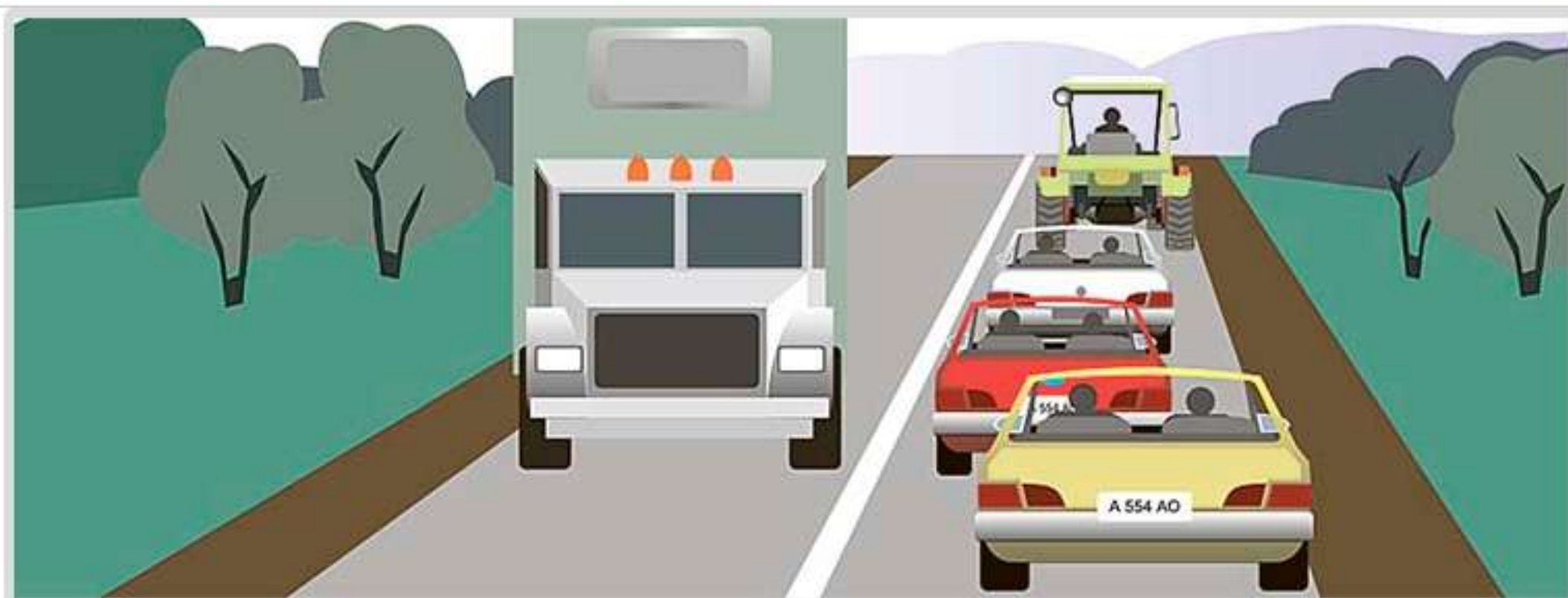


**10** В каких местах запрещена остановка транспортных средств?

1. На обочине дороги вблизи подъема.

2. На обочине дороги при крутом спуске или подъеме.

3. На проезжей части вблизи выпуклых переломов продольного профиля дороги при видимости дороги менее 100 м, хотя бы в одном направлении.



**11** Как должен поступить водитель тихоходного транспортного средства, если при движении вне населенного пункта за ним скопились транспортные средства?

1. Продолжить движение.

2. Принять как можно правее, а при необходимости остановиться и пропустить следующие за ним транспортные средства.



12 Разрешено ли Вам продолжить движение?

1. Разрешено прямо и направо.
2. Разрешено в любом направлении.
3. Запрещено.



13 В каких направлениях разрешено продолжить движение?

1. А.

2. В.

3. С.

4. А и В.

5. В любых из указанных направлений.



14 Разрешено ли водителю трактора продолжить движение по данной полосе при выполнении уборочных работ?

1. Разрешено.

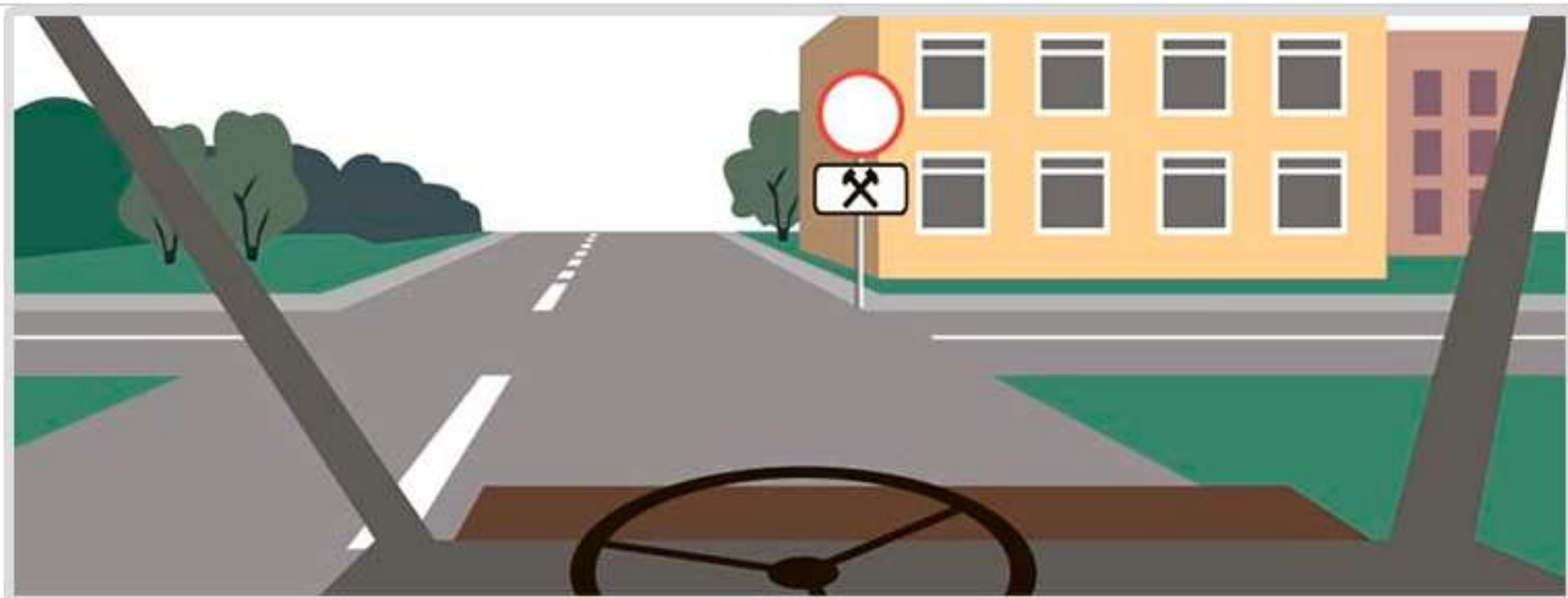
2. Запрещено.



вопрос без изображения

**15** Значения каких дорожных знаков отменяются сигналами светофора?

1. Знаков приоритета.
2. Запрещающих знаков.
3. Предписывающих знаков.
4. Всех перечисленных.



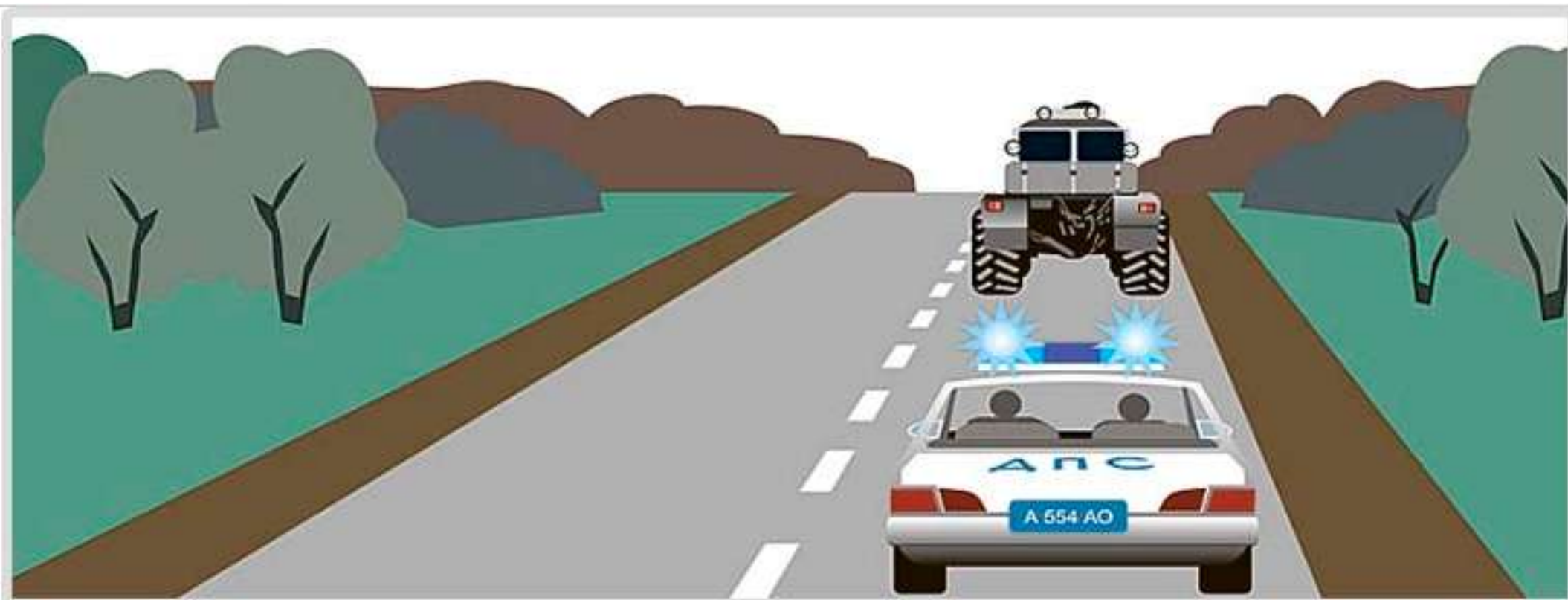
**16** Разрешено ли продолжить движение через перекресток прямо, если Вы не живете и не работаете в зоне действия данного знака?

1. Разрешено.

2. Запрещено.

3. Разрешено в субботние, воскресные и праздничные дни.






**17** Должен ли водитель транспортного средства уступить дорогу автомобилю с включенным проблесковым маячком синего цвета и невключенной специальной звуковой сигнализацией?

1. Должен.

2. Не должен.



18 Что обозначают знаки?

1. Через 500 м - опасные повороты.

2. Через 150-300 м - участок дороги с опасными поворотами протяженностью 500 м.



19 Разрешена ли Вам подача звукового сигнала в населенном пункте?

1. Разрешена.

2. Запрещена.

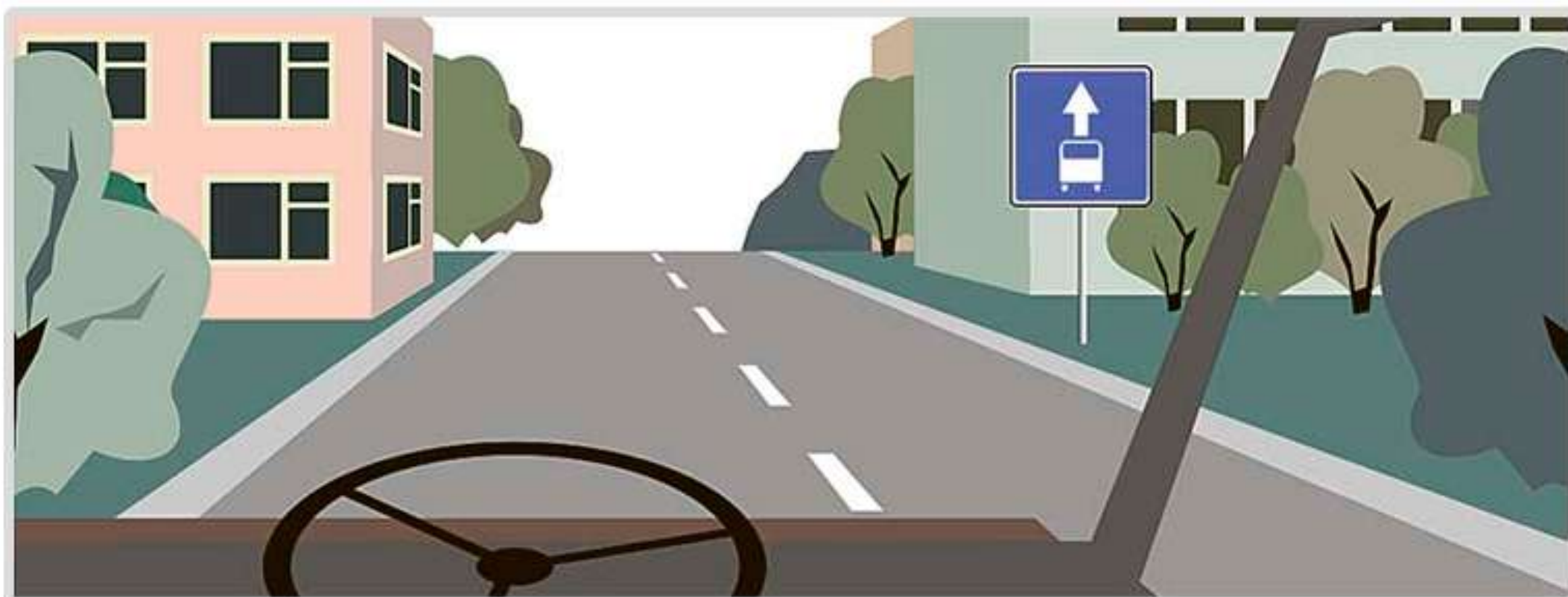
3. Разрешена для предотвращения ДТП.



вопрос без изображения

**20** Как остановить кровотечение при ранении некрупных артерий и вен?

1. Наложить жгут ниже места ранения.
2. Наложить жгут выше места ранения.
3. Наложить давящую повязку на место ранения.

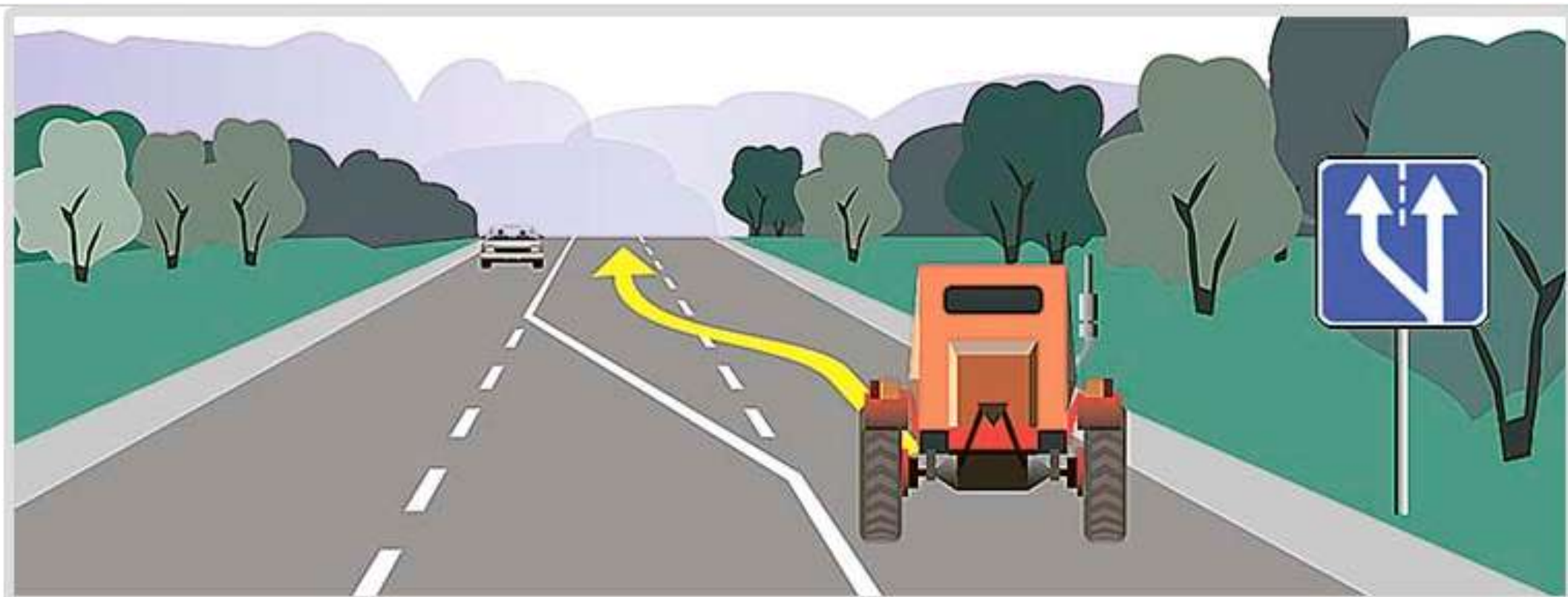


1 Разрешается ли останавливаться на полосе, обозначенной этим знаком?

1. Разрешается.

2. Запрещается.

3. Разрешается для посадки и высадки пассажиров, если это не создаст помех маршрутным транспортным средствам.

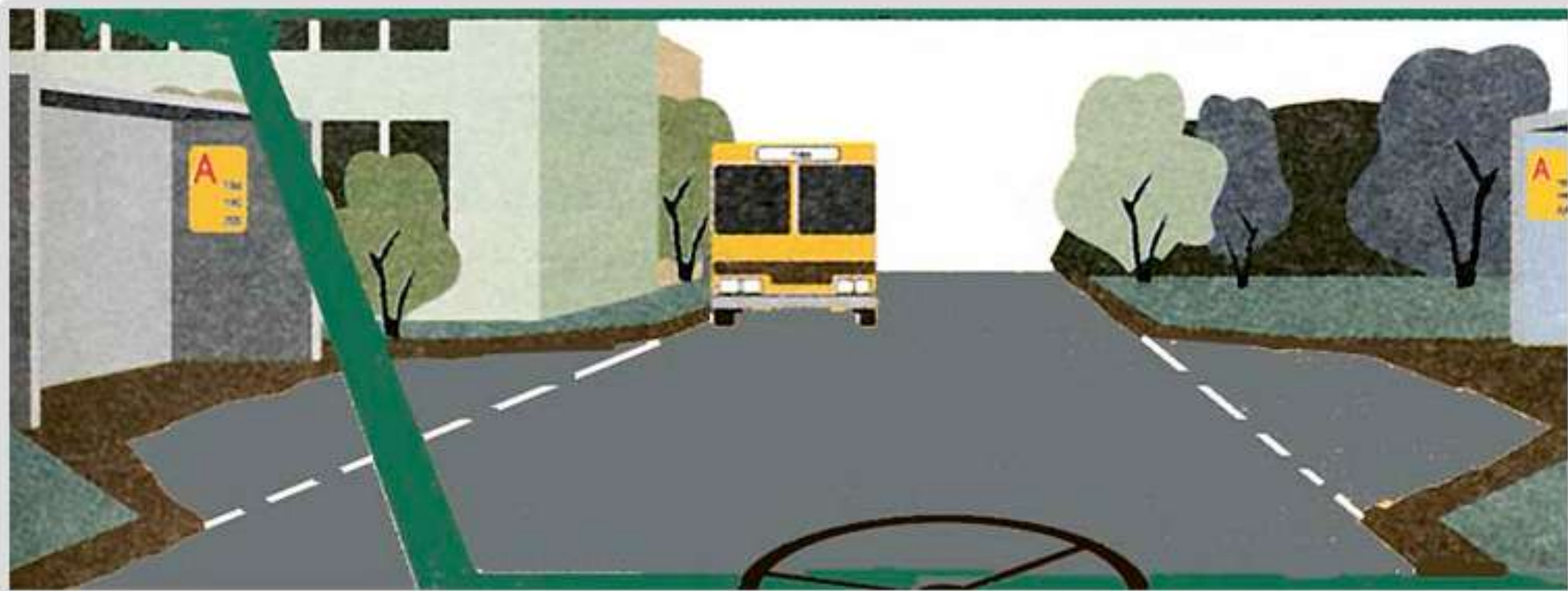


2 Разрешено ли Вам продолжить движение по второй полосе?

1. Разрешено.

2. Запрещено.

3. Разрешено при скорости движения более 40 км/ч.



3 Какие действия запрещено выполнять в местах остановок маршрутных транспортных средств?

1. Разворот.

2. Движение задним ходом.

3. Останавливаться, если при этом будут созданы помехи маршрутным транспортным средствам.

4. Все перечисленные действия.



4 Разрешается ли движение самоходной машины по дорогам, выезды и въезды которых обозначены знаками?

1. Запрещено.

2. Только выполняя работы по строительству, ремонту или содержанию дорог в обозначенной зоне.

3. Разрешено.



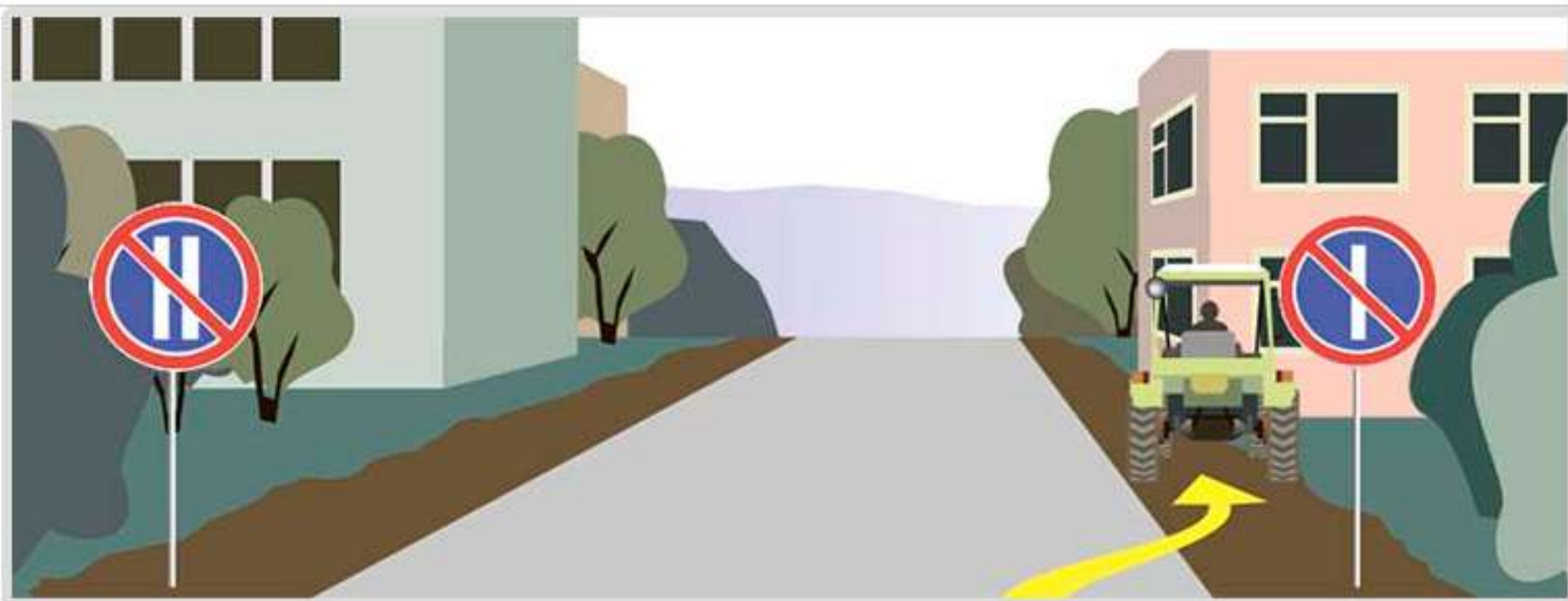


5 В каких направлениях разрешено продолжить движение?

1. А и В.

2. А.

3. Запрещено во всех направлениях.

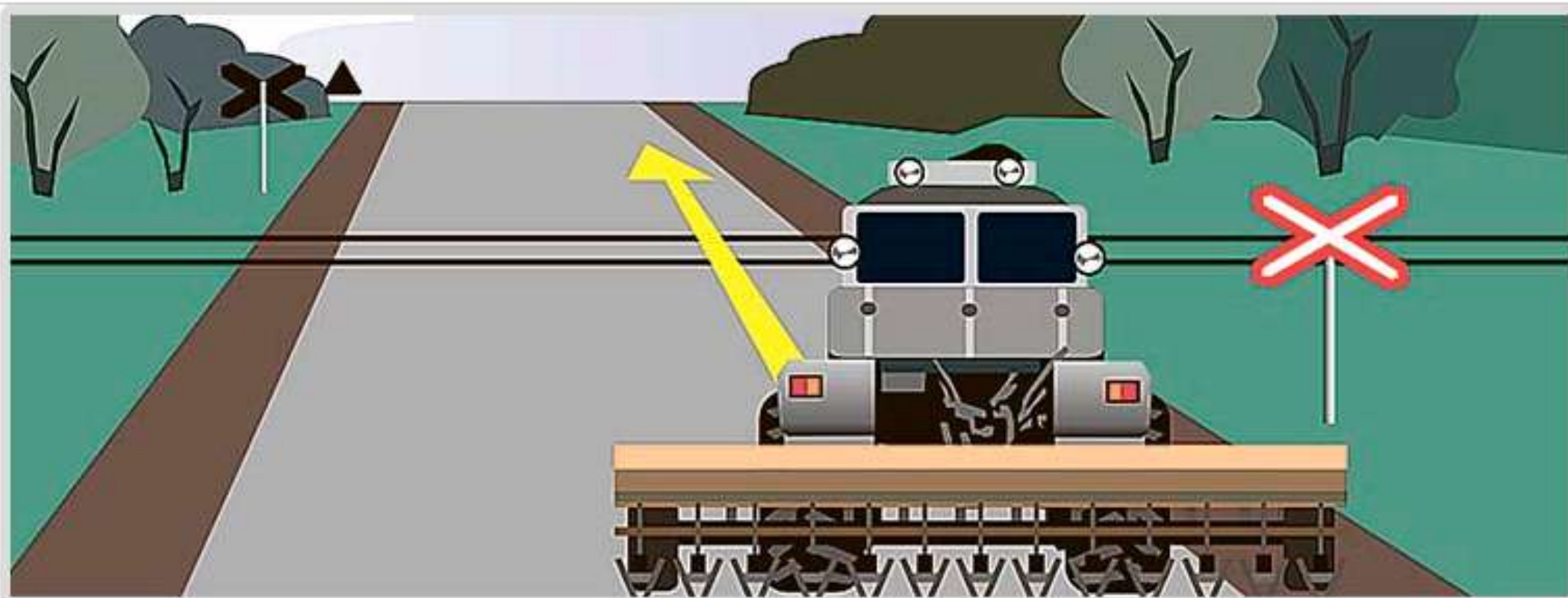


6 Разрешена ли стоянка в данном месте по нечетным числам?

1. Разрешена.

2. Запрещена.

3. Разрешена после 19 ч.



7 Разрешено ли водителю транспортного средства проехать через железнодорожный переезд, если навесное оборудование не фиксируется в транспортном положении?

1. Разрешено.

2. Запрещено.

3. Разрешено, если навесное оборудование не повредит переезд.



8 Что обозначает данная линия разметки?

1. Искусственную неровность на проезжей части.
2. Подземный пешеходный переход.
3. Велосипедную дорожку.



A



B



C



D

9 Какой из знаков предоставляет водителю преимущество перед встречным движением?

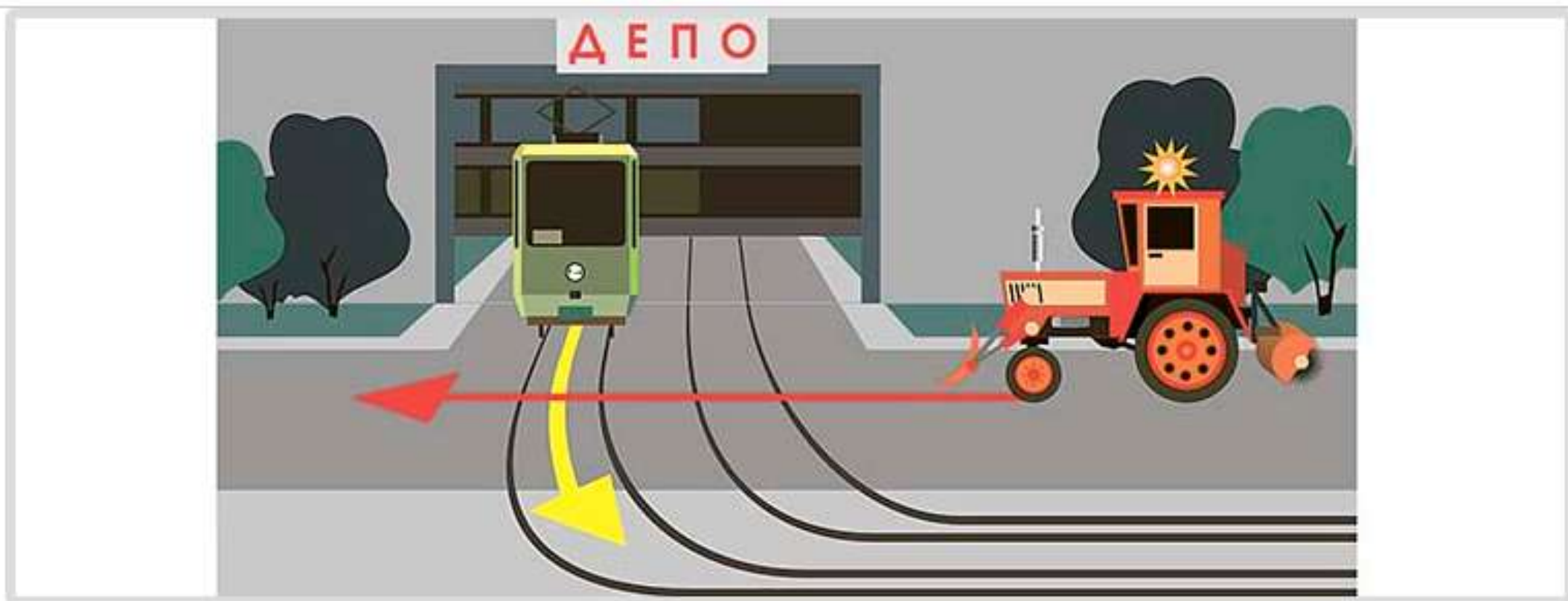
1. D.

2. B и C.

3. A, C и D.

4. A.

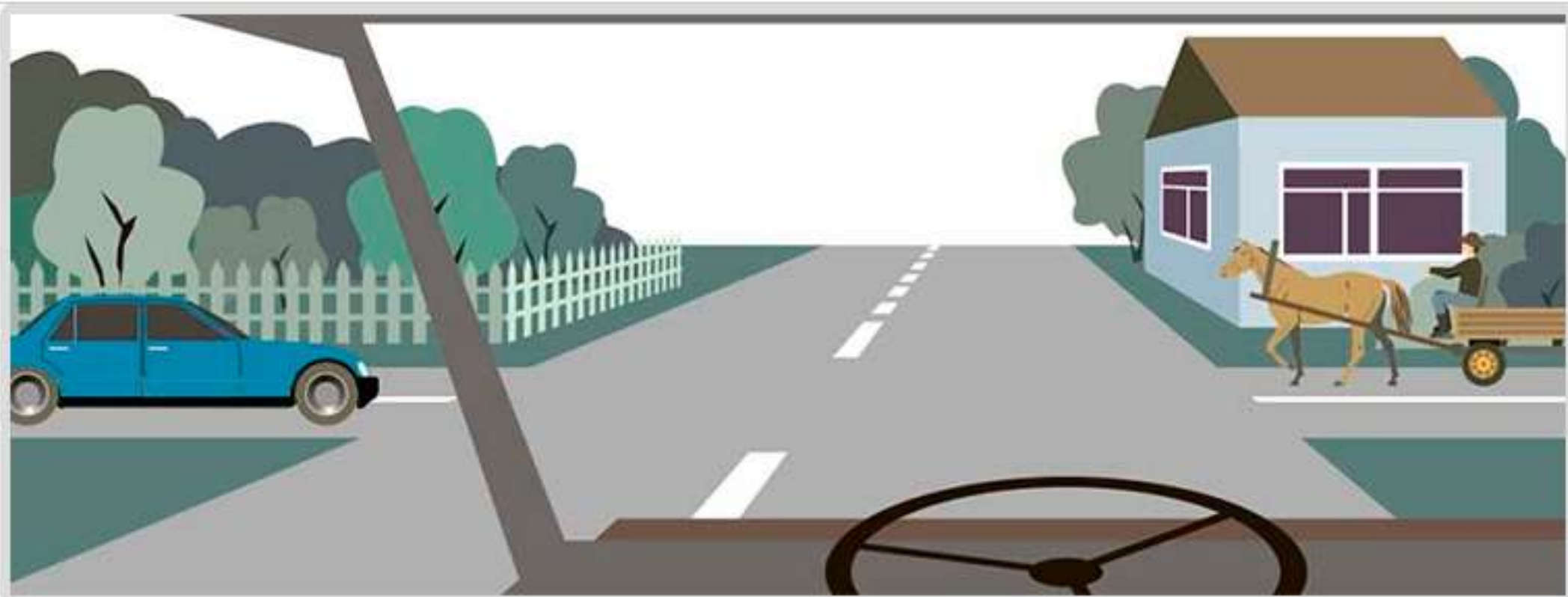
5. Все знаки.



10 Какое транспортное средство проедет первым?

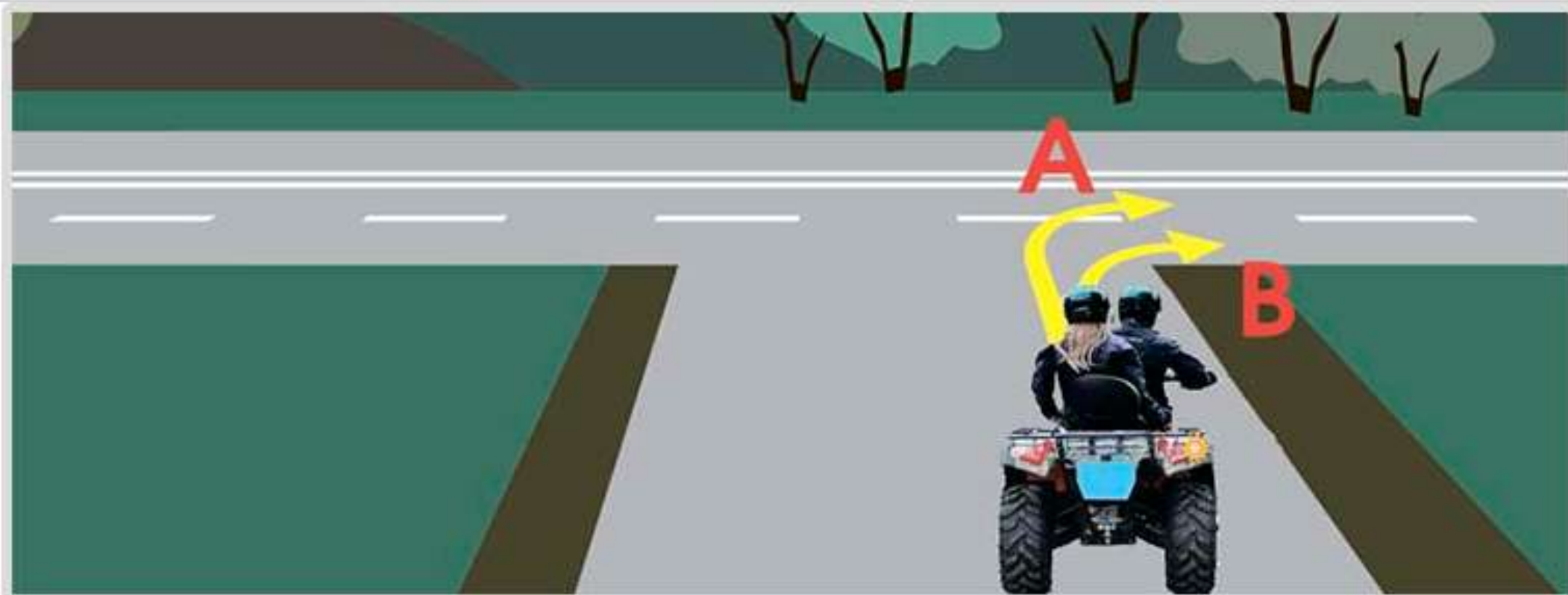
1. Трамвай.

2. Трактор.



11 При движении прямо Вы обязаны уступить дорогу:

1. Легковому автомобилю.
2. Гужевой повозке.
3. Всем транспортным средствам.



12 По какой траектории водитель может совершить поворот направо?

1. А.

2. В.

3. По любой.





13 Как Вы должны поступить в данном случае?

1. Продолжить движение, посигналив пешеходам.

2. Уступить дорогу пешеходам.

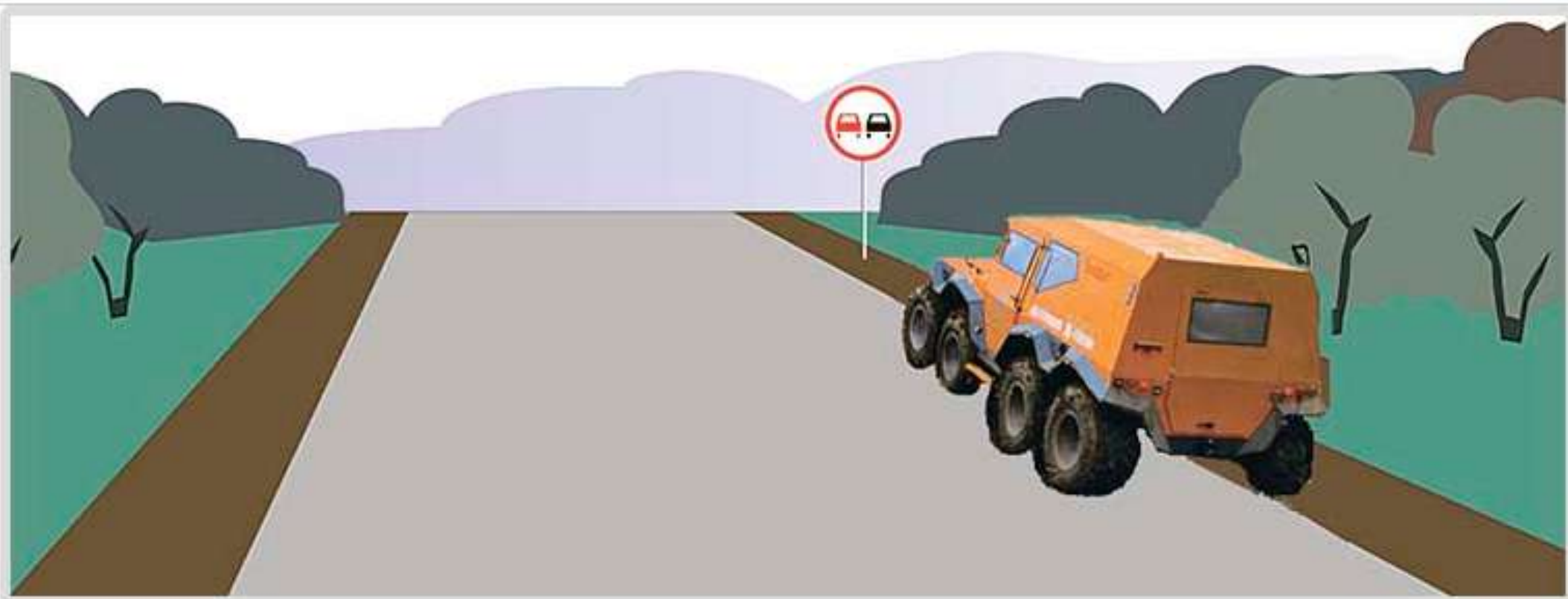


14 Разрешено ли Вам обогнать трактор?

1. Разрешено.

2. Разрешено, если обгон завершится до перекрестка.

3. Запрещено.

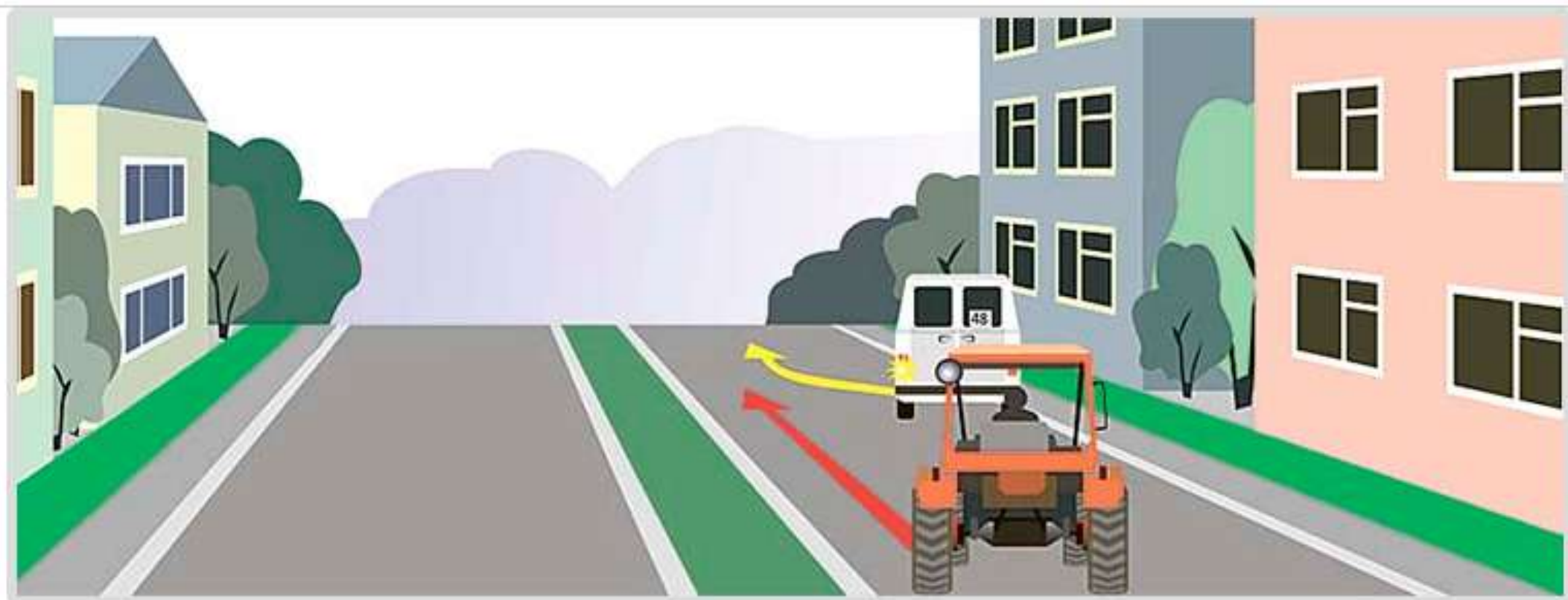


15 Разрешено ли водителю транспортного средства останавливаться перед знаком?

1. Разрешено.

2. Запрещено.

3. Разрешено при условии, что оно не закроет знак от других водителей.



**16** Должен ли водитель трактора уступить дорогу маршрутному такси, начинающему движение от тротуара вне обозначенного места остановки?

1. Должен.

2. Не должен.



17 Разрешено ли Вам продолжить движение?

1. Разрешено.

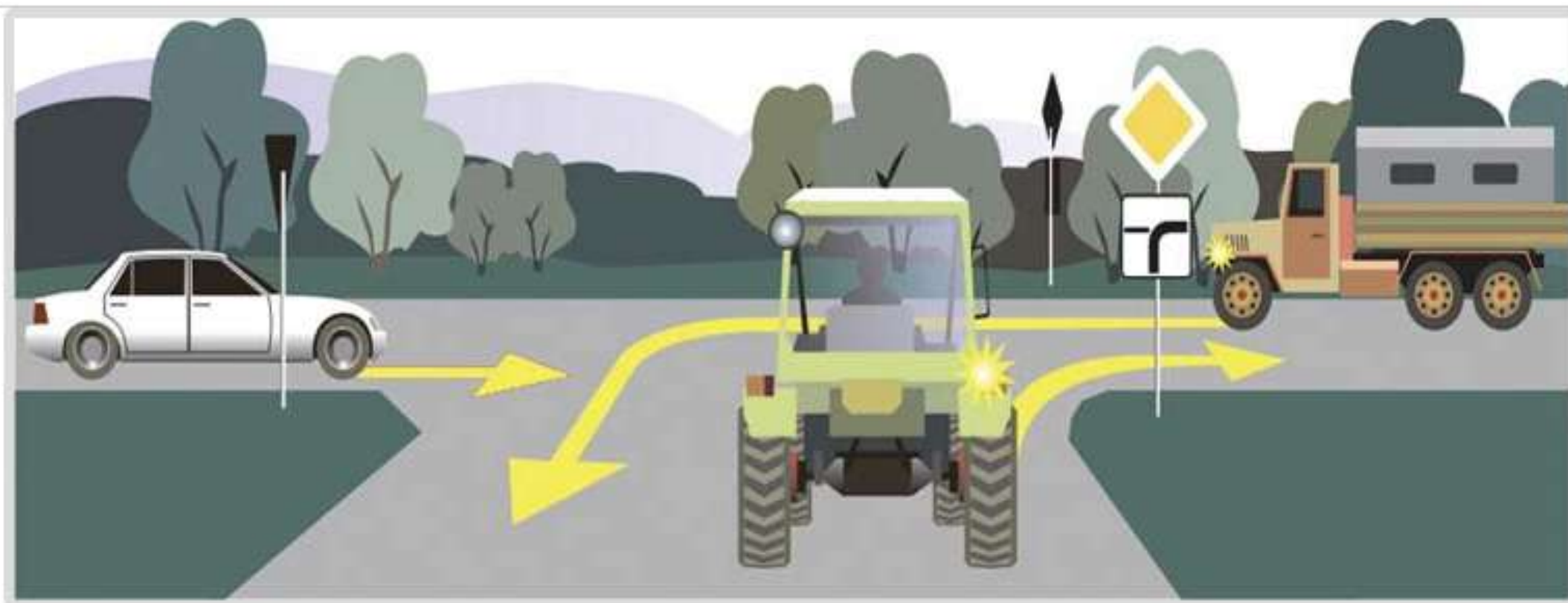
2. Запрещено.



**18** Как должен поступить в данной ситуации водитель самоходной машины?

1. Проехать первым.

2. Пропустить грузовой автомобиль.



19 Последним перекресток проедет:

1. Легковой автомобиль.

2. Грузовой автомобиль.

3. Трактор.



20 Что обозначает данный знак?

1. Предварительный указатель перестроения на другую проезжую часть.
2. Указатель перестроения на другую полосу движения.
3. Предварительный указатель перестроения на другую дорогу.