
В. П. Максаковский Д. В. Заяц

ГЕОГРАФИЯ

РАБОЧАЯ ТЕТРАДЬ



10-11



ПРОСВЕЩЕНИЕ
ИЗДАТЕЛЬСТВО

В.П. Максаковский Д.В. Заяц

ГЕОГРАФИЯ

РАБОЧАЯ ТЕТРАДЬ

10–11 классы

Учебное пособие
для общеобразовательных
организаций

Базовый уровень

22-е издание

МОСКВА «ПРОСВЕЩЕНИЕ» 2019

Рабочая тетрадь по курсу географии (10—11 классы) предназначена для самостоятельных работ учащихся. Она содержит задания различного вида — вопросы, тесты, анализ графиков, составление таблиц, работу с контурными картами, выполнение которых позволит учащимся не только проверить свои знания и умения по курсу географии 10—11 классов, но и обогатить их. В соответствии с программой этого курса все задания в тетради подразделяются на 12 тем. Основой для выполнения большинства заданий должны послужить школьный учебник и атлас.

В очередном издании тетради фактический и статистический материал приведён в соответствии с переработанным 22-м изданием учебника.

ISBN 978-5-09-064997-1

- © Издательство «Просвещение», 2004
- © Издательство «Просвещение», 2014,
с изменениями
- © Художественное оформление.
Издательство «Просвещение», 2004
Все права защищены

Тема 1. ПОЛИТИЧЕСКАЯ КАРТА МИРА

Задание 1. В начале XXI в. на политической карте мира насчитывается следующее количество государств и самоуправляющихся территорий: 120, 185, 230, 240, 265, 300. Укажите правильный ответ.

Задание 2. Укажите, какие из перечисленных ниже стран входят одновременно в первую десятку стран мира по размерам территории и по численности населения:

- 1) Россия;
- 2) ФРГ;
- 3) Индия;
- 4) Индонезия;
- 5) Пакистан;
- 6) Китай;
- 7) Нигерия;
- 8) Бразилия;
- 9) Мексика;
- 10) Австралия.

Задание 3. Укажите, какие из перечисленных ниже государств расположены на островах и архипелагах:

- 1) Великобритания;
- 2) Исландия;
- 3) Эстония;
- 4) Кувейт;
- 5) Шри-Ланка;
- 6) Индонезия;
- 7) Мадагаскар;
- 8) Танзания;
- 9) Куба;
- 10) Япония.

Задание 4. Подчеркните названия государств, не имеющих выхода к открытому морю:

- 1) Боливия;
- 2) Венгрия;
- 3) Замбия;
- 4) Израиль;
- 5) Мали;
- 6) Монголия;
- 7) Украина;
- 8) Узбекистан;
- 9) ФРГ;
- 10) Швейцария.

Как такое положение сказывается на их социально-экономическом развитии?

Задание 5. Заполните таблицу, используя приведённые ниже географические названия и числа: Бразилия, Испания, Мадрид, Пакистан, Претория, Бразилиа, 46, 52, 179, 804, 1221, 8512:

Страна	Площадь, тыс. км ²	Население, млн чел.	Столица
1.	505		Исламабад
2.			
3. ЮАР		192	
4.			

Задание 6. Подберите пары по принципу «страна — столица»:

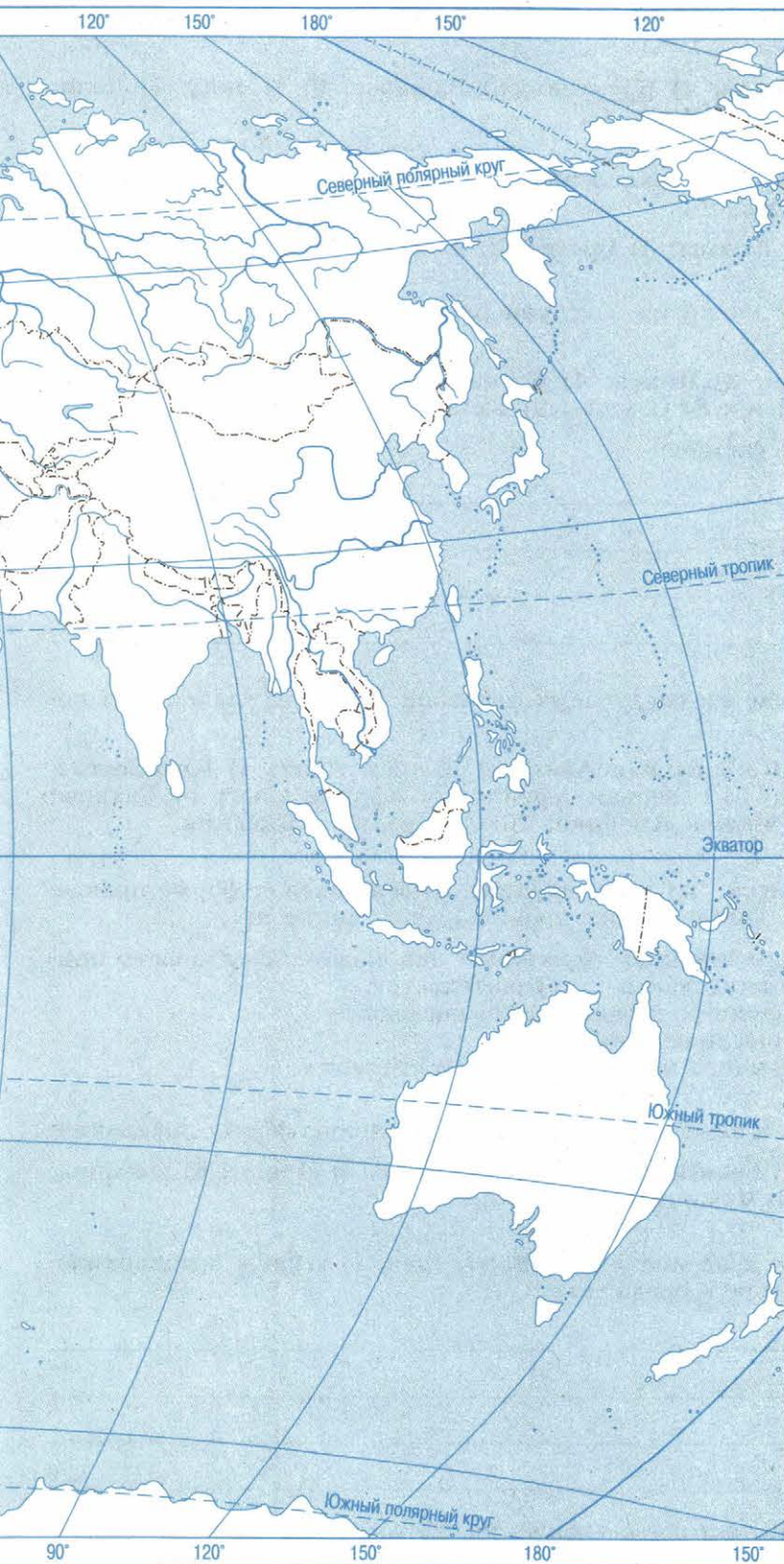
- | | |
|---------------|-------------|
| 1. Австралия | а) Алжир |
| 2. Алжир | б) Бангкок |
| 3. Белоруссия | в) Богота |
| 4. Венесуэла | г) Дамаск |
| 5. Кения | д) Канберра |
| 6. Колумбия | е) Каракас |
| 7. Норвегия | ж) Минск |
| 8. Сирия | з) Найроби |
| 9. Таиланд | и) Осло |
| 10. Чехия | к) Прага |

Задание 7. Укажите, к какому из следующих типов относится большинство стран мира:

- 1) к экономически развитым;
- 2) к развивающимся;
- 3) к странам с переходной экономикой.



Рис. 1



УСЛОВНЫЕ ЗНАКИ

Страны с монархической формой правления



абсолютная монархия



конституционная монархия

Страны с федеративно-территориальным устройством



Масштаб 1:88 000 000 (в 1 см 880 км)

Задание 8. Укажите в предложенном списке столицы государств, входящих в состав «большой восьмёрки»:

- 1) Рим; 2) Мадрид; 3) Лондон; 4) Брюссель; 5) Варшава; 6) Москва; 7) Дели; 8) Вашингтон; 9) Оттава; 10) Канберра.

Задание 9. Укажите, какие из перечисленных ниже стран относятся к странам «переселенческого» капитализма:

- 1) Турция; 2) Израиль; 3) Канада; 4) Бразилия; 5) Австралия.

Задание 10. Определите, к какой из подгрупп развивающихся стран относятся следующие государства:

- 1) Бангладеш; 2) Бразилия; 3) Индия; 4) Кувейт; 5) Непал; 6) Объединённые Арабские Эмираты; 7) Малайзия; 8) Сомали; 9) Таиланд; 10) Эфиопия.

Ответ дайте по следующей форме:

Ключевые страны _____ .

Новые индустриальные страны _____ .

Нефтедобывающие страны _____ .

Наименее развитые страны _____ .

Задание 11. Укажите, какие из следующих регионов мира выделяются по количеству горячих точек:

- 1) Западная Европа; 2) Юго-Западная Азия; 3) Южная Азия; 4) Юго-Восточная Азия; 5) Восточная Азия; 6) Северная Африка; 7) Африка к югу от Сахары; 8) Северная Америка; 9) Латинская Америка; 10) Австралия и Океания.

Задание 12. Ниже приводится ряд утверждений, относящихся к форме правления стран мира. Определите, какие из них правильные, а какие нет.

1. В республиках и конституционных монархиях законодательная власть принадлежит парламенту, а исполнительная — правительству.
2. Верховная власть в монархиях передаётся по наследству.
3. Республик в мире меньше, чем монархий.
4. Среди монархий современного мира преобладают империи.

Задание 13. Подчеркните страны, имеющие республиканскую форму правления:

- 1) Австрия; 2) Армения; 3) Бельгия; 4) Великобритания; 5) Египет; 6) Мексика; 7) Нидерланды; 8) Турция; 9) Франция; 10) Япония.

Задание 14. Нанесите цветом на контурную карту (рис. 1) страны с монархической формой правления. Выделите среди них:

конституционные монархии _____

абсолютные монархии _____

Охарактеризуйте и объясните распределение их по крупным регионам мира. Какие из них являются империями, королевствами, герцогствами, султанатами, эмиратами?

Задание 15. Дополните следующие предложения:

1. Государство, в котором действует единая законодательная, исполнительная и судебная власть, называется _____.

2. Государство, в котором наряду с едиными властями существуют отдельные территориальные единицы, имеющие собственную законодательную, исполнительную и судебную власть, называется _____.

Задание 16. Нанесите штриховкой на контурную карту (см. рис. 1) страны, имеющие федеративное административно-территориальное устройство. Определите, какие из них относятся к экономически развитым, а какие — к развивающимся странам.

Задание 17. В Содружество стран, возглавляемое Великобританией, входят 53 страны. Подчеркните те из перечисленных ниже стран, которые являются членами этого Содружества:

1) Индия; 2) Иран; 3) Канада; 4) Мадагаскар; 5) Нигерия; 6) Новая Зеландия; 7) Пакистан; 8) США; 9) Швеция; 10) Шри-Ланка.

Что нужно вспомнить, чтобы выполнить это задание?

Задание 18. Выберите одну из стран, играющих важную роль в мировой политике. Дайте письменную характеристику её политико-географического положения, исходя из её взаимоотношений с соседними странами, государствами, входящими в политические и военно-политические блоки, из её положения по отношению к очагам региональных и локальных конфликтов и горячим точкам планеты.

Тема 2. ПРИРОДА И ЧЕЛОВЕК В СОВРЕМЕННОМ МИРЕ

Задание 1. Обеспеченность человечества разведанными запасами четырёх важнейших видов минеральных ресурсов оценивается следующим числом лет: 50, 65, 150, 240. Определите, к каким конкретным видам минерального топлива и сырья относится каждый из этих показателей.

Задание 2. Среди перечисленных ниже стран подчеркните те, которые обладают особенно большими разведанными запасами нефти:

1) Аргентина; 2) Венесуэла; 3) Египет; 4) Индия; 5) Ирак; 6) Иран; 7) Кувейт; 8) Мексика; 9) ОАЭ; 10) Саудовская Аравия.

Задание 3. В приведённом ниже списке стран отметьте две страны, обладающие наибольшими разведанными запасами природного газа:

1) Россия; 2) Великобритания; 3) Индия; 4) Иран; 5) Китай; 6) Индонезия; 7) Ливия; 8) Канада; 9) Мексика; 10) Венесуэла.

Задание 4. Закончите фразу: «Самыми большими разведанными запасами угля в мире обладают...» (выберите правильную строку):

а) Франция, Турция, Индия, Египет, Канада, Колумбия;
б) Россия, ФРГ, Китай, ЮАР, США, Австралия.

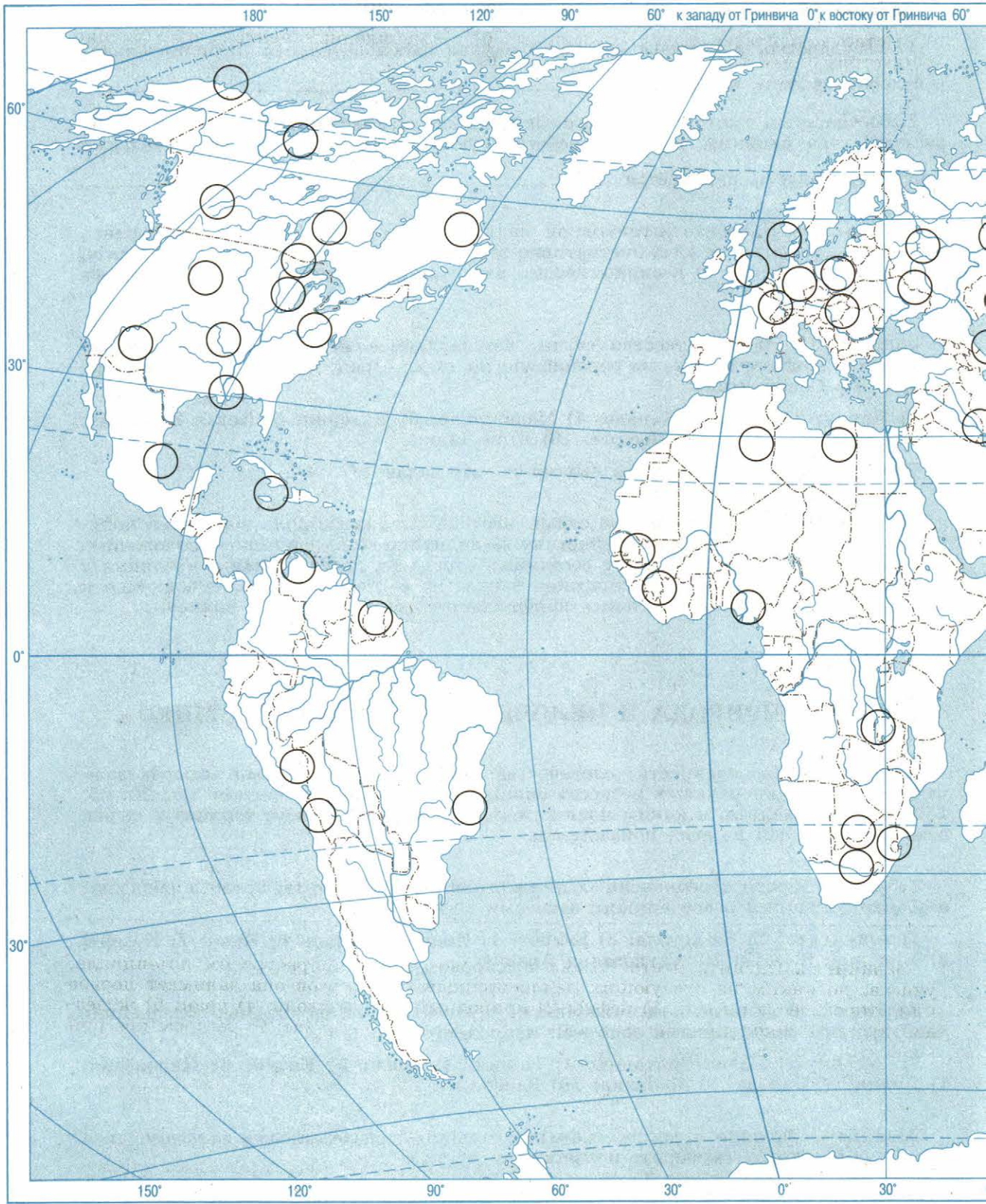
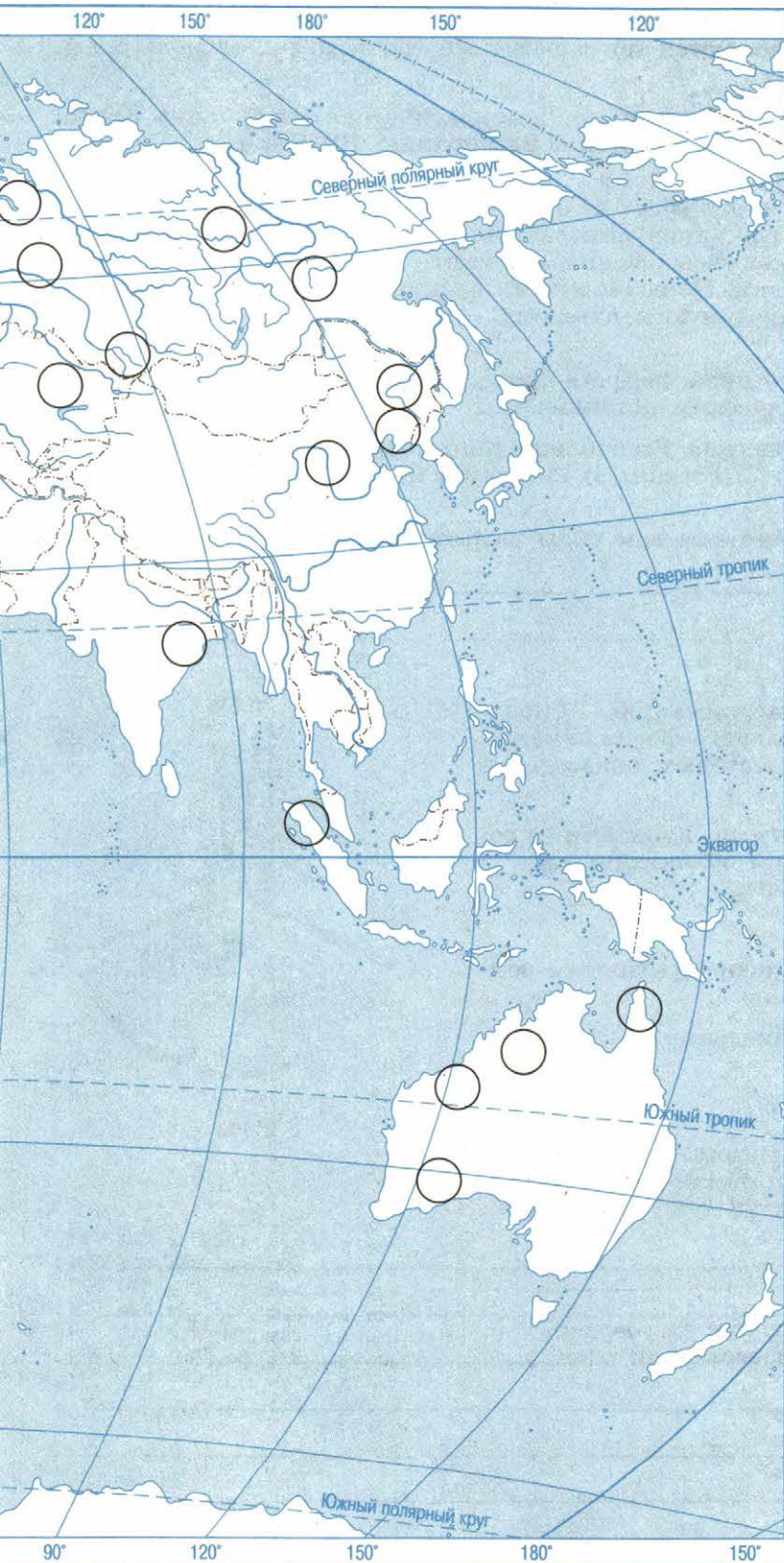


Рис. 2



УСЛОВНЫЕ ЗНАКИ

ПОЛЕЗНЫЕ ИСКОПАЕМЫЕ

- Каменный уголь
- ▲ Нефть
- △ Природный газ
- ▲ Железные руды
- Бокситы
- Медные руды
- Золото
- ☀ Алмазы

Масштаб 1:88 000 000 (в 1 см 880 км)

Задание 5. Среди перечисленных ниже стран подчеркните линиями разных цветов те, которые особенно выделяются по запасам железной руды, медной руды, бокситов, олова:

- 1) Австралия; 2) Бразилия; 3) Гвинея; 4) Демократическая Республика Конго;
- 5) Замбия; 6) Китай; 7) Малайзия; 8) Россия; 9) Украина; 10) Чили.

Задание 6. На контурную карту (рис. 2) кружками нанесены районы местонахождения наиболее крупных бассейнов минерального топлива и сырья. Определите, какие виды полезных ископаемых в них залегают, и впишите в эти кружки соответствующие условные знаки. По возможности подпишите также названия бассейнов. Проанализируйте полученную картосхему.

Задание 7. Из приведённого ниже перечня стран выпишите те, которые обладают наибольшим гидроэнергетическим потенциалом:

- 1) Бразилия; 2) Демократическая Республика Конго; 3) Индонезия; 4) Канада;
- 5) Китай; 6) Новая Зеландия; 7) Россия; 8) Румыния; 9) США; 10) Чили.

Задание 8. Перечислите известные вам виды нетрадиционных (альтернативных) источников энергии: _____

Задание 9. На круговой диаграмме (рис. 3) показана структура мирового земельного фонда. Укажите, какие из приведённых цифровых показателей относятся:

- 1) к землям под населёнными пунктами, промышленными и транспортными объектами;
- 2) к обрабатываемым землям;
- 3) к лугам и пастбищам;
- 4) к лесам и кустарникам;
- 5) к малопродуктивным и непродуктивным землям.

Сделайте выводы из этой диаграммы.

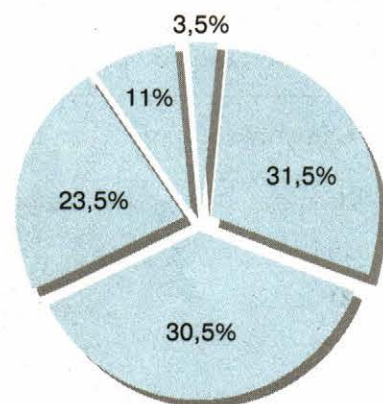


Рис. 3

Задание 10. Приведите примеры стран с наибольшей (а) и наименьшей (б) обеспеченностью пахотными угодьями из расчёта на душу населения:

а) _____ ;

б) _____ .

Объясните причины такого различия: _____

Задание 11. Укажите, какие из перечисленных ниже стран имеют самую высокую (подчеркните двумя чертами) и самую низкую (подчеркните одной чертой) обеспеченность водными ресурсами:

- 1) Россия; 2) ФРГ; 3) Норвегия; 4) Китай; 5) Саудовская Аравия; 6) Египет; 7) Конго; 8) Канада; 9) Суринам; 10) Новая Зеландия.

Объясните причины такого различия: _____

Задание 12. Укажите, какие из перечисленных ниже стран относятся к странам с наибольшей (подчеркните двумя чертами) и наименьшей (подчеркните одной чертой) обеспеченностью лесными ресурсами:

- 1) Великобритания; 2) Габон; 3) Демократическая Республика Конго; 4) Конго; 5) Ливия; 6) Россия; 7) Сомали; 8) Финляндия; 9) Швеция; 10) Япония.

Задание 13. Заполните таблицу «Ресурсы Мирового океана» по следующей форме:

Группы ресурсов	Виды ресурсов
1. Морская вода 2. Биологические ресурсы 3. Минеральные ресурсы дна 4. Энергетические ресурсы	

Сделайте выводы.

Задание 14. Назовите три главных пути решения экологических проблем:

- 1) _____ ;
2) _____ ;
3) _____ .

Объясните значение каждого из них.

Задание 15. Назовите несколько научных концепций, относящихся к географическому ресурсоведению и геоэкологии:

Географическое ресурсоведение	Геоэкология
_____	_____
_____	_____
_____	_____
_____	_____
_____	_____

По возможности дополните перечень концепций, приведённый в учебнике.

Тема 3. ГЕОГРАФИЯ НАСЕЛЕНИЯ МИРА

Задание 1. Население свыше 100 млн человек имеют следующие 11 стран мира:

- 1) Бангладеш; 2) Бразилия; 3) Индия; 4) Индонезия; 5) Китай; 6) Нигерия;
- 7) Пакистан; 8) Россия; 9) США; 10) Япония; 11) Мексика.

Расставьте эти страны в порядке уменьшения численности населения:

Подсчитайте долю этих стран в общей численности населения Земли.

Задание 2. Из приведённого ниже перечня стран выпишите страны, относящиеся к I и II типам воспроизводства населения:

- 1) Австрия; 2) Индия; 3) Иордания; 4) Италия; 5) Мозамбик; 6) Судан; 7) Таджикистан; 8) Уганда; 9) Филиппины; 10) Эстония.

Страны I типа: _____

Страны II типа: _____

Укажите, какие из них относятся к экономически развитым и какие — к развивающимся странам.

Задание 3. Укажите, какое из приведённых ниже утверждений следует считать правильным:

- 1) естественный прирост населения в мире составляет 13‰;
- 2) естественный прирост населения в зарубежной Европе составляет 10‰;
- 3) естественный прирост населения в Африке составляет 35‰.

Задание 4. Дайте определение понятия «демографическая политика»:

Приведите примеры стран, которые проводят такую политику наиболее активно.

Задание 5. На круговых диаграммах (рис. 4) показана доля детей во всём населении экономически развитых и развивающихся стран. К какой из этих групп стран относится каждая из этих диаграмм? Объясните причины различий.




Рис. 4

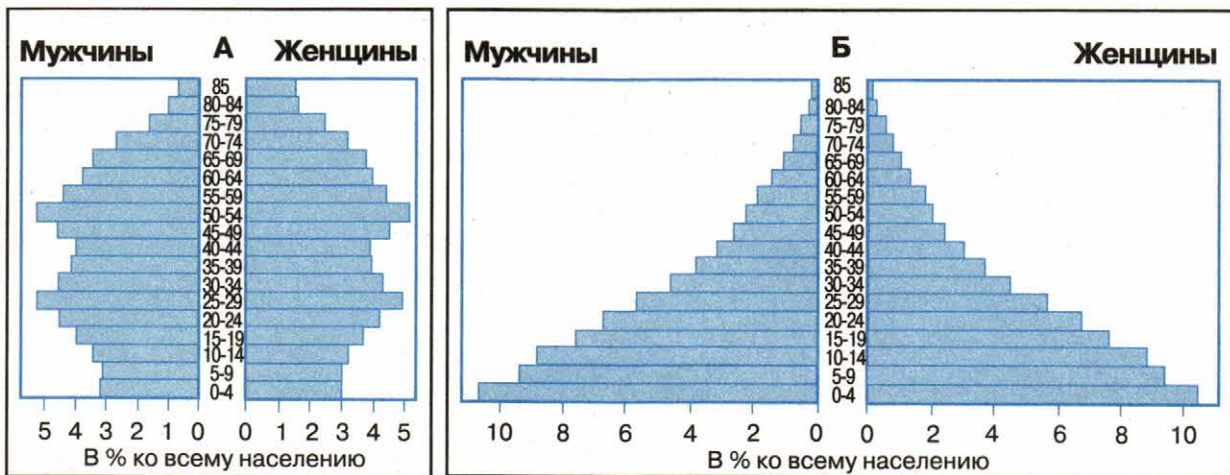


Рис. 5

Задание 6. В приведённом ниже перечне определите страны с наибольшей и наименьшей долей детей во всём населении:

- 1) ФРГ; 2) Италия; 3) Швеция; 4) Болгария; 5) Япония; 6) Ирак; 7) Йемен;
- 8) Уганда; 9) Сомали.

Объясните причину различий.

Задание 7. Подберите примеры стран к возрастно-половым пирамидам на рис. 5.

Задание 8. Укажите два из перечисленных ниже языков, имеющих наиболее широкое распространение в мире:

- 1) русский; 2) немецкий; 3) французский; 4) португальский; 5) испанский;
- 6) английский; 7) хинди и урду; 8) арабский.

Объясните почему.

Задание 9. На разных языках индоевропейской семьи говорят:

- 1) англичане; 2) бенгальцы; 3) латыши; 4) немцы; 5) персы; 6) румыны; 7) русские;
- 8) французы; 9) хиндустанцы; 10) шведы.

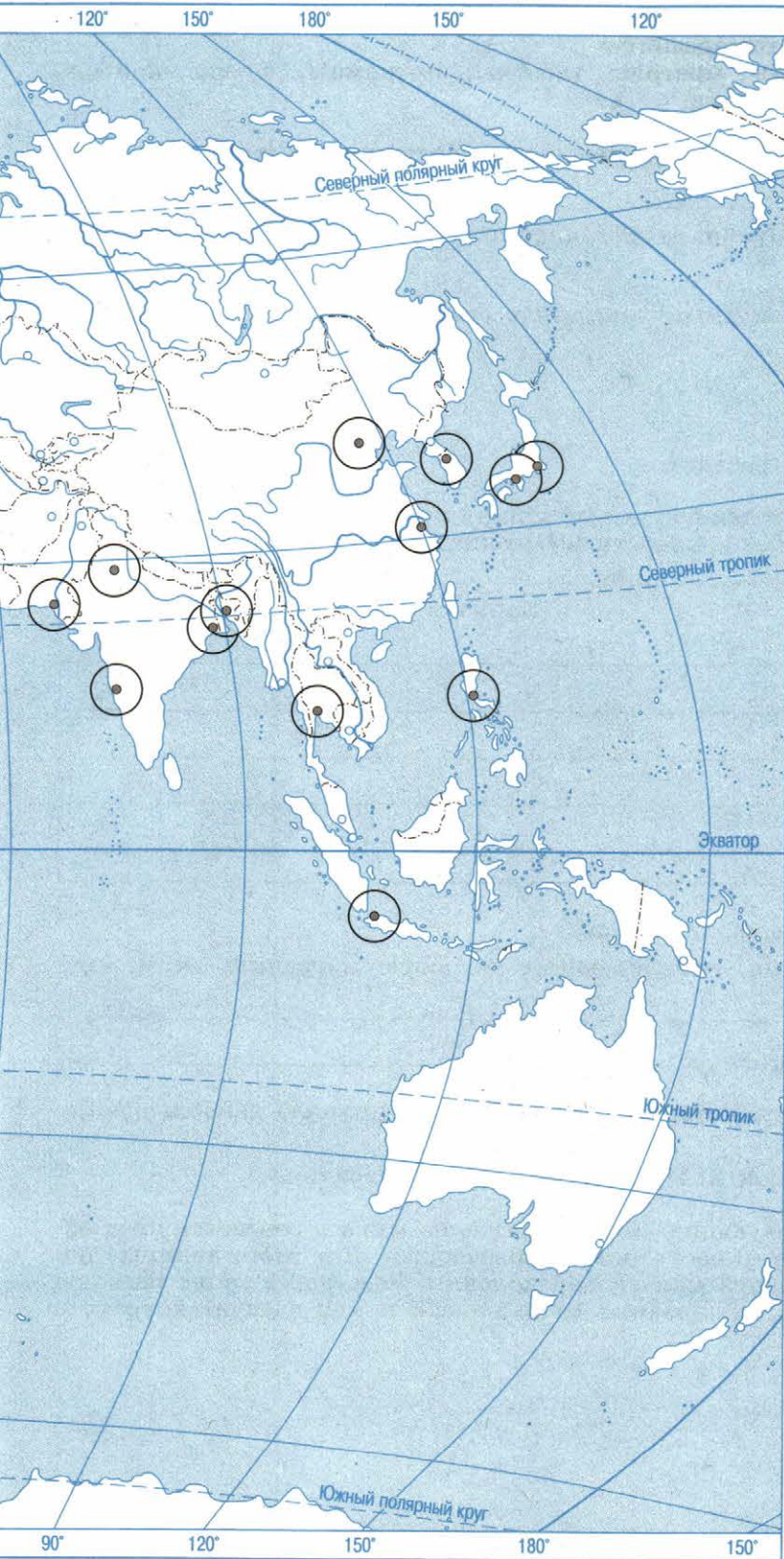
Распределите их по следующим группам этой языковой семьи:

1. Славянская _____ .
2. Балтийская _____ .
3. Романская _____ .
4. Германская _____ .
5. Иранская _____ .
6. Индоарийская _____ .

Укажите, какие другие группы и языки входят в состав этой семьи.

Задание 10. Определите, по какому признаку проведена следующая группировка народов:

I группа: итальянцы, испанцы, французы, ирландцы, поляки, хорваты, бразильцы, аргентинцы, перуанцы, филиппинцы.



УСЛОВНЫЕ ЗНАКИ

● Города (агломерации) с населением свыше 10 млн человек

Масштаб 1:88 000 000 (в 1 см 880 км)

II группа: албанцы, узбеки, таджики, азербайджанцы, пакистанцы, иракцы, иранцы, египтяне, алжирцы, индонезийцы.

III группа: китайцы, японцы, монголы, тибетцы, вьетнамцы, лаосцы, камбоджийцы, малайцы, буряты, калмыки.

Задание 11. Закончите фразу: «Ислам исповедуют большинство жителей _____».

- 1) Грузии; 2) Испании; 3) Ирана; 4) Афганистана; 5) Палестины; 6) Индонезии; 7) Марокко; 8) Перу.

Задание 12. Выберите правильный показатель средней плотности населения в мире:

- а) 10 чел. на 1 км²;
б) 47 чел. на 1 км²;
в) 80 чел. на 1 км².

Проверьте себя с помощью расчёта.

Задание 13. Заполните приведённую ниже таблицу примерами трёх—пяти стран каждой из следующих градаций плотности населения:

Плотность населения, чел. на 1 км ²	Примеры стран
1. Свыше 200	_____
2. От 100 до 200	_____
3. От 50 до 100	_____
4. Менее 10	_____

Задание 14. Дополните следующие фразы:

1. Яркими примерами стран, привлекающих трудовую миграцию, могут служить _____.

2. «Утечкой умов» называется _____.

Задание 15. Укажите страну, которая за свою историю приняла наибольшее количество иммигрантов:

- 1) Великобритания; 2) Китай; 3) ЮАР; 4) США; 5) Австралия.

Задание 16. Расставьте следующие крупные регионы мира в соответствии с общей численностью их городского населения по убывающей. Для этого впишите порядковый номер региона в квадратики первой колонки. Расставьте те же регионы в соответствии с уровнем их урбанизации (порядковый номер следует вписать в квадратики второй колонки).

1. СНГ
 2. Зарубежная Европа
 3. Зарубежная Азия
 4. Африка
 5. Северная Америка
 6. Латинская Америка
 7. Австралия и Океания

Объясните различия.

Задание 17. Среди перечисленных ниже государств подчеркните те, в которых уровень урбанизации превышает 90%:

1) Австралия; 2) Аргентина; 3) Болгария; 4) Великобритания; 5) Канада; 6) Кувейт; 7) Турция; 8) Франция; 9) Швеция; 10) Япония.

Определите, какие страны являются «рекордсменами» по этому показателю, и нанесите их на контурную карту (рис. 6).

Задание 18. На контурную карту (см. рис. 6) нанесены крупнейшие города (агломерации) мира с населением свыше 10 млн чел. Надпишите на карте их названия. Сравните экономически развитые и развивающиеся страны по числу таких городов, распределив последние следующим образом:

1. Города экономически развитых стран: _____

2. Города развивающихся стран: _____

Задание 19. Объясните, что изучает геурбанистика:

1) _____ ;

2) _____ ;

3) _____ ;

4) _____ ;

5) _____ .

Тема 4. НАУЧНО-ТЕХНИЧЕСКАЯ РЕВОЛЮЦИЯ И МИРОВОЕ ХОЗЯЙСТВО

Задание 1. Заполните пропуски в следующих предложениях:

1. Научно-техническая революция представляет собой коренной качественный переворот в производительных силах человечества, _____

2. Современная НТР характеризуется _____ главными чертами.





3. Техника и технология в эпоху НТР развиваются двумя путями:

4. Производство в эпоху НТР развивается по _____ главным направлениям.

Задание 2. Определите, какие из следующих отраслей: 1) добыча нефти; 2) добыча бокситов; 3) добыча медных руд; 4) добыча оловянных руд; 5) производство автомобилей; 6) производство самолётов; 7) производство бумаги; 8) производство зерновых культур; 9) производство сахара; 10) производство хлопка — служат отраслями международной специализации перечисленных ниже стран:



УСЛОВНЫЕ ЗНАКИ

-  Страны, входящие в ЕС
-  Страны — участницы НАФТА
-  Страны — участницы АСЕАН
-  Страны, входящие в ОПЕК

Масштаб 1:88 000 000 (в 1 см 880 км)

1. Аргентина _____ .
2. Гвинея _____ .
3. Куба _____ .
4. Ливия _____ .
5. Малайзия _____ .
6. США _____ .
7. Узбекистан _____ .
8. Финляндия _____ .
9. Чили _____ .
10. Япония _____ .

Объясните причины такой специализации.

Задание 3. На контурную карту (рис. 7) нанесите главные интеграционные группировки стран мира:

- 1) Европейский Союз (ЕС) в составе 28 стран;
 - 2) Североамериканское соглашение о свободной торговле (НАФТА) в составе трёх стран;
 - 3) Ассоциацию государств Юго-Восточной Азии (АСЕАН) в составе 10 стран;
 - 4) Организацию стран—экспортёров нефти (ОПЕК) в составе 12 стран.
- Охарактеризуйте роль этих группировок в мировом хозяйстве.

Задание 4. Установите соответствие между следующими странами и типами их отраслевой структуры:

- | | |
|-------------------|-----------------------|
| 1. Великобритания | А. Аграрная |
| 2. Чехия | Б. Индустриальная |
| 3. Китай | В. Постиндустриальная |
| 4. Кувейт | |
| 5. Эфиопия | |
| 6. Мали | |

Задание 5. Заполните таблицу «Основные направления региональной политики»:

Основные направления	Примеры стран и районов
1. Подъём отсталых аграрных районов 2. Подъём депрессивных старопромышленных районов 3. Сдерживание роста сверхагломераций 4. Освоение новых ресурсных районов	

Подготовьте по материалу этой таблицы устное сообщение.

Задание 6. Подберите примеры развивающихся стран:

- 1) где столица является крупнейшим городом и одновременно морским портом:

Страна	Столица

2) где крупнейшим городом и морским портом является не государственная, а экономическая столица: _____

Задание 7. По карте (см. рис. 6) подсчитайте, сколько крупнейших городов мира расположено на берегах морей и океанов. Какое обобщение, касающееся их экономико-географического положения, можно сделать на основании этого подсчёта?

Задание 8. Из приведённых ниже утверждений выберите правильные:

1. Современное производство становится всё более наукоёмким.
2. Наука об управлении и информации называется кибернетикой.
3. Между местом производства и местом сбыта товаров почти всегда образуется больший или меньший территориальный разрыв.
4. АСЕАН — это интеграционная группировка стран Восточной Азии.
5. США стали страной, на основе которой сформировался первый центр мировой экономики.
6. Экологический фактор размещения производства можно назвать антиподом фактора территориальной концентрации.

Тема 5. ГЕОГРАФИЯ ОТРАСЛЕЙ МИРОВОГО ХОЗЯЙСТВА

Задание 1. Какие из перечисленных ниже стран занимают первые три места по объёму промышленного производства?

- 1) Россия; 2) ФРГ; 3) Великобритания; 4) Франция; 5) Италия; 6) Индия; 7) Китай; 8) Япония; 9) США; 10) Бразилия.

Задание 2. Укажите первую тройку стран мира по добыче следующих видов полезных ископаемых:

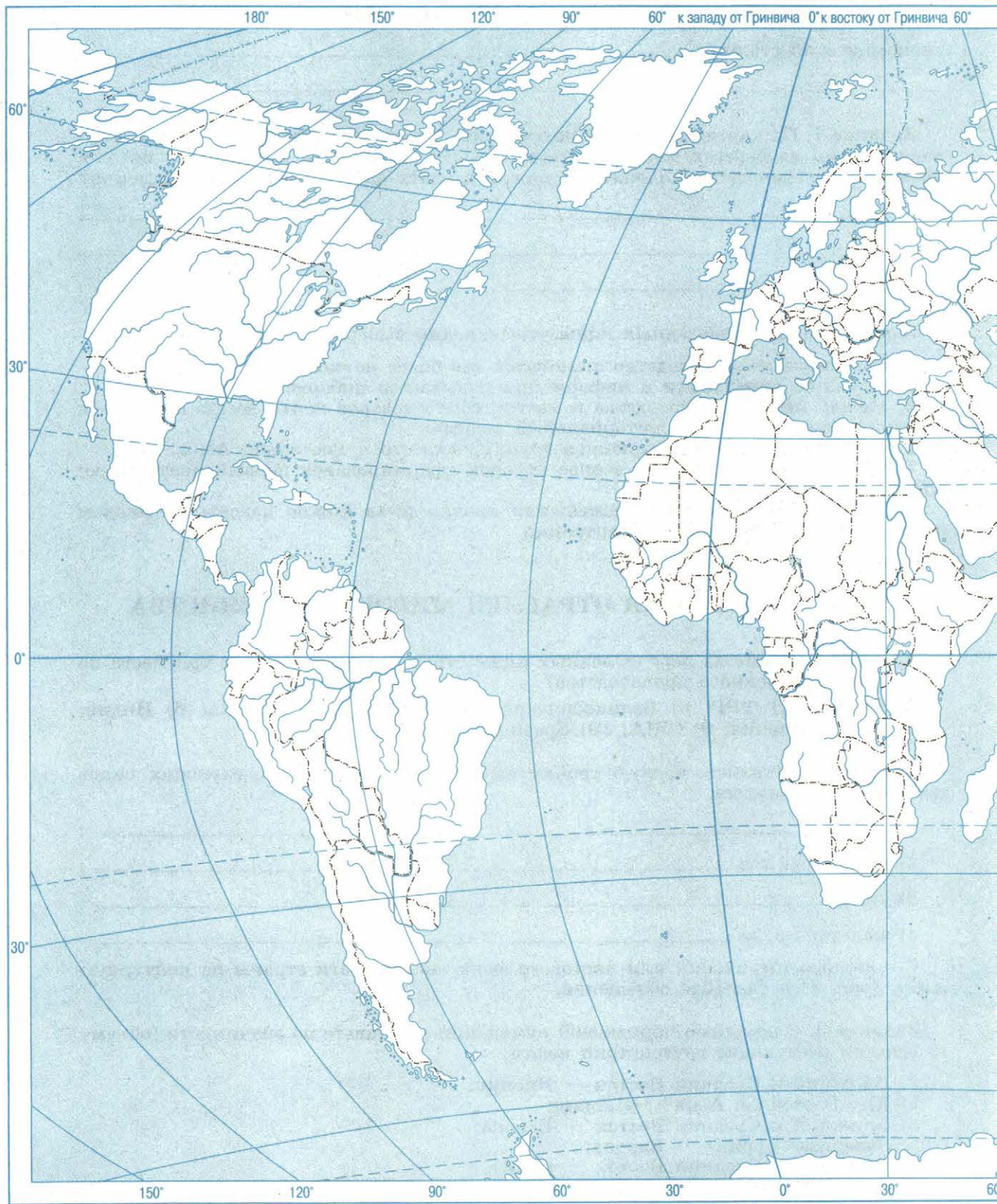
- 1) нефть _____ ;
- 2) природный газ _____ ;
- 3) уголь _____ ;
- 4) железная руда _____ .

С помощью штриховки или цветового фона нанесите эти страны на контурную карту (рис. 8) и сделайте обобщение.

Задание 3. С помощью порядковой нумерации расставьте по значимости (объёму перевозок) следующие грузопотоки нефти:

- Ближний и Средний Восток — Япония;
- Юго-Восточная Азия — Япония;
- Ближний и Средний Восток — Европа;
- Западная Африка — Европа;
- Ближний и Средний Восток — США;
- страны Карибского бассейна — США.





Дайте необходимые объяснения.





УСЛОВНЫЕ ЗНАКИ

Страны, лидирующие по добыче

-  нефти
-  природного газа
-  каменного угля
-  железной руды

Масштаб 1:88 000 000 (в 1 см 880 км)

Задание 4. Найдите две ошибки в перечне указанных ниже районов по морской добыче нефти и природного газа:

- 1) Северное море;
- 2) Бискайский залив;
- 3) Каспийское море;
- 4) Персидский залив;
- 5) Гвинейский залив;
- 6) Гудзонов залив;
- 7) Мексиканский залив;
- 8) Карибское море.

Задание 5. Проставьте на этой «немой» диаграмме (рис. 9) доли (в %), соответствующие мировой выработке электроэнергии на ТЭС, ГЭС и АЭС.




Рис. 9

Задание 6. Укажите, подчеркнув линиями разных цветов, какие из перечисленных ниже стран различаются преобладанием производства электроэнергии на ТЭС, ГЭС и АЭС:

- 1) Бельгия;
- 2) Бразилия;
- 3) Индия;
- 4) Китай;
- 5) Нидерланды;
- 6) Норвегия;
- 7) Польша;
- 8) Россия;
- 9) Франция;
- 10) ЮАР.

Назовите причины, способствовавшие формированию такой структуры производства электроэнергии.

Задание 7. Какие из перечисленных ниже стран являются крупными экспортёрами железной руды?

- 1) Россия;
- 2) ФРГ;
- 3) Франция;
- 4) Великобритания;
- 5) Китай;
- 6) Индия;
- 7) Япония;
- 8) США;
- 9) Канада;
- 10) Бразилия.

Нанесите главные «железорудные мосты» на контурную карту (см. рис. 8).

Задание 8. Перечислите первую пятёрку стран мира по размерам выплавки стали: _____

Подсчитайте долю этих пяти стран в мировой выплавке стали.

Задание 9. Подберите по три—пять примеров крупных районов и центров чёрной металлургии, которые ориентируются:

1) на сочетание бассейнов каменного угля и железной руды _____ ;

2) на каменноугольные бассейны _____ ;

3) на железорудные бассейны _____ ;

4) на грузопотоки каменного угля и железной руды _____ .

Задание 10. Определите, верны ли следующие утверждения:

1. В мире можно выделить четыре машиностроительных региона: Северная Америка, зарубежная Европа, Восточная и Юго-Восточная Азия, страны СНГ. (Да, нет.)

2. Новые индустриальные страны Азии особо выделяются по производству электронно-вычислительной техники. (Да, нет.)

3. Главными районами производства электронно-вычислительной техники в экономически развитых странах являются: Рурский район в ФРГ, Мидленд в Великобритании, Донецко-Приднепровский район на Украине, Уральский район в России. (Да, нет.)

4. В большинстве развивающихся стран машиностроение либо отсутствует, либо представлено несложной металлообработкой. (Да, нет.)

Задание 11. На рис. 10 показаны три первые страны мира по производству станков. Назовите эти страны.

Объясните причины такого первенства.

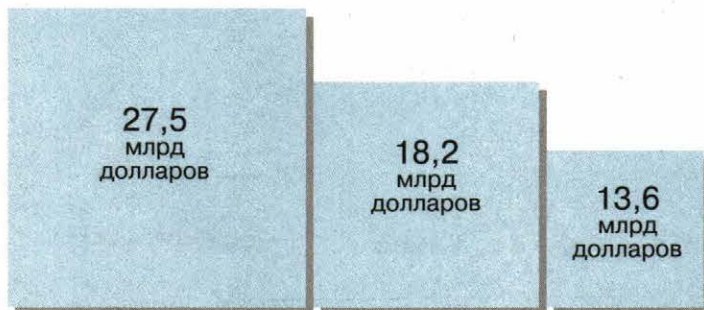


Рис. 10

Задание 12. Укажите первую тройку стран мира по сбору главных сельскохозяйственных культур:

пшеница _____ ;

рис _____ ;

сахарный тростник _____ ;

сахарная свёкла _____ ;

хлопок-волокно _____ ;

картофель _____ .

С помощью условных знаков нанесите эти страны на контурную карту (рис. 11) и сделайте выводы.

Задание 13. Укажите, какая из следующих сельскохозяйственных культур определяет международную специализацию перечисленных ниже стран:

а) пшеница

б) рис

в) кукуруза

г) чай

д) кофе

е) хлопчатник

ж) натуральный каучук

1) Египет

2) Малайзия

3) Канада

4) США

5) Китай

6) Шри-Ланка

7) Колумбия





УСЛОВНЫЕ ЗНАКИ

Страны, лидирующие по сбору главных сельскохозяйственных культур

- пшеницы
- риса
- сахарного тростника
- сахарной свёклы
- хлопка
- картофеля

Страны, имеющие более одного мирового морского порта



 Морские порты

Масштаб 1:88 000 000 (в 1 см 880 км)

Задание 14. На приведённых круговых диаграммах (рис. 12) показана доля (в %) семи крупных регионов мира (СНГ, зарубежной Европы, зарубежной Азии, Африки, Северной Америки, Латинской Америки, Австралии) в мировом производстве пшеницы, риса и кукурузы.

Напишите на диаграммах регионы, соответствующие цифровым показателям. Сделайте выводы.

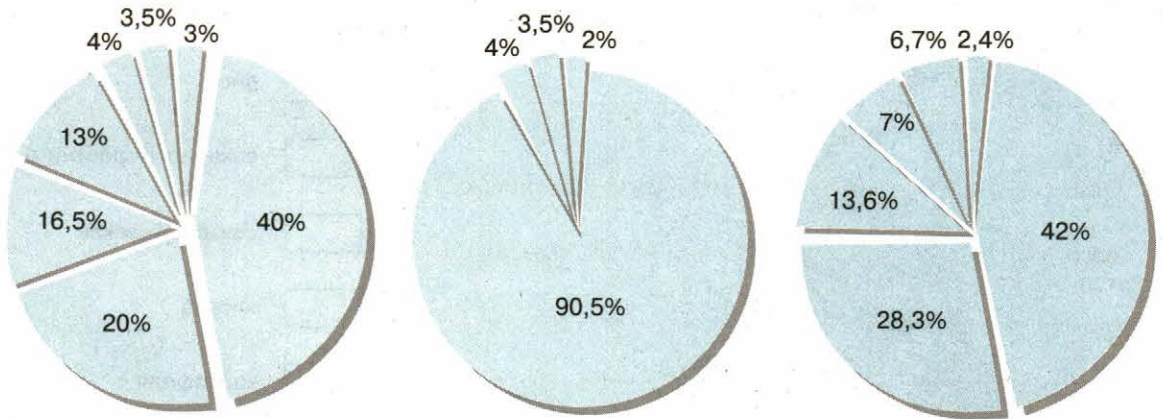


Рис. 12

Задание 15. Установите соответствие:

Домашние животные

Страны с наибольшим поголовьем

1. Крупный рогатый скот
2. Овцы
3. Свины

- а) Австралия
- б) Китай
- в) Индия

Задание 16. Охарактеризуйте масштабы мировой транспортной системы:

Задание 17. Укажите вид транспорта, который занимает первое место в мировом пассажирообороте:

- а) железнодорожный;
- б) автомобильный;
- в) трубопроводный;

- г) морской;
- д) внутренний водный;
- е) воздушный.

Объясните причины.

Задание 18. Укажите страны, которые имеют более одного мирового порта:

Страны	Их мировые порты

Нанесите эти порты на контурную карту (см. рис. 11).

Задание 19. Перечислите основные формы всемирных экономических отношений:

- 1) _____ ;
- 2) _____ ;
- 3) _____ ;
- 4) _____ ;
- 5) _____ ;
- 6) _____ .

Охарактеризуйте их значение в мировом хозяйстве.

Задание 20. Заполните таблицу «Главные страны—экспортёры промышленной и сельскохозяйственной продукции»:

Экспортный товар	Главные страны—экспортёры
Нефть	
Природный газ	
Уголь	
Железная руда	
Бокситы и глинозём	
Медь и медные концентраты	
Машины и оборудование	
Фосфориты и апатиты	
Пшеница	
Рис	
Тростниковый сахар-сырец	
Хлопок-волокно	
Натуральный каучук	
Шерсть	

Выделите среди стран—экспортёров экономически развитые и развивающиеся страны.

Задание 21. На круговой диаграмме (рис. 13) показано распределение (в %) международного туризма по главным регионам мира (Европа, Азия, Африка, Северная Америка, Латинская Америка, Австралия). Надпишите на диаграмме названия регионов, соответствующих приведённым цифровым показателям.

Какие выводы можно сделать при анализе этой диаграммы?

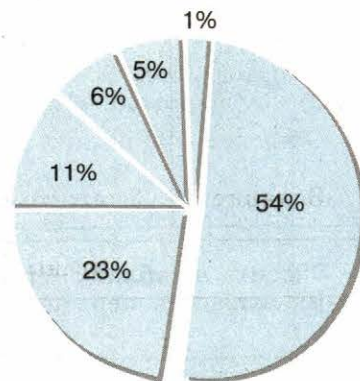


Рис. 13

Задание 22. Среди перечисленных ниже стран подчеркните те, которые занимают первые пять мест в мире по приёму иностранных туристов:

- 1) Великобритания; 2) Греция; 3) Италия; 4) Испания; 5) Китай; 6) Кипр;
- 7) Мексика; 8) Нидерланды; 9) Франция; 10) США.

Объясните свой выбор.

Тема 6. ЗАРУБЕЖНАЯ ЕВРОПА

Задание 1. Нарисуйте ментальную (мысленную) политическую карту зарубежной Европы.

Задание 2. Нанесите на контурную карту (рис. 14) государства зарубежной Европы и их столицы. Сколько всего государств в этом регионе мира? Какие из них образовались в конце 80-х — начале 90-х гг. XX в.? Объясните причины данного явления.

Задание 3. Укажите, какие из перечисленных ниже стран являются конституционными монархиями (выберите нужную строку):

- а) Великобритания, Нидерланды, Дания, Норвегия, Швеция, Испания;
- б) Германия, Австрия, Швейцария, Венгрия, Португалия, Греция.

Задание 4. Заполните таблицу, характеризующую обеспеченность стран зарубежной Европы минеральными ресурсами, по следующей форме:

Нефть и природный газ	Каменный уголь	Бурый уголь	Железная руда	Руды цветных металлов	Горно-химическое сырьё

Внесите в таблицу названия только тех стран, которые обладают самыми большими запасами перечисленных минеральных ресурсов. Сделайте выводы:

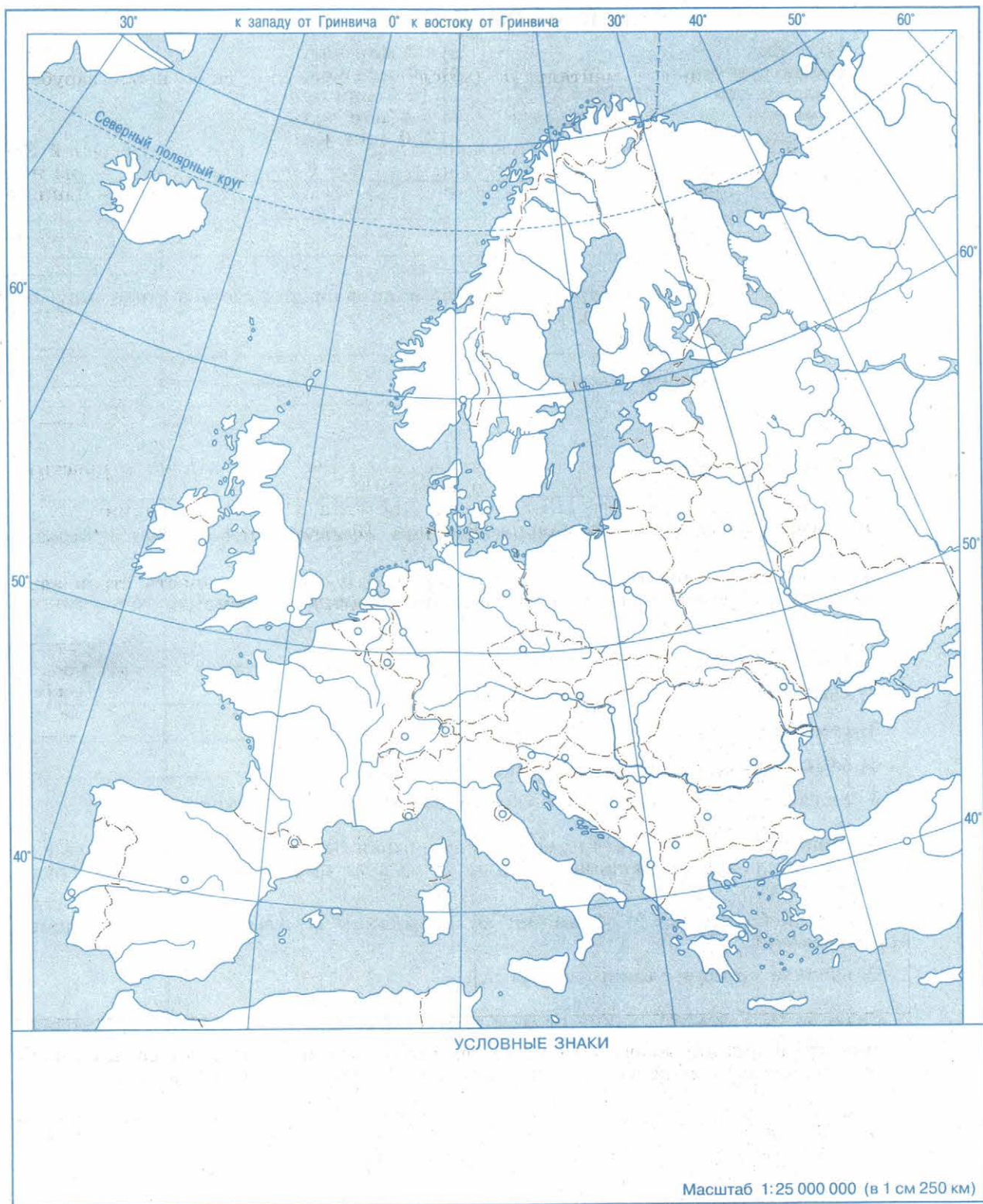


Рис. 14

Задание 5. Составьте пары по принципу «государство — население»:

- | | |
|-------------------|------------------|
| 1. Болгария | а) 62 млн чел. |
| 2. Великобритания | б) 19 млн чел. |
| 3. Нидерланды | в) 16,6 млн чел. |
| 4. Румыния | г) 7,4 млн чел. |
| 5. Словения | д) 2,0 млн чел. |

Задание 6. Заполните таблицу «Три типа национального состава стран зарубежной Европы» по следующей форме:

Тип национального состава	Примеры стран
1. Однонациональный 2. Двунациональный 3. Многонациональный	

Укажите, какой тип национального состава населения преобладает в странах зарубежной Европы.

Задание 7. Назовите государства зарубежной Европы (без государств-карликов), имеющие:

- 1) самую высокую плотность населения _____;
- 2) самую низкую плотность населения _____;
- 3) самый высокий уровень урбанизации _____;
- 4) самый низкий уровень урбанизации _____.

Укажите, в каких субрегионах зарубежной Европы они находятся.

Задание 8. Какие из перечисленных ниже стран Западной Европы лидируют по размерам трудовой иммиграции, а какие — по доле иммигрантов в составе трудовых ресурсов?

- 1) Великобритания; 2) Франция; 3) Германия; 4) Австрия; 5) Швейцария;
- 6) Люксембург.

Объясните причины такого лидерства.

Задание 9. Укажите, какие страны зарубежной Европы лидируют в производстве (добыче):

- 1) угля _____;
- 2) нефти _____;
- 3) природного газа _____;
- 4) металлорежущих станков _____;
- 5) легковых автомобилей _____.

Какие выводы можно сделать на основании этих данных?

Задание 10. На рис. 15 надпишите главные города Франции по заглавным буквам их названий. Выделите среди них три самых больших города-миллионера (агломерации).

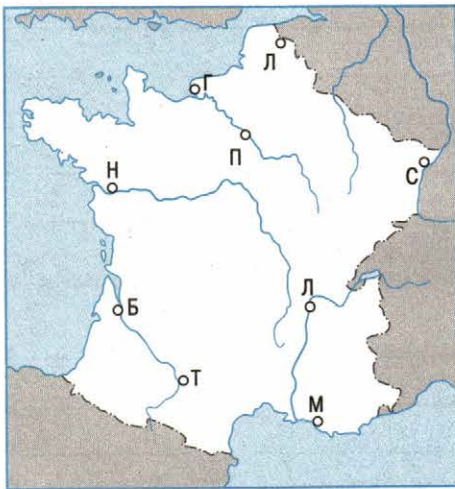


Рис. 15

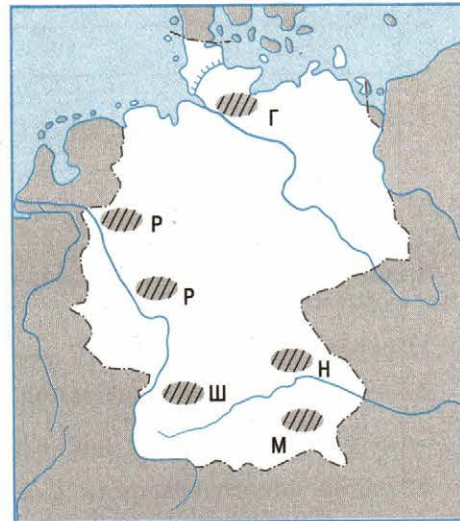


Рис. 16

Задание 11. На рис. 16 надпишите главные промышленные районы Германии по заглавным буквам их названий. Выделите среди них два самых крупных.

Задание 12. Определите сельскохозяйственные культуры, наиболее характерные для двух основных типов сельского хозяйства зарубежной Европы, и составьте таблицу по следующей форме:

Среднеевропейский тип	Южноевропейский тип

Объясните причины такой специализации сельского хозяйства.

Задание 13. Назовите главные морские порты Северного моря:

- | | |
|------------|------------|
| 1) _____ ; | 4) _____ ; |
| 2) _____ ; | 5) _____ ; |
| 3) _____ ; | 6) _____ . |

В каких странах они находятся?

Задание 14. Перечислите причины обострения экологических проблем в зарубежной Европе:

- 1) _____ ;
- 2) _____ ;
- 3) _____ ;
- 4) _____ ;
- 5) _____ ;
- 6) _____ .

Задание 15. Приведите примеры районов зарубежной Европы, относящихся к следующим типам:

- 1) высокоразвитый район _____ ;
- 2) старопромышленный район _____ ;
- 3) отсталый аграрный район _____ ;
- 4) район нового освоения _____ .

Укажите, какая региональная политика характерна для каждого из этих типов районов.

Задание 16. Определите страну по следующим её характерным чертам:

- 1) не имеет выхода к морю;
- 2) столица не самый крупный город страны;
- 3) половина электроэнергии вырабатывается на ГЭС и почти половина — на АЭС;
- 4) в промышленности особенно развиты точное машиностроение, приборостроение, производство часов, фармацевтика;
- 5) является крупнейшим средоточием банков и банковского капитала;
- 6) поддерживает постоянный нейтралитет, вошла в ООН только в 2002 г.

Задание 17. Определите следующие страны:

1. Страна, расположенная на полуострове, со столицей, находящейся в его центре. В прошлом владела большой колониальной империей. Конституционная монархия. Занимает второе место в регионе по количеству иностранных туристов.

2. Самая «длинная» страна зарубежной Европы с развитыми судостроением, гидроэнергетикой, рыболовством, судоходством. Относительно новая специализация — добыча и экспорт нефти и природного газа.

3. Страна с населением свыше 38 млн чел., относящаяся к числу односторонних. Население исповедует католицизм. Выделяется по добыче угля, производству меди, чёрных металлов, сахарной свёклы, картофеля.

Задание 18. Узнайте город:

- 1) столица одной из стран Северной Европы, расположенная на острове;
- 2) столица государства Южной Европы, возникшая ещё в эпоху Античности и названная по имени одной из богинь;
- 3) столица островного государства Северной Европы, где для обогрева зданий используется геотермальное тепло;
- 4) столица одной из стран Восточной Европы с населением 2 млн чел., расположенная в среднем течении большой международной реки;

5) крупнейший по грузообороту порт Западной Европы, расположенный на одном из рукавов большой международной реки.

Задание 19. По очертаниям определите страны, изображённые на рис. 17. Напишите названия их столиц:

- 1) _____ ; 3) _____ ;
 2) _____ ; 4) _____ ;
 5) _____ ;
 6) _____ .

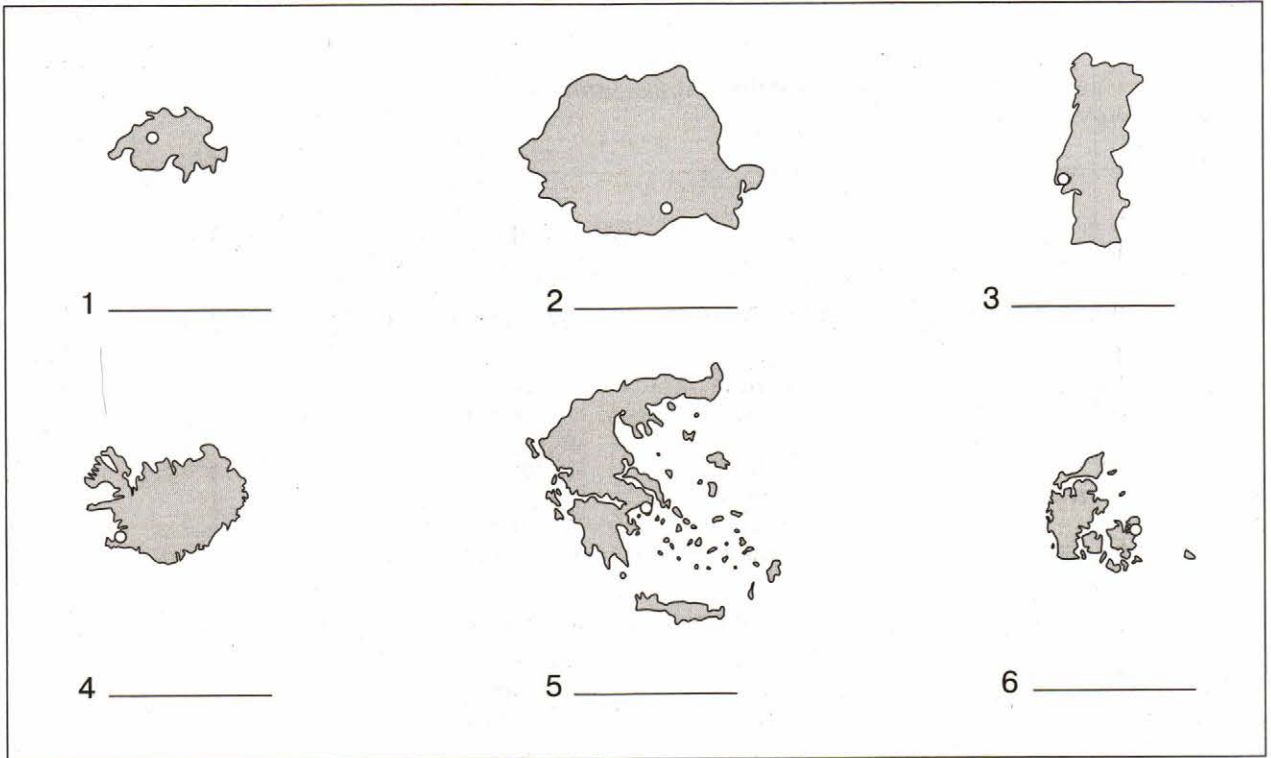


Рис. 17

Задание 20. Установите соответствие:

Субрегионы

- а) Северная Европа
- б) Западная Европа
- в) Южная Европа
- г) Восточная Европа

Страны

- 1. Финляндия
- 2. Австрия
- 3. Португалия
- 4. Румыния
- 5. Литва
- 6. Нидерланды
- 7. Греция
- 8. Ирландия

Тема 7. ЗАРУБЕЖНАЯ АЗИЯ. АВСТРАЛИЯ

Задание 1. Сравните страны зарубежной Азии со странами зарубежной Европы по размерам территории. Подберите европейские страны-аналоги к тем государствам Азии, которые перечислены в следующей таблице:

Страны Азии	Площадь, тыс. км ²	Страны Европы	Площадь, тыс. км ²
Таиланд	514		
Япония	372		
Филиппины	300		
Республика Корея	98		
Кувейт	20		

Назовите страны зарубежной Азии, аналогов которым по размерам территории в зарубежной Европе нет.

Задание 2. Напишите в скобках названия стран, столицами которых являются перечисленные ниже города:

1. Анкара (_____)
2. Багдад (_____)
3. Бангкок (_____)
4. Дакка (_____)
5. Дамаск (_____)
6. Кабул (_____)
7. Манила (_____)
8. Янгон (_____)
9. Ханой (_____)
10. Эр-Рияд (_____)

Задание 3. Назовите страны зарубежной Азии, не имеющие выхода к открытому морю:

- 1) _____ ;
- 2) _____ ;
- 3) _____ ;
- 4) _____ ;
- 5) _____ .

Задание 4. Нанесите на контурную карту (рис. 18) главные районы добычи нефти в зарубежной Азии. Перечислите 10 стран, в которых ведётся добыча нефти:

- 1) _____ ;
- 2) _____ ;
- 3) _____ ;
- 4) _____ ;
- 5) _____ ;
- 6) _____ ;
- 7) _____ ;
- 8) _____ ;
- 9) _____ ;
- 10) _____ .

Укажите, в каком из субрегионов Азии расположено большинство из этих стран.

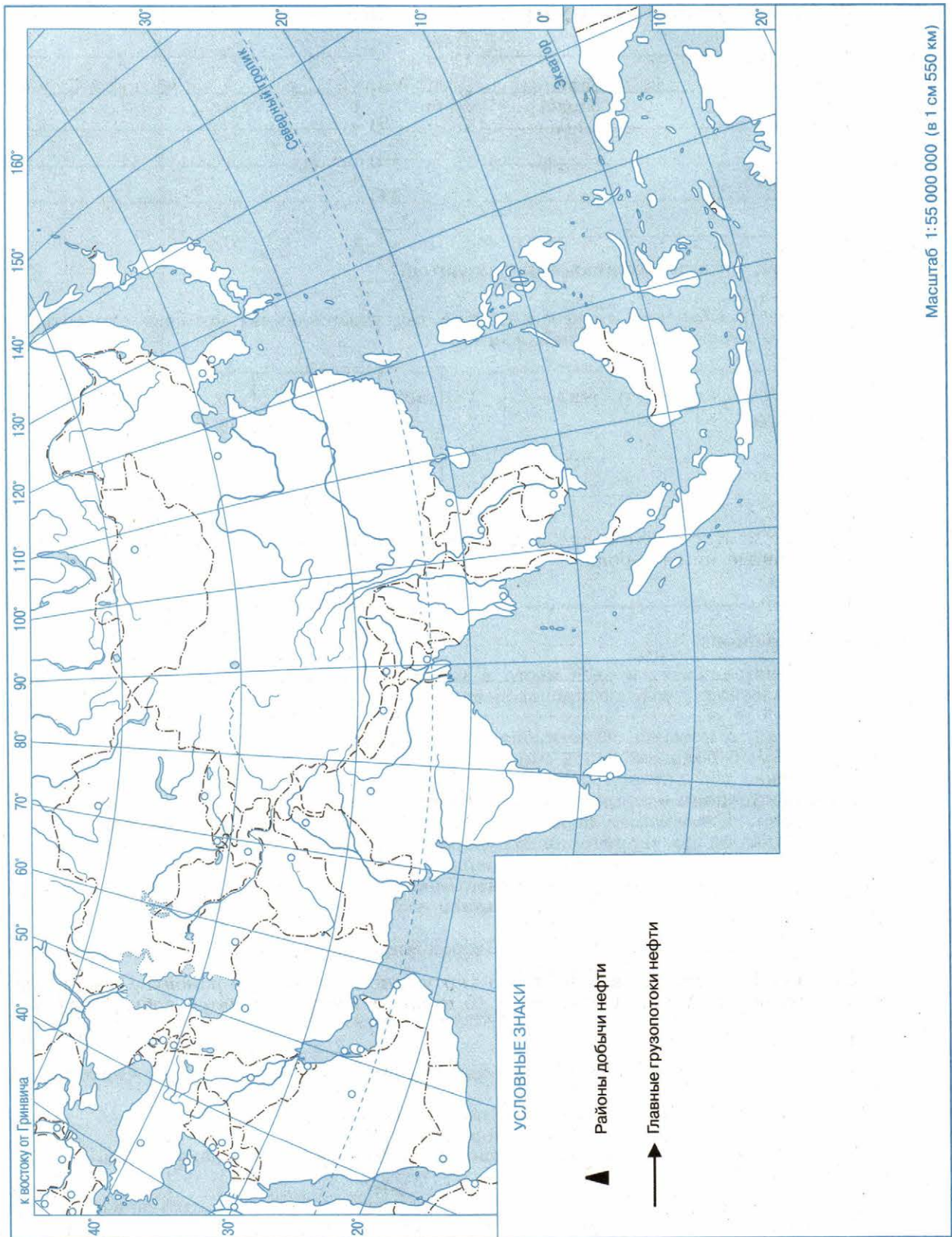


Рис. 18

Задание 5. Назовите 11 «сверхгородов» зарубежной Азии:

- 1) _____ ; 7) _____ ;
 2) _____ ; 8) _____ ;
 3) _____ ; 9) _____ ;
 4) _____ ; 10) _____ ;
 5) _____ ; 11) _____ .
 6) _____ ;

Укажите, в каких странах они находятся.

Задание 6. Обведите кружком номера тех утверждений, которые относятся к следующим странам зарубежной Азии:

1. Индия	1	2	3	4	5	6	7	8
2. Индонезия	1	2	3	4	5	6	7	8
3. Китай	1	2	3	4	5	6	7	8
4. Монголия	1	2	3	4	5	6	7	8
5. Саудовская Аравия	1	2	3	4	5	6	7	8
6. Сингапур	1	2	3	4	5	6	7	8
7. Шри-Ланка	1	2	3	4	5	6	7	8
8. Япония	1	2	3	4	5	6	7	8

Утверждения:

1. Страна занимает первое место в мире по численности населения, по добыче угля и железной руды, по производству телевизоров, велосипедов, по сбору риса и хлопка.
2. Страна, в которой сформировался крупнейший в регионе мегалополис и находится самый большой город мира.
3. Страна, для которой характерно отсутствие единого экономического центра при сосредоточении экономической жизни в четырёх крупнейших городах.
4. Страна, занимающая первое место в мире по запасам и добыче нефти.
5. Небольшое по территории государство, столицей которого является город-порт, занимающий по грузообороту первое место в мире.
6. Самая большая внутриконтинентальная страна мира.
7. Островное государство, специализирующееся на производстве и экспорте чая.
8. Государство, которое до конца Второй мировой войны было главным центром колониальной империи Нидерландов.

Задание 7. Укажите, какие из следующих утверждений являются правильными:

1. Китай занимает первое место в мире по размерам территории и численности населения.
2. В Китае сооружается самая крупная в мире ГЭС — Санься.
3. Шанхай и Пекин — главные морские порты Китая.
4. Шэньчжэнь — самая крупная свободная экономическая зона Китая.

Задание 8. На рис. 19 надпишите главные города Китая по заглавным буквам их названий.

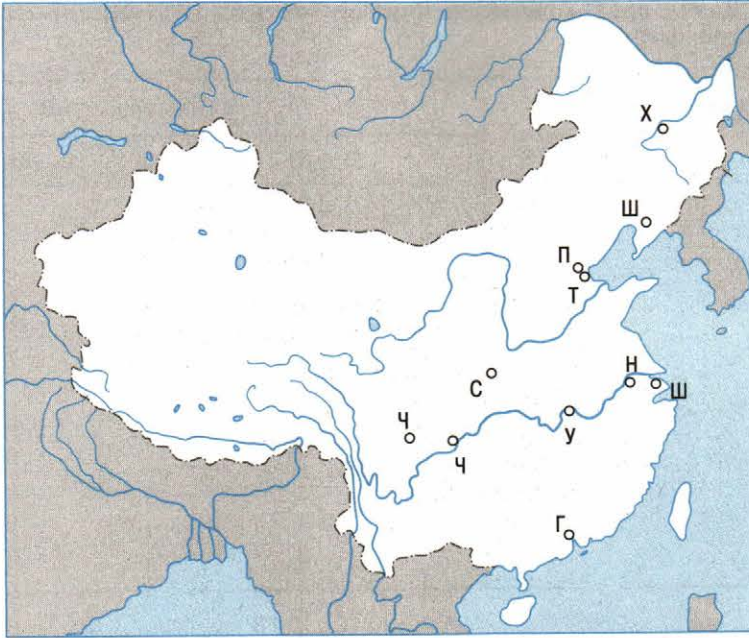


Рис. 19

Задание 9. Укажите главные сельскохозяйственные культуры Китая, которые выращиваются:

1) в пределах 30—40° с. ш. _____

2) в пределах 20—30° с. ш. _____

Объясните такую специализацию и охарактеризуйте её изменения при продвижении с севера на юг.

Задание 10. Укажите, какие из следующих утверждений являются правильными:

1. Население Японии в последнее время быстро возрастает.
2. Ни одна другая страна мира не имеет такого количества мировых морских портов, как Япония.
3. Связь между островами Хонсю и Хоккайдо осуществляется с помощью паромной переправы.
4. Три самые большие городские агломерации Японии — Токио, Саппоро, Нагасаки.

Задание 11. На рис. 20 надпишите главные города Японии по заглавным буквам их названий.

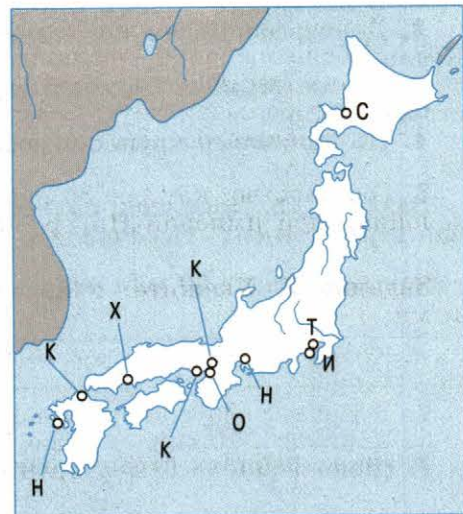


Рис. 20

Задание 12. Дайте сравнительную характеристику ЭГП Японии и Великобритании по следующей форме:

Черты сходства	Черты различий	
	Япония	Великобритания

Задание 13. Перечислите главные товары экспорта и импорта Японии:

1) экспорт: _____

_____ ;

2) импорт: _____

_____ .

Сравните состав экспорта и импорта и объясните различия. Нанесите на контурную карту (см. рис. 18) главные грузопотоки нефти из стран зарубежной Азии в Японию.

Задание 14. Какие из следующих утверждений являются правильными?

1. В административном отношении Индия подразделяется на 29 штатов.
2. Демографическая политика в Индии оказалась более результативной, чем в Китае.
3. Города Мумбаи (Бомбей) и Колката (Калькутта) играют роль экономических столиц Индии.
4. По поголовью крупного рогатого скота Индия занимает первое место в мире.

Задание 15. Докажите положение учебника: «Индия — самая многонациональная страна мира». Перечислите пять народов Индии, численность каждого из которых превышает 50 млн чел.: _____

_____ .

В каких районах страны они проживают? _____

_____ .

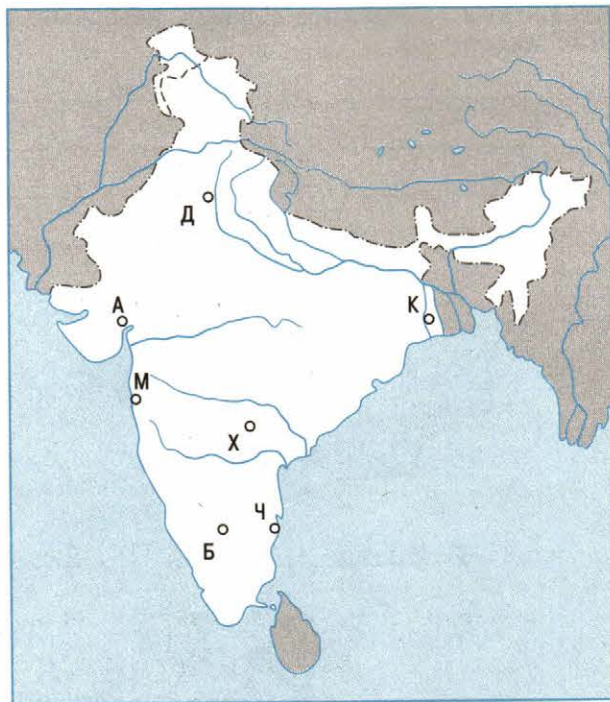


Рис. 21

Задание 16. На рис. 21 надпишите главные города Индии по заглавным буквам их названий.

Задание 17. Укажите страны, с которыми Индия имеет сухопутные границы:

- 1) _____ ;
- 2) _____ ;
- 3) _____ ;
- 4) _____ ;
- 5) _____ ;
- 6) _____ ;
- 7) _____ .

Задание 18. Узнайте город:

- 1) новая столица четвертой по численности населения страны зарубежной Азии, расположенная в долине реки Инд;
- 2) один из древнейших городов мира, недавно отметивший своё 3000-летие, богатый памятниками трёх религий, но до сих пор не имеющий общепризнанного международного статуса;
- 3) древний город, столица страны, расположенная на реке Джамна;
- 4) расположенный на берегах морского пролива самый большой город страны, но не являющийся её столицей;
- 5) столичный город с населением около 17 млн чел., в центре которого сохранился бывший императорский Запретный город.

Задание 19. По очертаниям определите страны, изображённые на рис. 22. Надпишите названия их столиц:

- 1) _____ ; 4) _____ ;
 2) _____ ; 5) _____ ;
 3) _____ ; 6) _____ .

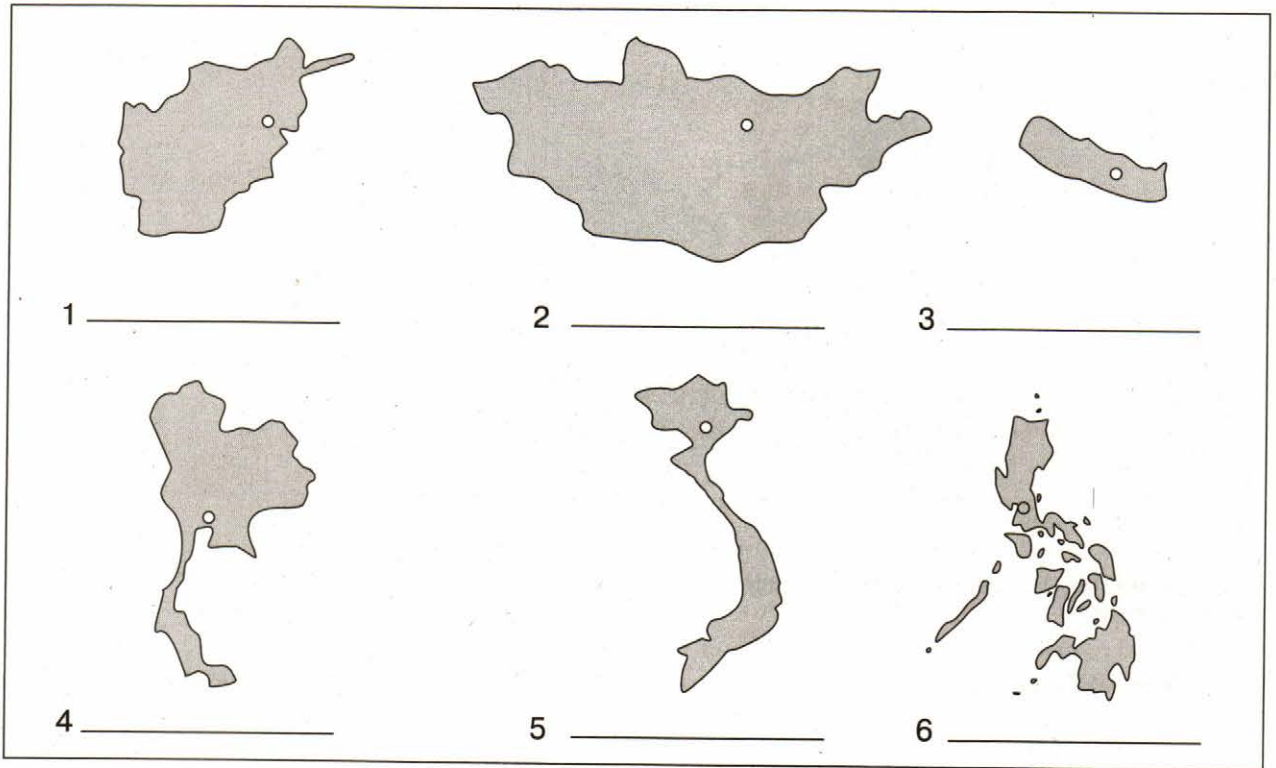


Рис. 22

Задание 20. Установите соответствие:

Субрегионы

1. Юго-Западная Азия
2. Южная Азия
3. Юго-Восточная Азия
4. Восточная Азия

Страны

- а) Камбоджа
- б) Непал
- в) Иран
- г) Саудовская Аравия
- д) Филиппины
- е) Республика Корея
- ж) Израиль
- з) Шри-Ланка

Задание 21. Перечислите основные виды продукции, которые Австралия экспортирует:

Тема 8. АФРИКА

Задание 1. Подчеркните те из перечисленных ниже стран Африки, которые были политически независимыми ещё до Второй мировой войны:

1) Алжир; 2) Ангола; 3) Гана; 4) Либерия; 5) Мадагаскар; 6) Мозамбик; 7) Нигерия; 8) Сенегал; 9) Тунис; 10) Эфиопия.

Укажите, колониями каких европейских стран-метрополий являлись остальные из этих стран:

Задание 2. Подчеркните те из перечисленных ниже стран Африки, которые не имеют выхода к открытому морю:

1) Ботсвана; 2) Замбия; 3) Зимбабве; 4) Мали; 5) Марокко; 6) Намибия; 7) Нигер; 8) Сомали; 9) Уганда; 10) Чад.

К какой из подгрупп развивающихся стран относится большинство из них?

Задание 3. Назовите островные государства Африки:

Задание 4. Напишите в скобках страны, столицами которых являются следующие города:

- | | |
|---------------------|-------------------------|
| 1. Дакар (_____) | 6. Найроби (_____) |
| 2. Киншаса (_____) | 7. Претория (_____) |
| 3. Луанда (_____) | 8. Рабат (_____) |
| 4. Мапуту (_____) | 9. Антананариву (_____) |
| 5. Монровия (_____) | 10. Хартум (_____) |

Задание 5. Подчеркните те из перечисленных ниже стран Африки, которые занимают три первых места по численности населения:

1) Египет; 2) Камерун; 3) Кения; 4) Демократическая Республика Конго; 5) Нигерия; 6) Судан; 7) Танзания; 8) Уганда; 9) ЮАР; 10) Эфиопия.

Сравните их по числу жителей с самыми большими по населению странами зарубежной Азии. Сделайте обобщение.

Задание 6. Определите, какая из приведённых ниже «формул» воспроизводства населения относится к Африке (в ‰):

1) $12 - 10 = 2$; 2) $19 - 7 = 12$; 3) $26 - 8 = 18$; 4) $40 - 15 = 25$; 5) $13 - 8 = 5$;
6) $16 - 7 = 9$; 7) $35 - 15 = 20$.

Объясните, что скрывается за этой «формулой».

Задание 7. Приведите примеры стран Африки, для которых характерны наибольшие контрасты плотности населения:

Задание 8. Определите (отметив знаком «+» или «-»), какие из следующих утверждений правильные, а какие неправильные:

1. Доля Африки в мировой горнодобывающей промышленности особенно велика по алмазам, золоту, кобальтовым рудам, хромитам, марганцевой руде, урану, фосфоритам, медным рудам.

2. Из стран Африки наиболее высокого уровня социально-экономического развития достигла Нигерия.

3. Хозяйственная жизнь Северной Африки сосредоточена в приморской полосе.

4. Тропическая Африка наименее индустриализированный и урбанизированный регион не только Африки, но и всего мира.

5. Сахель — главный район засух и опустынивания на африканском континенте.

6. Южно-Африканскую Республику можно назвать страной с двойной экономикой.

Задание 9. Ниже приведён список африканских стран и указаны основные товары их экспорта. В скобках около названия каждой страны поставьте цифру наиболее характерного для неё экспортного товара:

1) Ботсвана (); 2) Гана (); 3) Гвинея (); 4) Замбия (); 5) Либерия (); 6) Ливия (); 7) Нигер (); 8) Сенегал (); 9) Судан (); 10) Уганда ().

1) Алмазы; 2) арахис; 3) бокситы; 4) железные руды; 5) какао-бобы; 6) кофе; 7) медные руды; 8) нефть; 9) хлопок; 10) уран.

Нанесите эти страны на контурную карту (рис. 23) и надпишите экспортный товар каждой из них.

Задание 10. Подчеркните те из перечисленных ниже видов полезных ископаемых, которые определяют профиль горнодобывающей промышленности Северной Африки:

1) уголь; 2) бокситы; 3) нефть; 4) природный газ; 5) фосфориты; 6) медные руды.

Задание 11. В приведённом ниже перечне городов отметьте столицы стран Западной Африки:

1) Абиджан; 2) Абуджа; 3) Аккра; 4) Киншаса; 5) Конакри; 6) Луанда; 7) Монровия; 8) Найроби.

Задание 12. Определите страну по следующим её характерным чертам:

1) территория страны находится в Африке и Азии;

2) на территории, составляющей всего 4% общей площади страны, концентрируется 98% населения;

3) столица страны — второй по населению город Африки;

4) сельское хозяйство страны специализируется на производстве длинноволокнистых сортов хлопчатника;

5) большие доходы страна получает от эксплуатации международного морского канала.

Задание 13. Определите следующие страны:

1. Страна Западной Африки, не имеющая выхода к морю и относящаяся к категории наименее развитых. Столица страны — Нджамена.

2. Бывшая колония Франции в Северной Африке, специализирующаяся на поставках в Европу нефти и сжиженного природного газа.

3. Небольшая по территории, но густозаселённая страна Восточной Африки, которая в 90-х гг. XX в. стала ареной острейшего межнационального конфликта.

4. Вторая по территории страна Африки, которую с юга на север пересекает самая длинная река мира.

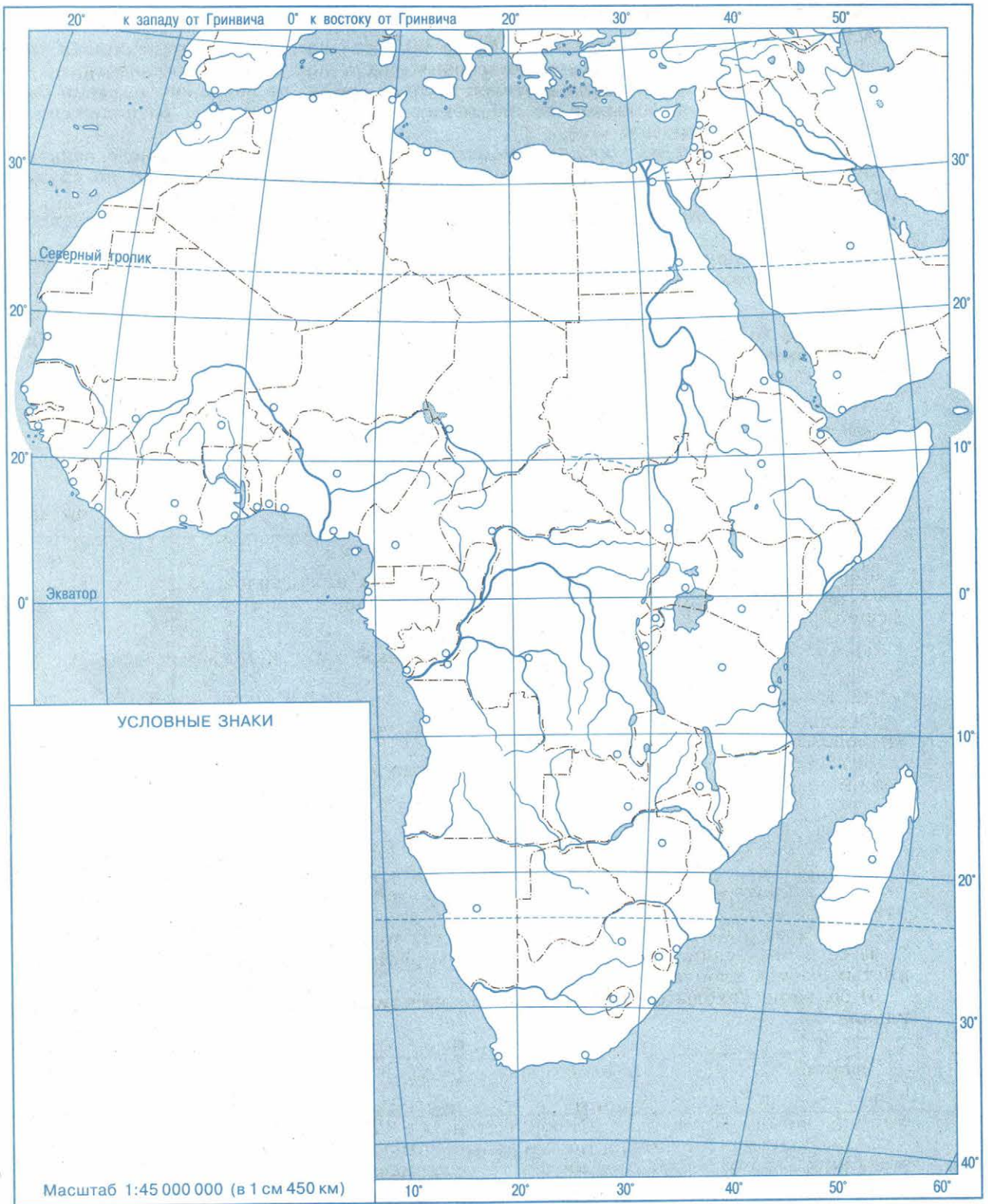


Рис. 23

Задание 14. Узнайте город:

1. Столица страны с населением более 90 млн чел., недавно отметившая своё тысячелетие, знаменитая культурно-историческими достопримечательностями.

2. Самый большой по числу жителей город Африки, до недавнего времени бывший столицей самой большой по населению страны континента, расположенный на прибрежных островах.

3. Самый южный из городов Африки, название которого в переводе означает «город на мысе». Хотя и не является официальной столицей страны, но служит резиденцией её парламента.

4. Столица одной из стран Северной Африки, расположенная на месте древнего Карфагена.

5. Столицы двух стран с одинаковыми названиями, расположенные друг против друга на берегах большой реки.

Задание 15. По очертаниям определите страны, изображённые на рис. 24. Напишите названия их столиц.

- 1) _____ ; 4) _____ ;
2) _____ ; 5) _____ .
3) _____ ;

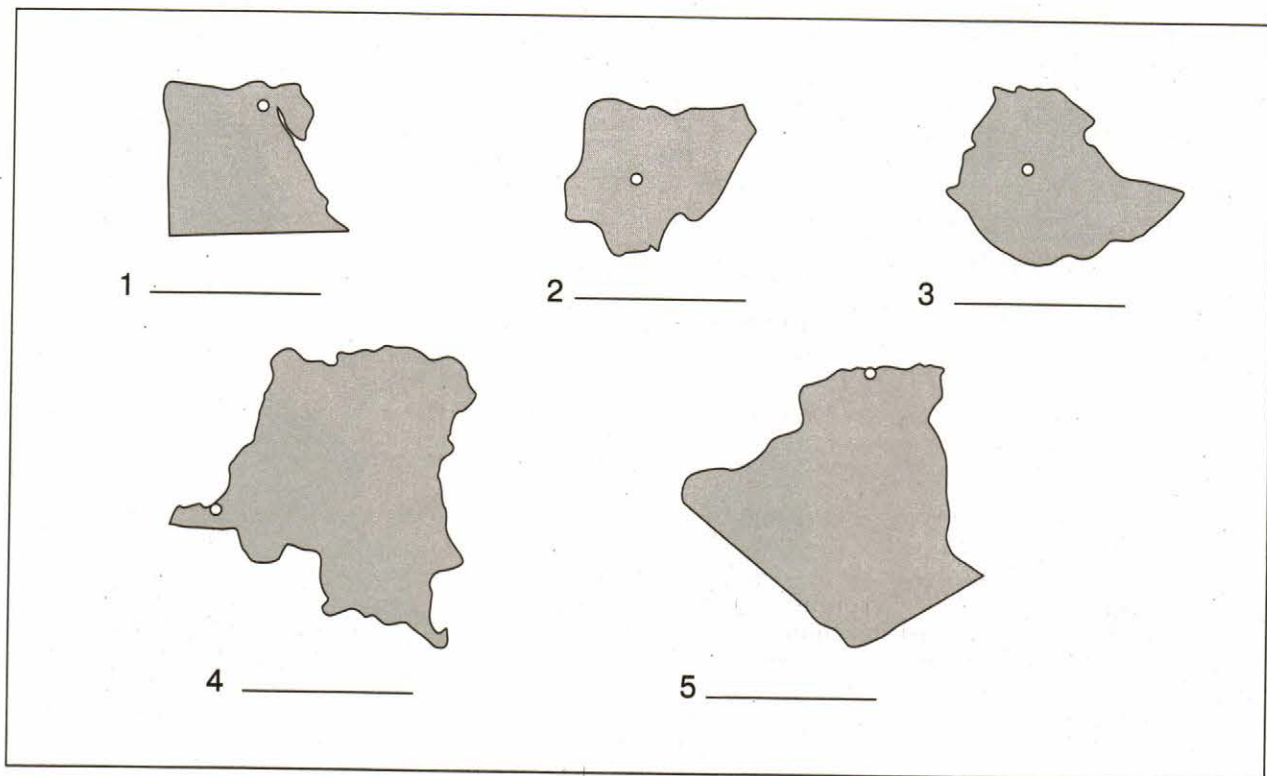


Рис. 24

Тема 9. СЕВЕРНАЯ АМЕРИКА

Задание 1. Заполните пропуски в следующих предложениях:

1. Северная Америка в составе США и Канады занимает территорию _____ с населением _____.

2. По размерам территории США занимают среди стран мира _____ место. В их состав входят _____ части.

3. Выгодность ЭГП США объясняется прежде всего _____

4. По государственному строю США — _____

Задание 2. Приведите примеры полезных ископаемых, которыми США обеспечены:

1) с избытком _____ ;

2) с некоторым недостатком _____ ;

3) совсем не обеспечены _____ .

Задание 3. Подчеркните название крупного региона мира, на который в течение последних трёх-четырёх десятилетий приходится преобладающая часть мигрантов в США:

1) зарубежная Европа; 2) зарубежная Азия; 3) Африка; 4) Латинская Америка.

Обоснуйте свой вывод.

Задание 4. Сравните США по уровню урбанизации с другими развитыми странами Запада, используя форму следующей таблицы:

Страна	Уровень урбанизации, %	Страна	Уровень урбанизации, %
США	_____	Бельгия	_____
Германия	_____	Швеция	_____
Великобритания	_____	Япония	_____
Франция	_____	Канада	_____
Нидерланды	_____	Австралия	_____

Сделайте выводы.

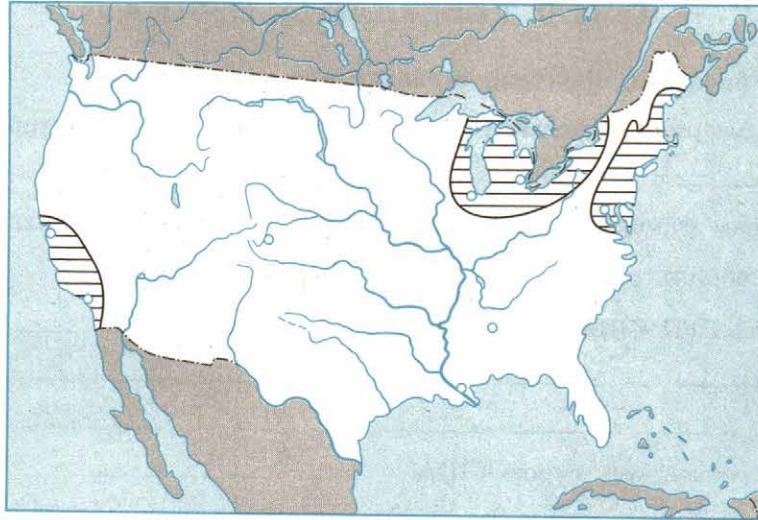


Рис. 25

Задание 5. На картосхеме (рис. 25) даны контуры трёх мегалополисов США. Подпишите их названия и крупнейшие города, расположенные в пределах каждого из них. На основе полученной картосхемы сделайте выводы.

Задание 6. Заполните пропуски в следующих предложениях:

1. Metallургические комбинаты в районе Чикаго работают на железной руде из _____ и каменном угле из _____.
2. Metallургические комбинаты на Атлантическом побережье США работают на железной руде из _____ и каменном угле из _____.
3. Главный район нефтяной промышленности США расположен _____.
4. Главный район текстильной промышленности США расположен _____.

Задание 7. Укажите (подчеркните), какие из перечисленных ниже штатов США выделяются по размерам добычи нефти:

- 1) Алабама; 2) Аляска; 3) Вашингтон; 4) Джорджия; 5) Калифорния; 6) Нью-Йорк; 7) Огайо; 8) Оклахома; 9) Техас; 10) Флорида.

Задание 8. Составьте таблицу «Промышленные пояса США» по следующей форме:

Название пояса	Ведущие отрасли	Главные центры
1.		
2.		
3.		
4.		

Сделайте выводы.

Задание 9. Укажите, подчеркнув линиями разных цветов, какие из перечисленных ниже штатов США выделяются по: а) сборам пшеницы; б) сборам кукурузы; в) сборам южных фруктов и цитрусовых; г) сборам хлопка-волокна; д) производству молочных продуктов:

- 1) Айова; 2) Висконсин; 3) Иллинойс; 4) Калифорния; 5) Канзас; 6) Миссисипи; 7) Небраска; 8) Северная Дакота; 9) Флорида; 10) Южная Дакота.

Объясните такую специализацию штатов.

Задание 10. Приведите примеры постадийной специализации в сельском хозяйстве США: _____

Задание 11. Заполните таблицу «Главные морские порты США» по следующей форме:

Порты, расположенные:	Примеры портов
а) на Атлантическом побережье	_____
б) на побережье Мексиканского залива	_____
в) на побережье Тихого океана	_____
г) на побережье Великих озёр	_____

Задание 12. Укажите, верны ли приведённые ниже утверждения:

1. Каркас транспортной сети США образуют трансконтинентальные магистрали широтного и меридионального направлений. (Да, нет.)
2. Самый крупный транспортный узел США — Лос-Анджелес. (Да, нет.)
3. США ежегодно посещают 45—50 млн иностранных туристов. (Да, нет.)
4. Состояние окружающей среды в США в последнее время улучшилось. (Да, нет.)

Задание 13. Закончите следующие предложения:

1. По сравнению с Западной Европой США представляют собой страну с _____ открытой экономикой.
2. По размерам внешнеторгового оборота США занимают _____ место в мире.
3. США экспортируют примерно _____ всей собираемой в стране пшеницы.
4. Главные торговые партнёры США — _____.

Задание 14. Ниже приведены по три разных утверждения, относящиеся к каждому из четырёх макрорегионов США. Выберите из них то, которое верно для данного макрорегиона, и обозначьте его соответствующей цифрой в квадратике.

Макрорегион	1	2	3
1. Северо-Восток <input type="checkbox"/>	Здесь находится мегалополис Босвап	Вашингтон — город небоскрёбов	Бостон — финансовый центр США
2. Средний Запад <input type="checkbox"/>	Детройт выделяется по производству стали	Чикаго называют столицей Среднего Запада	Район даёт $\frac{1}{2}$ сельскохозяйственной продукции США
3. Юг <input type="checkbox"/>	Главная сельскохозяйственная культура — пшеница	Юг развивается медленнее других районов США	Юг — самый большой регион США по численности населения

Макрорегион	1	2	3
4. Запад <input type="checkbox"/>	Калифорния занимает первое место в США по экономической мощи	Самый большой город Запада — Сан-Франциско	На Западе меньше национальных парков, чем на Юге

Задание 15. Дайте сравнительную характеристику Нью-Йорка и Лос-Анджелеса по следующей форме:

Показатели	Нью-Йорк	Лос-Анджелес
Численность населения		
В какой мегалополис входит		
Основной производственный профиль		
Основной непроизводственный профиль		

Задание 16. Канада занимает первое место по добыче кобальта, калийных солей и асбеста, второе — урана, цинковых руд и серы, третье — природного газа и платиноидов, четвертое — медной руды и золота, пятое — свинцовых руд, седьмое — серебра. По добыче угля, нефти, железной руды она стоит на восьмом — одиннадцатом местах.

Нанесите главные месторождения этих полезных ископаемых на контурную карту (рис. 26). Определите, какие из них находятся в пределах главной полосы расселения, а какие — на Канадском Севере.

Задание 17. Закончите следующие предложения:

1. Канада имеет сухопутную границу только с _____ .
2. Канада стала доминионом Великобритании в _____ .
3. Главой государства в Канаде официально считается _____ .
4. В Канаде исторически сложились две основные нации: _____ .

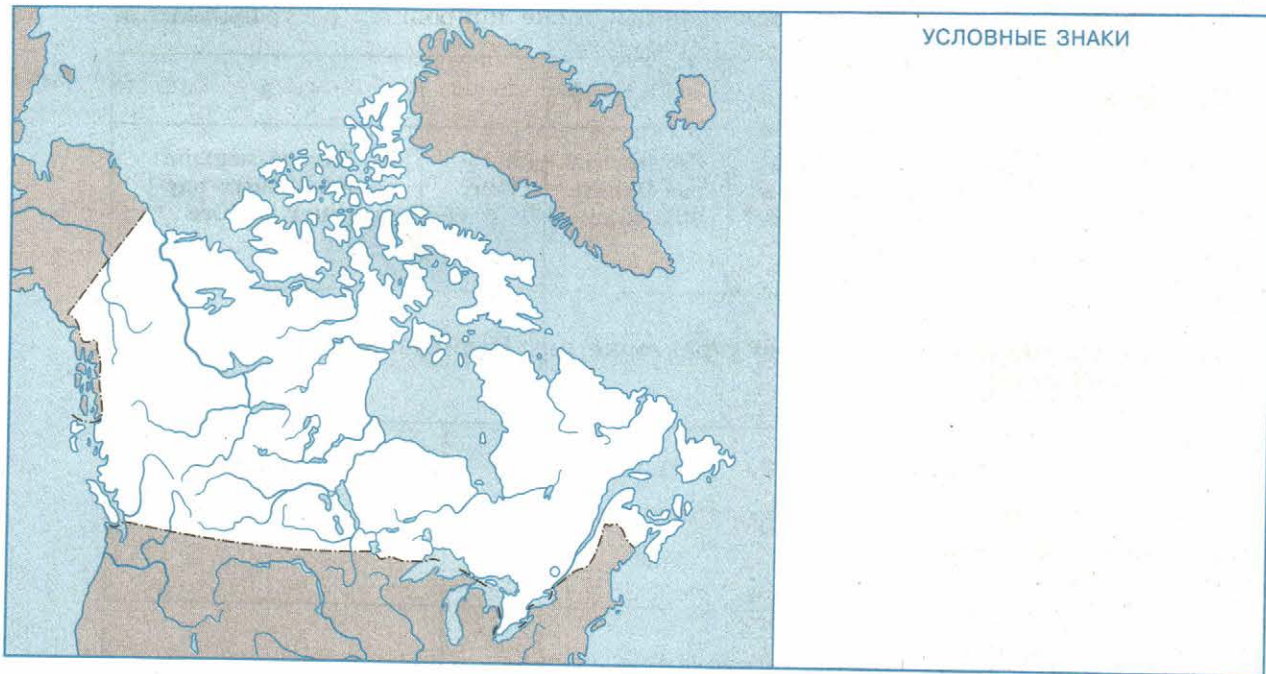


Рис. 26

Тема 10. ЛАТИНСКАЯ АМЕРИКА

Задание 1. Заполните пропуски в следующих предложениях:

1. В большинстве своём страны Латинской Америки долгое время были колониями _____ .

2. Регион Латинская Америка занимает территорию _____ с населением _____. На этой территории находятся _____ суверенных государств.

3. В состав региона Латинская Америка входят следующие субрегионы: _____

4. По государственному строю почти все страны Латинской Америки являются _____

Задание 2. Какие из перечисленных ниже стран относятся к Андскому субрегиону?

1) Венесуэла; 2) Колумбия; 3) Гайана; 4) Эквадор; 5) Перу; 6) Боливия; 7) Чили; 8) Парагвай.

Задание 3. Подчеркните те из приведённых ниже природных ресурсов Латинской Америки, которые имеют мировое значение:

а) нефть; б) уголь; в) железные руды; г) медные руды; д) бокситы; е) водные ресурсы; ж) лесные ресурсы.

Задание 4. Укажите, верно ли утверждение: «Самый высокий уровень лесистости в Латинской Америке, да и в мире, характерен для Суринама, Гайаны и Французской Гвианы»:

а) верно; б) неверно.

Задание 5. Какие из перечисленных ниже стран занимают в Латинской Америке первые три места по численности населения (выберите нужную группу стран)?

- а) Мексика, Колумбия, Венесуэла;
- б) Аргентина, Перу, Чили;
- в) Бразилия, Мексика, Аргентина.

Задание 6. Нанесите на контурную карту (рис. 27) крупнейшие города Латинской Америки, расположенные:

а) на её Восточном (Атлантическом) побережье; б) на её Западном (Тихоокеанском) побережье; в) вдали от побережий океанов и морей.

Проанализируйте полученную картосхему и сделайте обобщение.

Задание 7. Заполните пропуски в следующих предложениях:

1. Народы Латинской Америки говорят преимущественно на _____.

2. Доля индейцев во всём населении особенно велика в таких странах, как _____.

3. Подавляющее большинство жителей Латинской Америки исповедуют _____ религию.

Задание 8. Укажите, подчеркнув линиями разных цветов, какие из перечисленных ниже стран Латинской Америки особенно выделяются по добыче: а) нефти; б) руд железа; в) руд меди; г) руд олова; д) руд никеля; е) бокситов; ж) серы; з) селитры:

- 1) Боливия; 2) Бразилия; 3) Венесуэла; 4) Гайана; 5) Куба; 6) Мексика; 7) Перу;
- 8) Суринам; 9) Чили; 10) Ямайка.

Какая из этих стран обладает наибольшим «ассортиментом» полезных ископаемых?



Рис. 27

Задание 9. Нанесите на контурную карту (см. рис. 27) страны региона, которые выделяются по производству:

а) пшеницы; б) кукурузы; в) сахарного тростника; г) кофе; д) какао; е) бананов; ж) мяса и мясопродуктов.

Проанализируйте полученную картосхему и объясните такую специализацию.

Задание 10. По территории каких из перечисленных ниже стран проходит Трансамазонская автомагистраль?

1) Бразилия; 2) Гайана; 3) Венесуэла; 4) Колумбия; 5) Эквадор; 6) Перу.

Задание 11. Ниже приводится ряд утверждений, относящихся к Бразилии, Аргентине и Мексике. Поставьте слева от них буквы в зависимости от того, справедливо ли соответствующее утверждение: А — только для Бразилии, Б — только для Аргентины, В — только для Мексики, Г — для всех трёх стран, Д — ни для одной из них.

Утверждения:

1. Самая большая по территории и населению страна региона.
2. Самая крупная испаноязычная страна мира.
3. Самая «белая» страна Латинской Америки.
4. Эти страны образуют «большую тройку» государств региона.
5. Эти страны имеют монархическую форму правления.
6. Государственный язык в стране — португальский.
7. В главном сельскохозяйственном районе умеренной зоны этой страны сложился крупнейший агропромышленный комплекс, продукция которого является основными статьями экспорта.

Задание 12. Дополните следующие предложения названиями стран:

_____ — страна, на территории которой в Средние века существовали цивилизации ацтеков и майя.

_____ — страна, где 80 % населения живёт на высоте более 2000 м над уровнем моря.

_____ — страна, имеющая самый высокий в регионе уровень урбанизации.

_____ — страна, на территории которой находится агропромышленный район Пампа.

_____ — страна, которая занимает первое место в мире по производству кофе.

Задание 13. По очертаниям определите страны, изображённые на рис. 28. Напишите названия их столиц.

- 1) _____ ; 4) _____ ;
 2) _____ ; 5) _____ ;
 3) _____ ; 6) _____ .

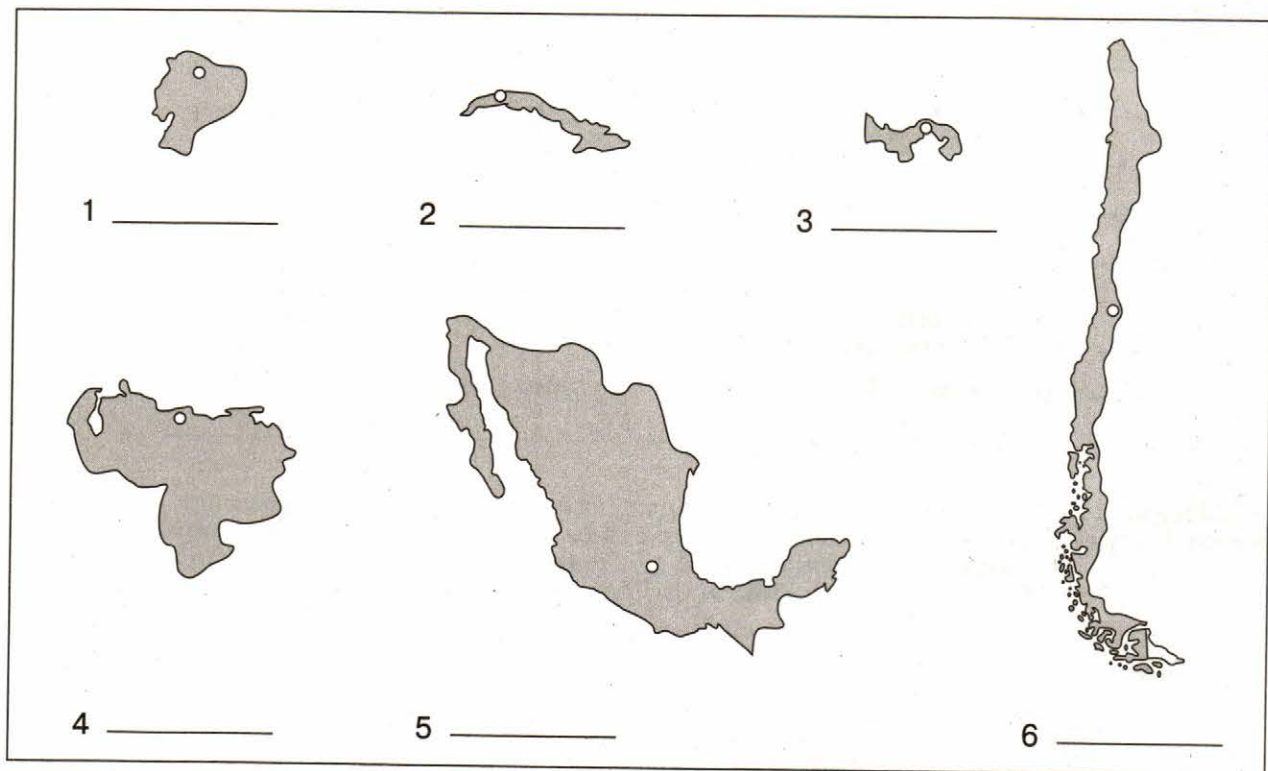


Рис. 28

Задание 14. Узнайте два города:

1. Оба города входят в первую пятёрку сверхгородов мира, но один является и официальной, и экономической столицей своей страны, а другой — экономической столицей.

- а) _____ ; б) _____ .

2. Оба города находятся в одной стране, но один из них был столицей государства инков, а другой был построен испанскими конкистадорами как столица вновь завоёванных земель.

- а) _____ ; б) _____ .

Задание 15. В приведённом ниже перечне отметьте страну, которая не имеет общей границы с Бразилией:

- 1) Аргентина; 2) Уругвай; 3) Боливия; 4) Парагвай; 5) Перу; 6) Эквадор;
 7) Колумбия; 8) Венесуэла; 9) Суринам; 10) Гайана.

Задание 16. Нанесите на контурную карту (рис. 29):

а) старую и новую столицы Бразилии; б) промышленные центры, образующие «индустриальный треугольник» этой страны.



Рис. 29

Тема 11. РОССИЯ В СОВРЕМЕННОМ МИРЕ

Задание 1. Охарактеризуйте место России в мировой политике, указав, членом каких международных политических организаций она является.

Задание 2. Оцените место России в мировом природно-ресурсном потенциале, указав, по каким из следующих видов природных ресурсов она занимает первое или второе место в мире: 1) нефть; 2) природный газ; 3) уголь; 4) уран; 5) железная руда; 6) никель; 7) лесные ресурсы; 8) земельные ресурсы; 9) ресурсы пресной воды; 10) ресурсы гидроэнергии.

Задание 3. Определите, какая из приведённых ниже цифр правильно характеризует долю сельскохозяйственных земель в структуре земельного фонда России: 13 %, 20 %, 25 %.

Задание 4. Определите, какая из приведённых ниже цифр правильно характеризует долю России в численности населения земного шара: 2 %, 5 %, 10 %.

Задание 5. Занимая шестое место среди крупных экономик мира, Россия пока отстаёт от ведущих стран по ряду важных экономических показателей. Укажите их:

- 1) _____ ; 3) _____ ;
2) _____ ; 4) _____ .

Задание 6. Заполните следующую таблицу, вписав в неё отрасли промышленного производства, по которым Россия занимает одно из первых пяти мест в мире:

1-е место	2-е место	3-е место	4-е место	5-е место

Задание 7. Назовите отрасли сельского хозяйства, по развитию которых Россия входит в первую десятку стран мира:

- 1) _____ ; 4) _____ ;
2) _____ ; 5) _____ ;
3) _____ ; 6) _____ .

Задание 8. Охарактеризуйте место России в мире по показателям длины железных дорог и протяжённости трубопроводов:

Задание 9. Объясните, почему торговый баланс России называют активным, а торговый баланс США — пассивным:

Тема 12. ГЛОБАЛЬНЫЕ ПРОБЛЕМЫ ЧЕЛОВЕЧЕСТВА

Задание 1. Дополните следующие предложения:

1. Глобальные проблемы в своём взаимодействии образуют своего рода треугольник: _____

2. Экологическая проблема в наши дни стала одной из самых главных проблем

3. Демографическая проблема имеет два следующих аспекта: _____

4. В глобальных масштабах энергетическая и сырьевая проблемы впервые проявились _____

5. Главный путь решения продовольственной проблемы человечества заключается _____

6. Понятие «морское хозяйство» включает в себя _____

7. В наши дни центр тяжести глобальных проблем перемещается в _____

8. В существующих глобальных прогнозах прослеживаются два принципиально разных подхода: _____

Задание 2. Используя количественные показатели (1,5; 2; 12,3; 90; 100; 135; 1200; 2700), заполните пропуски в приведённых ниже предложениях:

1. В начале 60-х гг. XX в. население мира увеличивалось в среднем на ____ % в год, а в конце XX в. стало увеличиваться на ____ % в год.
2. Среднемировой показатель потребления продовольствия из расчёта на душу населения составляет _____ ккал в сутки.
3. Орошаемое земледелие применяется в _____ странах.
4. Интенсивный путь в наши дни обеспечивает ____ % всего прироста продукции земледелия.
5. В морском хозяйстве мира занято по меньшей мере _____ млн чел.
6. В развивающихся странах более _____ млн чел. живут в условиях крайнего обнищания.
7. По мнению некоторых демографов, население земного шара стабилизируется на уровне _____ млрд чел.

Задание 3. Заполните таблицу «Сущность некоторых глобальных проблем человечества» по следующей форме:

Проблемы	Сущность проблем
1. Экологическая	
2. Демографическая	
3. Энергетическая и сырьевая	
4. Продовольственная	

Задание 4. Заполните схему «Глобальные проблемы человечества» (рис. 30). Покажите стрелками взаимосвязи между отдельными проблемами.



Рис. 30

СОДЕРЖАНИЕ

Тема 1. Политическая карта мира	3
Тема 2. Природа и человек в современном мире	7
Тема 3. География населения мира	12
Тема 4. Научно-техническая революция и мировое хозяйство	17
Тема 5. География отраслей мирового хозяйства	21
Тема 6. Зарубежная Европа	30
Тема 7. Зарубежная Азия. Австралия	36
Тема 8. Африка	43
Тема 9. Северная Америка	47
Тема 10. Латинская Америка	52
Тема 11. Россия в современном мире	57
Тема 12. Глобальные проблемы человечества	60



Учебное издание

**Максаковский Владимир Павлович
Зяц Дмитрий Викторович**

ГЕОГРАФИЯ. РАБОЧАЯ ТЕТРАДЬ

10—11 классы

Учебное пособие
для общеобразовательных организаций
Базовый уровень

ЦЕНТР ГУМАНИТАРНОГО ОБРАЗОВАНИЯ

Руководитель Центра *К. М. Юшков*

Редакция географии, экономики и экологии

Зав. редакцией *Е. В. Пилюгина*

Ответственный за выпуск *К. С. Зинцов*

Редактор *Т. А. Смирнова*

Редактор карт *Н. С. Рогозова*

Художественный редактор *Е. А. Михайлова*

Оператор *Т. И. Данилова*

Компьютерная вёрстка и техническое редактирование *М. А. Носовой*

Корректор *Е. А. Воеводина*

Налоговая льгота — Общероссийский классификатор продукции ОК 005-93—953000.

Изд. лиц. Серия ИД № 05824 от 12.09.01. Подписано в печать 12.07.18.

Формат 84×108^{1/16}. Бумага типографская. Гарнитура SchoolBookCSanPin.

Печать офсетная. Уч.-изд. л. 4,37. Тираж 7200 экз. Заказ № 52607СМ.

Акционерное общество «Издательство «Просвещение».

127521, Москва, 3-й проезд Марьиной рощи, 41.

Отпечатано по заказу АО «ПолиграфТрейд»

в филиале «Смоленский полиграфический комбинат»

ОАО «Издательство «Высшая школа».

Россия, 214020, г. Смоленск, ул. Смольянинова, 1.

Тел.: +7(4812) 31-11-96. Факс: +7(4812) 31-31-70.

E-mail: spk@smolpk.ru <http://www.smolpk.ru>