



ВСЕРОССИЙСКАЯ ОЛИМПИАДА ШКОЛЬНИКОВ
ПО ОБЗР
ШКОЛЬНЫЙ ЭТАП. 10–11 КЛАССЫ

Уважаемый участник!

При выполнении заданий Вам предстоит выполнить определённую работу, которую лучше организовать следующим образом:

- внимательно прочитайте задание;
- если Вы отвечаете на теоретический вопрос или решаете ситуационную задачу, обдумайте и сформулируйте конкретный ответ (ответ должен быть кратким, и его содержание следует вписать в отведённое поле; пишите чётко и разборчиво);
- при ответе на тестовые задания определите верный ответ и обведите кружком букву (буквы), соответствующую(-ие) выбранному Вами ответу.

За каждый правильный ответ Вы можете получить определённое членами жюри количество баллов, не выше указанной максимальной оценки.

Сумма набранных баллов за все решённые вопросы в двух форматах – итог Вашей работы. Максимальное количество баллов – 100.

Задания считаются выполненными, если Вы вовремя сдали их членам жюри.

Желаем успеха!

Тестовые задания

Определите один правильный ответ.

За правильный ответ начисляется 2 балла.

1. **В условиях пожара понижение содержания этого газа в воздухе на 3 % ведёт к ухудшению двигательных функций организма.**
 - а) водород
 - б) кислород
 - в) азот
 - г) гелий

2. **Верны ли утверждения?**

А. Фламандский узел используется для связывания верёвок одного диаметра.

Б. Фламандский узел быстро развязывается.

 - а) верно только А
 - б) верно только Б
 - в) верны оба утверждения
 - г) оба утверждения неверны

3. **Какому режиму деятельности РСЧС соответствует «Проведение при необходимости эвакуационных мероприятий»?**
 - а) повышенной готовности
 - б) постоянной готовности
 - в) усиленной готовности
 - г) повседневной деятельности

4. **Определите мероприятие, входящее в полномочия органов исполнительной власти субъектов Российской Федерации.**
 - а) подготовка населения в области гражданской обороны
 - б) проведение мероприятий по гражданской обороне
 - в) проведение эвакуации населения, материальных и культурных ценностей в безопасные районы
 - г) мероприятия по поддержанию устойчивого функционирования организаций в военное время

5. **При наличии подтверждённой информации о реальной возможности совершения террористического акта устанавливается**
 - а) повышенный уровень опасности
 - б) критический уровень опасности
 - в) высокий уровень опасности
 - г) постоянный уровень опасности

6. **Верны ли приведённые суждения?**
А. Профилактические прививки являются средством специфической профилактики инфекционных заболеваний.
Б. Профилактические прививки создают естественный иммунитет.
а) верно только А
б) верно только Б
в) верны оба суждения
г) оба суждения неверны
7. **Какое жизнеугрожающее осложнение может развиваться у пострадавшего с синдромом длительного сдавления?**
а) закрытый перелом костей конечности
б) вывих костей конечности
в) острая почечная недостаточность
г) анафилактический шок
8. **Что является основной военно-административной единицей Российской Федерации?**
а) территориальный военный округ
б) военный округ ВС РФ
в) номерной оборонительный участок
г) оборонительный округ ВС РФ
9. **Гражданин Российской Федерации может самостоятельно осуществлять в полном объёме свои права и обязанности с**
а) 20 лет
б) 16 лет
в) 14 лет
г) 18 лет
10. **Верны ли утверждения?**
А. В шеренге военнослужащие размещены один возле другого на одной линии.
Б. Интервалы в шеренге может указывать командир.
а) верно только А
б) верно только Б
в) верны оба утверждения
г) оба утверждения неверны

Определите все правильные ответы.
За каждый правильный ответ начисляется 2 балла.

11. **В каких статьях Конституции Российской Федерации закреплены права и обязанности граждан в области охраны окружающей среды?**
а) ст. 42
б) ст. 43
в) ст. 57
г) ст. 58
д) ст. 44
12. **Курвиметр предназначен для**
а) измерения длин отрезков кривых линий на топографических картах
б) определения направления по азимуту на топографических картах
в) вычерчивания тушью и карандашом кривых линий на топографических картах
г) вычерчивания тушью и карандашом окружностей на топографических картах
д) измерения длин отрезков извилистых линий на топографических картах
13. **Определите целесообразные действия при нахождении на открытом пространстве в бурю.**
а) в связи с наличием прочной каркасной конструкции занять место на мосту, закрепившись у опоры
б) укрыться в кювете дороги
в) лечь в укрытие и плотно прижаться к земле
г) крепко привязаться к трубопроводу, выступающему из земли
д) укрыться в разрушенном ранее здании в связи с тем, что неповреждёнными остались наиболее прочные конструкции
14. **Выделите основные принципы защиты населения и территорий от чрезвычайных ситуаций.**
а) организации максимально возможного количества мероприятий по защите населения и территорий от чрезвычайных ситуаций
б) необходимой достаточности и максимально возможного использования имеющихся сил и средств
в) учёта особенностей территорий и степени реальной опасности возникновения чрезвычайных ситуаций
г) опоры на специально подготовленные аварийно-спасательные формирования МЧС России
д) ситуационного планирования мероприятий, направленных на защиту от чрезвычайных ситуаций

15. **Что из перечисленного относится к внешним экстремистским угрозам?**
- а) поддержка иностранными государственными органами экстремистских проявлений в Российской Федерации
 - б) ненадлежащий контроль за распространением идей радикализма в информационном пространстве Российской Федерации
 - в) деятельность международных экстремистских организаций
 - г) экстремистская деятельность радикальных общественных объединений
 - д) экстремистская деятельность отдельных лиц
16. **Какими путями реализуется фекально-оральный (желудочно-кишечный) механизм передачи инфекции?**
- а) контактным
 - б) контактно-бытовым
 - в) водным, пищевым
 - г) пылевым
 - д) трансмиссивным
17. **Какие признаки, наблюдаемые у пострадавшего, характерны для острого нарушения мозгового кровообращения (инсульта)?**
- а) побледнение кожи лица
 - б) асимметрия лица
 - в) не может вспомнить своё имя (амнезия)
 - г) не может произнести своё имя (афазия)
 - д) боль за грудиной
18. **Какие из перечисленных родов войск входят в состав Сухопутных войск Российской Федерации?**
- а) войска ПВО-ПРО
 - б) войска радиационной, химической и биологической защиты
 - в) войска связи
 - г) десантно-штурмовые бригады
 - д) мотопехотные войска

19. **От призыва на военную службу освобождаются граждане**
- а) имеющие предусмотренную государственной системой научной аттестации учёную степень
 - б) занятые постоянным уходом за отцом, матерью, женой, родным братом, родной сестрой
 - в) являющиеся опекуном несовершеннолетней родной сестры
 - г) прошедшие военную службу в другом государстве в случаях, предусмотренных международными договорами Российской Федерации
 - д) признанные ограниченно годными к военной службе по состоянию здоровья
20. **Видами маневра подразделений в бою являются**
- а) охват
 - б) оборона
 - в) смена позиций
 - г) наступление
 - д) удар войсками

Теоретические задания

Задание 1






Перечислите рекомендации безопасного поведения (не менее 10 пунктов) при общении с незнакомыми людьми.




This image shows a blank sheet of white paper with horizontal ruling lines. The lines are evenly spaced and run across the width of the page. There are no margins, text, or other markings on the paper.

Максимальная оценка за правильно выполненное задание – **10 баллов.**

Задание 2

Впишите в таблицу смысловое значение знаков безопасности.

Запрещающий знак	Смысловое значение запрещающего знака
	
	
	
	
	

Максимальная оценка за правильно выполненное задание – **10 баллов**.

Задание 3

Укажите знаком «+» в крайнем левом или крайнем правом столбце, какое стрелковое оружие, изображенно на картинках, принадлежало РККА, а какое вермахту?

РККА	Стрелковое оружие	Вермахт
		
		
		
		
		
		

Максимальная оценка за правильно выполненное задание – **12 баллов**.

Задание 4

Установите соответствие между транспортным положением и видом травмы и (или) состоянием пострадавшего: для каждой позиции первого столбца подберите соответствующую позицию из второго столбца.

- | | |
|--|---|
| А) Солнечный удар, судороги | 1) Положение на спине с валиками под коленями и головой |
| Б) Травма живота, подозрение на внутреннее кровотечение | 2) Устойчивое боковое положение |
| В) Отсутствие сознания | 3) Положение на спине с приподнятыми на 30–45 см ногами |
| Г) Острая кровопотеря (пульс на запястье не определяется), пострадавший в сознании | 4) Возвышенное положение верхней части туловища |

Результаты внесите в таблицу.

А	Б	В	Г

Максимальная оценка за правильно выполненное задание – 8 баллов.

Максимум за работу 100 баллов.