

ВСЕРОССИЙСКАЯ ОЛИМПИАДА
ШКОЛЬНИКОВ ОБЗР. 2025–2026 уч. г.
ШКОЛЬНЫЙ ЭТАП. 10–11 КЛАССЫ





Максимальный балл за работу – 100.

Тестовые задания

Определите один правильный ответ.

За правильный ответ начисляется 3 балла.

1. Какая разметка обозначает край проезжей части?

- 
- 
- 
- 

2. Верны ли суждения об эксплуатации мусоропровода в жилом здании?

А. Сбрасывание мелких и пылевидных фракций отходов не допускается.
Б. Сбрасывать в мусоропровод крупногабаритные предметы, допускается только, если требуется небольшое усилие при их загрузке в ковш клапана.

- верно только А
- верно только Б
- оба суждения верны
- оба суждения неверны

3. День рождения противогаза отмечают

- 7 февраля
- 18 августа
- 12 июня
- 5 августа

4. Как часто проводится проверка газового оборудования в квартирах?

- один раз в 6 месяцев
- один раз в год
- один раз три года
- один раз в 3 месяца

5. В штатную численность Вооружённых Сил Российской Федерации входит

- 1 150 628 военнослужащих
- 1 320 000 военнослужащих
- 2 039 758 военнослужащих
- 2 209 130 военнослужащих

6. Определите тип гранаты.

- РГО
- РГД-5
- РГ-42
- РГН



7. Определите боевое отравляющее вещество общедовитого действия.

- хлор
- дифосген
- зарин
- хлорциан

8. Обезвреживание (нейтрализация, разбавление) или удаление опасных химических веществ со средств индивидуальной защиты – это

- дезинсекция
- дезинфекция
- дезактивация
- дегазация

9. Для предупреждения какого заболевания выполняется экстренная иммунопрофилактика при ранениях, ожогах, отморожениях, укусах животных?

- бешенство
- сибирская язва
- столбняк
- дифтерия

10. Укажите площадь ожога, если повреждение равно примерно площади трёх ладоней пострадавшего.

- 1 %
- 3%
- 6%
- 9 %

Определите два правильных ответа.

За каждый правильный ответ начисляется 3 балла.

0 баллов выставляется за неправильный ответ, а также если участником отмечены более двух ответов (в том числе правильные).

11. Определите смысловое значение синего сигнального цвета.

- предписание во избежание опасности
- возможная опасность
- указание
- безопасность, безопасные условия
- помощь, спасение

12. Определите гелиогеофизические явления.

- сильное возмущение ионосферы
- падение природных объектов на окружающую природную среду или на защищаемые территории
- сильное возмущение радиационной обстановки в околоземном космическом пространстве
- космическая погода
- падение антропогенных объектов на окружающую природную среду

13. При переходе водного объекта по льду на лыжах, прежде чем двигаться по целине, следует

- отстегнуть крепления лыж
- ослабить крепления лыж
- сместить центр тяжести крепления лыж
- продеть ладонь через петлю, заводя снизу
- снять петли лыжных палок с кистей рук

14. Какие утверждения характеризуют инфекционные заболевания?

- Непосредственной причиной заболевания является переохлаждение или переутомление.
- Заболевание протекает циклично.
- Первым периодом заболевания является период начальных проявлений.
- Непосредственная причина заболевания – наличие специфического возбудителя.
- Заболевание всегда сопровождается выраженными проявлениями.

15. Какие утверждения о правилах наложения бинтовых повязок являются верными?

- Повязку начинают накладывать с более узкого места, постепенно переходя к более широкому.
- Туры бинта накладываются преимущественно против часовой стрелки относительно бинтующего.
- Положение перевязываемой части тела периодически меняют в процессе наложения повязки.
- Каждый последующий тур должен перекрывать предыдущий на половину или две трети при наложении большинства повязок.
- Повязку накладывают, как правило, от центра к периферии.

Максимальный балл за тестовые задания – 60.

Теоретические задания

16. Расположите предложенные фрагменты в верной последовательности, чтобы в итоге получилось определение.

- социальных, правовых и иных мер по
- система политических, экономических, военных,
- защита Российской Федерации, целостности и неприкосновенности её территории
- подготовке к вооружённой защите и вооружённая

17. Запишите термин, определение которого вы составили.

18. Соотнесите наименование химического соединения (вещества), содержащегося в табачном дыме, с последствием воздействия его на организм человека.

Химические соединения (вещества): угарный газ, никотин, бензол, формальдегид, свинец.

Органический растворитель, способный вызвать несколько видов рака, включая лейкемию	
Токсичное вещество, способное накапливаться в костях и вызывать их разрушение	
Способен связываться с гемоглобином крови и препятствовать доставке кислорода к клеткам организма	
В низкой концентрации возбуждает ЦНС, в высокой – угнетает	
Водный раствор применяют для консервации анатомических препаратов, является сильным канцерогеном	

19. Определите, где не могут двигаться водители мопедов.

Выберите **шесть** правильных ответов.

- по тротуару
- по пешеходной дорожке
- по обочине
- по велосипедной дорожке
- по велопешеходной дорожке
- по полосе для велосипедистов
- в пределах пешеходных зон
- по правому краю проезжей части
- по проезжей части велосипедной зоны

Максимальный балл за работу – 100.