









ВСЕРОССИЙСКАЯ ОЛИМПИАДА  
ШКОЛЬНИКОВ ИСТОРИЯ. 2025–2026 уч. г.  
ШКОЛЬНЫЙ ЭТАП. 5 КЛАСС

**ОТВЕТЫ И КРИТЕРИИ ОЦЕНИВАНИЯ**

**Максимальный балл за работу – 55.**

**1 (1-2).** Рассмотрите изображения, имеющие отношение к разным видам деятельности первобытного человека. Соотнесите изображения с функцией, которую они выполняли.

<p>А)</p> 	<p>Б)</p> 
<p>В)</p> 	<p>Г)</p> 
<p>Д)</p> 	<p>Е)</p> 

<p>Ж)</p> 	<p>З)</p> 
---	--

1. рыболовство
2. перемалывание злаков
3. охота
4. изготовление одежды
5. изготовление посуды
6. сверление
7. рисование
8. вспашка земли

**Ответ:**

А	Б	В	Г	Д	Е	Ж	З
2	6	4	1	8	7	5	3

*За каждое верное соотнесение – 1 балл. Максимум за задание – 8 баллов.*

**1.2.** Выберите орудия труда, которые свидетельствуют о ведении людьми производящего хозяйства.

**Ответ:** А, Д, Ж.

*За каждый верный выбор – 1 балл, штраф за каждый неверный выбор – 1 балл. При выборе более 5 изображений – 0 баллов. Максимум за задание – 3 балла.*

**2 (3).** Учёные изучают историю на основании исторических источников. Памятники архитектуры также могут быть предметом изучения. Укажите, какие памятники появились до нашей эры, а какие в нашу эру.

Всероссийская олимпиада школьников. История.  
Школьный этап. 5 класс. Задания и критерии

<p>А) </p>	<p>Б) </p>
<p>В) </p>	<p>Г) </p>
<p>Д) </p>	<p>Е) </p>
<p>Ж) </p>	<p>З) </p>

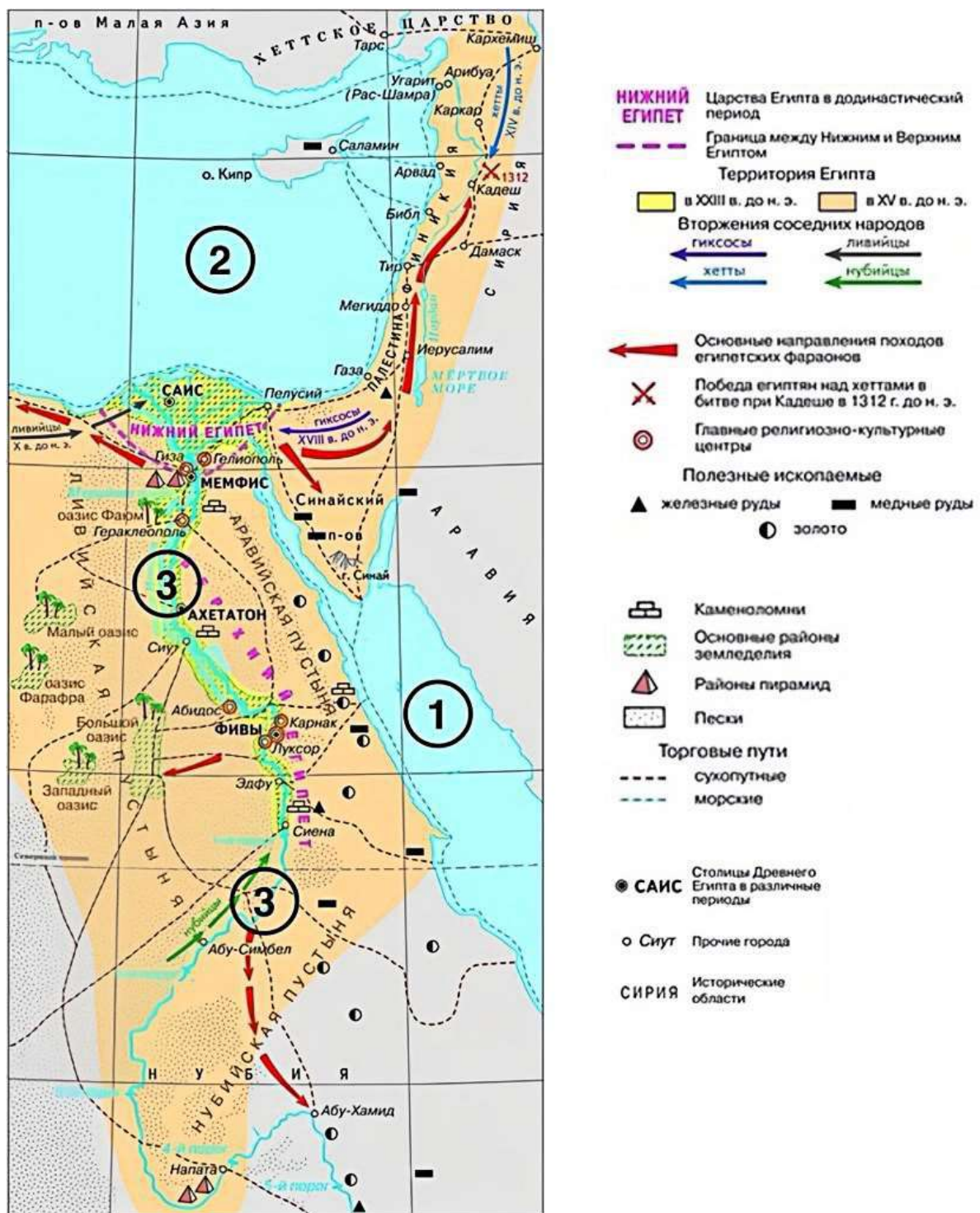
**Ответ:**

До нашей эры	В нашу эру
А, Д, З	Б, В, Г, Е, Ж

*За каждое верное соотнесение – 1 балл. Максимум за задание – 8 баллов.*



3 (4–9). Рассмотрите схему и выполните предложенные задания.



**3.1.** Выберите из приведённого списка имена правителей государства, территория которого выделена на схеме оранжевым цветом.

1. Рамсес II
2. Кир Великий
3. Осирис
4. Юлий Цезарь
5. Тутанхамон
6. Конфуций

**Ответ: 1, 5.**

*За каждый верный выбор – 1 балл. При выборе более 4 правителей – 0 баллов. Максимум за задание – 2 балла.*

**3.2.** Сопоставьте цифры, обозначающие на схеме географические объекты, с их названиями.

- А. Красное море
- Б. Средиземное море
- В. река Нил
- Г. Белое море
- Д. Чёрное море
- Е. река Тигр
- Ж. река Евфрат

**Ответ:**

Номер объекта на схеме	1	2	3
Номер географического объекта в списке	А	Б	В

*За каждое верное соотнесение – 1 балл. Максимум за задание – 3 балла.*

**3.3.** Выберите верные суждения.

1. Правители государства, территория которого на схеме обозначена оранжевым цветом, известны как фараоны.
2. В исторический период, отражённый на схеме, в Египте не было собственной добычи золота.
3. Согласно схеме, в процессе торговли египтяне прибегали к мореплаванию.
4. На схеме обозначен город, в котором появился на свет родоначальник буддизма.
5. Земледелие было сосредоточено исключительно по берегам реки, обозначенной на схеме цифрой 3.
6. На схеме обозначена столица единого египетского государства.

7. В исторический период, которому соответствует схема, все города были основаны на берегах рек.
8. Часть территорий, обозначенных на схеме, входит в состав современной России.
9. На схеме обозначен город, который являлся столицей Ассирийской державы.
10. На схеме обозначены территории Междуречья.
11. На схеме обозначен город, рядом с которым расположено одно из легендарных Семи чудес света.
12. На схеме обозначено государство, в котором был создан первый алфавит.

**Ответ: 1, 3, 6, 11, 12.**

***За каждый верный выбор – 2 балла, штраф за каждый неверный выбор – 2 балла. При выборе более 8 суждений – 0 баллов. Максимум за задание – 10 баллов.***

**3.4.** Выберите изображения, связанные с историей и культурой государства, территории которого изображены на схеме оранжевым цветом.

<p>1)</p> 	<p>2)</p> 
<p>3)</p> 	<p>4)</p> 

5)



6)



**Ответ: 3, 4, 5.**

*За каждый верный выбор – 1 балл, за каждый неверный выбор – штраф 1 балл, но не менее 0 баллов за задание. Максимум за задание – 3 балла.*

**3.5.** Выберите изображение, связанное с правителем, которому принадлежат следующие слова.

*«Я – Навуходоносор, царь \_\_\_\_\_, благочестивый государь, правящий по воле и благоволению Мардука, высший правитель Города, любимец Неба, хитроумный и неутомимый... всегда пекущийся о благополучии \_\_\_\_\_, мудрый первородный сын Набополассара...»*

**Ответ: 2.**

*За верный ответ – 1 балл.*




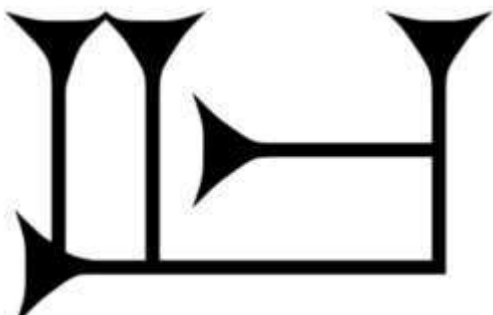


**3.6.** Выберите название государства, правителем которого был упомянутый царь Навуходоносор.

1. Нововавилонское царство
2. Ассирийское царство
3. Среднее царство
4. Критское царство
5. Хеттское царство

**Ответ: 1.**

*За верный ответ – 1 балл.*

**3.7.** Выберите изображение знака, относящегося к виду письменности, которая использовалась в государстве, обозначенном на схеме оранжевым цветом.

1) 	2) 
3) 	4) 
5) 	6) 

**Ответ: 6.**

*За верный ответ – 1 балл.*



**4 (11).** Выберите из списка название памятника культуры, о котором идёт речь в тексте.

По легенде, строительство этого памятника архитектуры началось в III в. до н. э., а отдельные части этого объекта были построены в XVII в. н. э. В строительстве памятника участвовало около 1 млн человек, десятки тысяч из которых погибли при строительстве. В настоящее время данный памятник является крупнейшим из созданных руками человека. В 2023 г. памятник пострадал от рук рабочих, решивших снести часть объекта, чтобы сократить путь до работы и избавиться от необходимости обходить постройку.

1. Колизей
2. пирамида Хеопса
3. Зимний дворец
4. Большой сфинкс
5. Великая Китайская стена
6. Терракотовая армия

**Ответ: 5.**

*За верный ответ – 1 балл.*

**5 (12).** Ознакомьтесь с текстом и выберите верные суждения.

Когда царь подошёл к городу, вавилоняне бросились в бой, но, потерпев поражение, были оттеснены в город. Вавилонянам было уже заранее известно, что Кир теперь не будет бездействовать: они видели ведь, как персидский царь нападал на один народ за другим. Поэтому, запасшись продовольствием на очень много лет, они не обращали никакого внимания на осаду. Между тем Кир оказался в затруднительном положении, так как прошло уже много времени, а дело [осады] нисколько не подвигалось вперёд.

Наконец – другой ли кто подал совет в затруднении или же сам Кир сообразил, как ему поступать, – но сделал он вот что. Он поставил часть своего войска в том месте, где река входит в город, а другую часть – ниже по течению, у её выхода из города. Затем он приказал воинам, как только увидят, что русло стало проходимым вброд, вступать по этому руслу в город. После этого сам царь с частью войск отступил. По прибытии к озеру, расположенному выше Вавилона, персидский царь отвёл реку с помощью канала в озеро, которое, собственно, было болотом, а таким образом старое русло сделалось проходимым. После того как вода в реке спала настолько, что доходила людям приблизительно до колена, персы по старому руслу вошли в Вавилон. Теперь персы внезапно напали на вавилонян. Так-то Вавилон был взят тогда в первый раз.

1. Согласно тексту, осада города продолжалась несколько лет.
2. В тексте упоминается правитель, прозванный Великим.

3. Согласно тексту, в первом сражении вавилоняне одержали победу над персами.
4. В тексте упоминается город, в котором, согласно легенде, жители попытались построить огромную башню до небес.
5. Согласно тексту, вавилоняне не ожидали нападения персов по старому руслу реки.
6. Захват Вавилона произошёл в результате первого военного похода под командованием Кира.
7. Жители Вавилона были заранее готовы к длительной осаде.
8. В тексте упоминается столица Ассирии.
9. Согласно тексту, в войске персов не было всадников.
10. Одержатъ победу персам удалось благодаря смекалке царя Кира.

**Ответ: 2, 4, 5, 7, 10.**

**За каждый верный выбор – 2 балла, штраф за каждый неверный выбор – 2 балла, но не менее 0 баллов за задание. Максимум за задание – 10 баллов.**

**6 (13).** Выберите изображения, связанные с событиями Великой Отечественной войны.

1)



2)



3)



4)



5)



6)



7)



8)



**Ответ: 1, 4, 5, 6.**

*За каждый верный выбор – 1 балл, штраф за каждый неверный выбор – 1 балл. При выборе более 6 изображений – 0 баллов. Максимум за задание – 4 балла.*

**Максимальный балл за работу – 55.**