



ВСЕРОССИЙСКАЯ ОЛИМПИАДА ШКОЛЬНИКОВ 2019-2020 гг.
МУНИЦИПАЛЬНЫЙ ЭТАП
ОСНОВЫ БЕЗОПАСНОСТИ ЖИЗНЕДЕЯТЕЛЬНОСТИ
7-8 КЛАСС

ТЕОРЕТИЧЕСКИЙ ТУР

Впишите свой код/шифр			

Уважаемый участник Олимпиады!

При выполнении задания Вам предстоит выполнить определенную работу, которую лучше организовать следующим образом:

- не спеша, внимательно прочитайте задание;
- определите, какой ответ наиболее верный и полный;
- запишите Ваш ответ;
- продолжайте, таким образом, работу до завершения выполнения заданий;
- после выполнения всех предложенных заданий еще раз удостоверьтесь в правильности выбранных вами ответов;
- если потребуется корректировка выбранного Вами варианта ответа, то неправильный вариант ответа зачеркните, а новый ответ впишите рядом;
- максимальное количество баллов – 100 баллов;
- на выполнение заданий отводится не более 90 минут.

Задание считается выполненным, если Вы вовремя сдаете его членам жюри.

Желаем вам успеха!

Оценочные баллы за теоретический тур: максимальный – 100 баллов;

фактический – 45 баллов 95 = 170

Подписи членов жюри:

Вас



ВСЕРОССИЙСКАЯ ОЛИМПИАДА ШКОЛЬНИКОВ 2019-2020 гг.
МУНИЦИПАЛЬНЫЙ ЭТАП
ОСНОВЫ БЕЗОПАСНОСТИ ЖИЗНЕДЕЯТЕЛЬНОСТИ
7-8 КЛАСС

Задание 1. Для определения содержимого трубопроводов и обеспечения безопасности труда на промышленных предприятиях установлен стандарт сигнальной окраски. С помощью стрелок установите соответствие окраски с транспортируемым веществом.

Оранжевый	$\xrightarrow{1}$	Кислоты
Зелёный	$\xrightarrow{1}$	Вода
Фиолетовый	$\xrightarrow{1}$	Щёлочи
Красный	$\xrightarrow{1}$	Пар
Синий	$\xrightarrow{1}$	Воздух

Оценочные баллы: максимальный – 5 баллов; фактический – 5 баллов


Подписи членов жюри: В.И.И.



ВСЕРОССИЙСКАЯ ОЛИМПИАДА ШКОЛЬНИКОВ 2019-2020 гг.
МУНИЦИПАЛЬНЫЙ ЭТАП
ОСНОВЫ БЕЗОПАСНОСТИ ЖИЗНЕДЕЯТЕЛЬНОСТИ
7-8 КЛАСС
Задание 2.

А) Перед вами названия условных топографических знаков, нарисуйте, как они должны выглядеть на карте.

1. Вырубленный лес



2

2. Пески ровные




2

3. Луга



2

4. Бурелом



2

5. Фруктовый сад



2


Б) Перед вами изображения условных знаков топографических карт, напишите, что они означают.

6.



Тодник 2

7.




Мост 2

8.



Кустарники 2

9.



Торельный лес 2

10.



Овраг 0

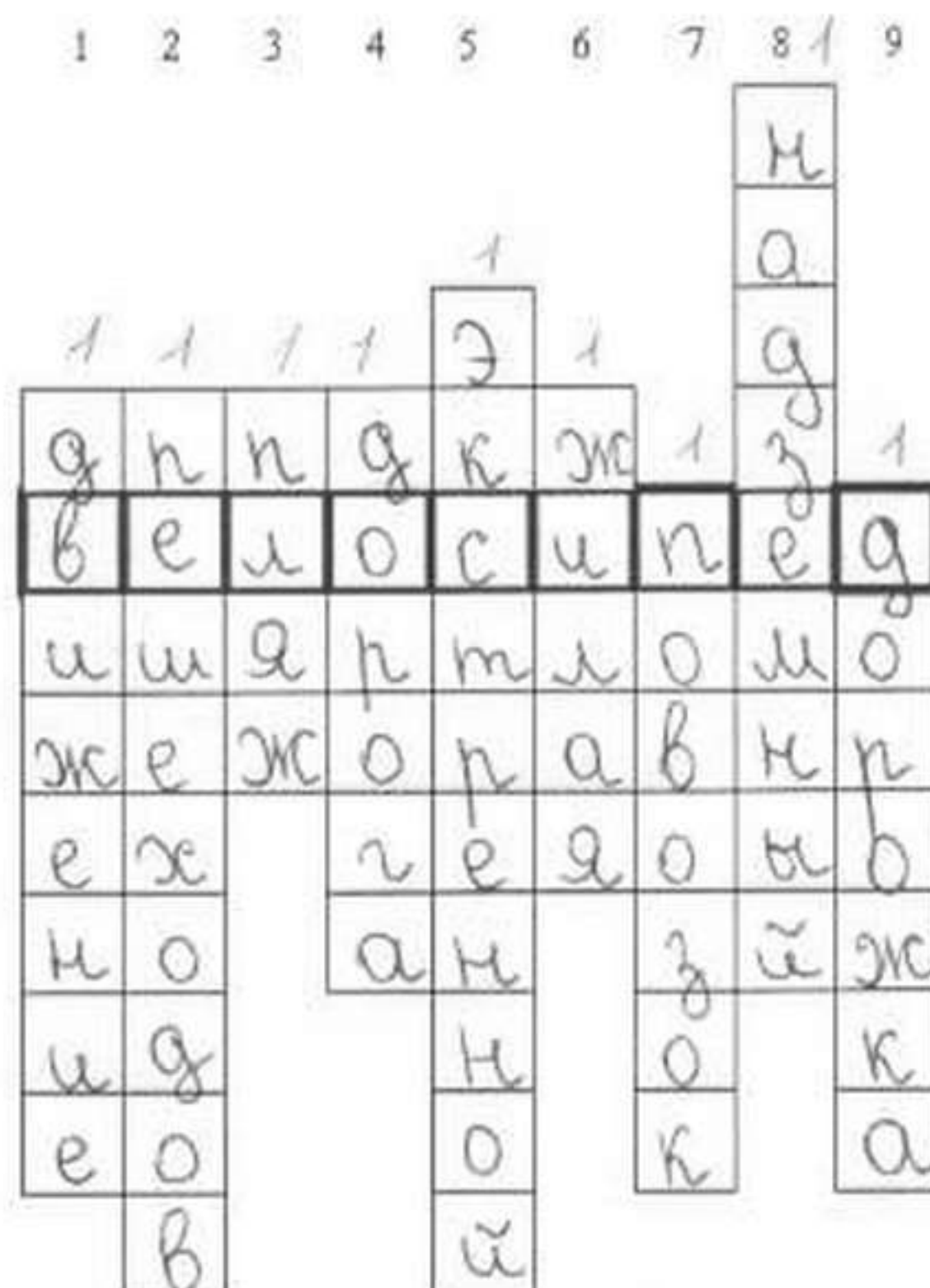
Оценочные баллы: максимальный – 20 баллов; фактический – 18 баллов

Подписи членов жюри:



ВСЕРОССИЙСКАЯ ОЛИМПИАДА ШКОЛЬНИКОВ 2019-2020 гг.
МУНИЦИПАЛЬНЫЙ ЭТАП
ОСНОВЫ БЕЗОПАСНОСТИ ЖИЗНЕДЕЯТЕЛЬНОСТИ
7-8 КЛАСС

Задание 3. Перед вами дорожные знаки и их неполные названия.
Вставьте пропущенные слова в кроссворд по вертикали и вы узнаете
название колёсного транспортного средства, приводимого в движение
мускульной силой человека.



-  1. Движение на велосипедах запрещено
-  2. Движение пешеходов запрещено
-  3. Бассейн или пляж
-  4. Дорога для велосипедистов
-  5. Телефон экстренной связи
-  6. Жилая зона
-  7. Движение гужевых возов запрещено
-  8. Выделенный пешеходный переход
-  9. Пешеходная дорожка

10. Получившееся слово: велосипед

Оценочные баллы: максимальный – 20 баллов; фактический – 20 баллов

Подписи членов жюри: Алексей



ВСЕРОССИЙСКАЯ ОЛИМПИАДА ШКОЛЬНИКОВ 2019-2020 гг.
МУНИЦИПАЛЬНЫЙ ЭТАП
ОСНОВЫ БЕЗОПАСНОСТИ ЖИЗНЕДЕЯТЕЛЬНОСТИ
7-8 КЛАСС

Задание 4. Заполните до конца схему классификации веществ и материалов по группам возгораемости



Оценочные баллы: максимальный – 10 баллов; фактический – 10 баллов

Подписи членов жюри: В.И.И.



ВСЕРОССИЙСКАЯ ОЛИМПИАДА ШКОЛЬНИКОВ 2019-2020 гг.
МУНИЦИПАЛЬНЫЙ ЭТАП
ОСНОВЫ БЕЗОПАСНОСТИ ЖИЗНЕДЕЯТЕЛЬНОСТИ
7-8 КЛАСС

Задание 5. В этом задании вам представлено несколько утверждений. Если вы согласны с утверждением, то напишите – «Да», если не согласны – «Нет» и укажи правильный ответ.

№	Утверждение	Ответ
Пример	Курение сокращает продолжительность жизни курильщика в среднем на 5 лет	Нет, жизнь сокращается в среднем на 8 лет
1	Степень влияния наследственности на здоровье может составлять до 20%	Да 25
2	По энергетической ценности суточного рациона завтрак должен составлять – 35%, обед – 45%, ужин и последний приём пищи – 20%.	Нет. Суточный рацион: завтрак – 25%, обед 45% и ужин и последний приём пищи – 30% 25
3	Вредная привычка – закреплённый способ поведения и агрессивный по отношению к самому человеку или окружающим людям.	Да. 45
4	Здоровый образ жизни – это правильное чередование периодов работы и отдыха, их продолжительность, рациональное распределение времени в течение одного дня.	Да. 05
5	Духовное здоровье – это способность человека адаптироваться в природной, техногенной и социальной средах обитания	Нет. Духовное здоровье – душевное спокойствие человека. 25

Оценочные баллы: максимальный – 20 баллов; фактический – 10 баллов

Подписи членов жюри: В.И.И.



ВСЕРОССИЙСКАЯ ОЛИМПИАДА ШКОЛЬНИКОВ 2019-2020 гг.
МУНИЦИПАЛЬНЫЙ ЭТАП
ОСНОВЫ БЕЗОПАСНОСТИ ЖИЗНЕДЕЯТЕЛЬНОСТИ
7-8 КЛАСС

Задание 6. В вопросах с 1 по 15 включительно, выберите только один правильный ответ. В вопросах с 16 по 20 необходимо выбрать несколько правильных ответов. В бланке заданий обведите кружком букву выбранного варианта ответа, если в дальнейшем потребуются корректировка выбранного варианта ответа, то неправильный вариант ответа зачеркивается, а новый выбранный ответ обводится кружком.

№	Тестовые задания	Кол-во набранных баллов
Определите один правильный ответ		
1	Безопасная толщина льда для переправы одного человека должна составлять не менее: а) 5 см; <input checked="" type="radio"/> б) 7 см; в) 9 см; г) 12 см; д) 15 см.	15
2	Назовите опасное явление метеорологического происхождения, средняя скорость перемещения воздушных масс которого составляет от 29 до 32 м/с. а) Бриз; б) Крепкий ветер; в) Шторм; <input checked="" type="radio"/> г) Жестокая буря; д) Ураган.	15
3	При обнаружении пожара оперативному дежурному необходимо сообщить: а) Название объекта; б) Адрес расположения объекта; в) Место возникновения пожара; г) Место обнаружения признаков пожара; <input checked="" type="radio"/> д) Всю информацию перечисленную выше.	15
4	Для поездки на заднем сиденье автомобиля ребёнку с 7 до 12 лет: а) Необходимо использовать только автокресло; б) Необходимо использовать только ремень безопасности; <input checked="" type="radio"/> в) Необходимо использовать автокресло или ремень безопасности; г) Необходимо находиться только в присутствии рядом совершеннолетнего человека; д) Все утверждения ложны.	15




ВСЕРОССИЙСКАЯ ОЛИМПИАДА ШКОЛЬНИКОВ 2019-2020 гг.
МУНИЦИПАЛЬНЫЙ ЭТАП
ОСНОВЫ БЕЗОПАСНОСТИ ЖИЗНЕДЕЯТЕЛЬНОСТИ
7-8 КЛАСС

№	Тестовые задания	Кол-во набранных баллов
5	Какой классификации твёрдых отходов загрязняющих сушу не существует? <input checked="" type="radio"/> а) Полимерные; <input type="radio"/> б) Металлические; <input type="radio"/> в) Неметаллические; <input type="radio"/> г) Смешанные.	15
6	Уровень предельно допустимого радиационного фона в России не должен превышать: <input type="radio"/> а) 10 мкР/ч; <input type="radio"/> б) 30 мкР/ч; <input checked="" type="radio"/> в) 50 мкР/ч; <input type="radio"/> г) 100 мкР/ч; <input type="radio"/> д) 200 мкР/ч.	15
7	Самой распространённой причиной возникновения пожара в России является: <input checked="" type="radio"/> а) Неосторожное обращение с огнём; <input type="radio"/> б) Поджог; <input type="radio"/> в) Самовоспламенение горючих материалов; <input type="radio"/> г) Использование самодельных обогревателей; <input type="radio"/> д) Короткое замыкание в электросетях.	15
8	Отсутствие какого витамина в рационе питания, вызывает цингу: <input type="radio"/> а) А <input checked="" type="radio"/> б) В <input type="radio"/> в) С <input type="radio"/> г) D <input type="radio"/> д) E	05
9	Какая задача является главной при подготовке и проведении туристического похода? <input type="radio"/> а) Достижение целей похода; <input type="radio"/> б) Не оставлять мусор на привалах; <input type="radio"/> в) Пройти маршрут до конца; <input checked="" type="radio"/> г) Обеспечение безопасности; <input type="radio"/> д) Тщательный подбор экипировки и продуктов питания.	15
10	Свет костра в хорошую погоду ночью видно на расстоянии до: <input type="radio"/> а) 2 км; <input checked="" type="radio"/> б) 4 км; <input type="radio"/> в) 8 км; <input type="radio"/> г) 12 км; <input type="radio"/> д) 16 км.	05



ВСЕРОССИЙСКАЯ ОЛИМПИАДА ШКОЛЬНИКОВ 2019-2020 гг.
МУНИЦИПАЛЬНЫЙ ЭТАП
ОСНОВЫ БЕЗОПАСНОСТИ ЖИЗНЕДЕЯТЕЛЬНОСТИ
7-8 КЛАСС

№	Тестовые задания	Кол-во набранных баллов
11	<p>Какой параметр извержения вулкана с высокой точностью спрогнозировать нельзя?</p> <p>а) Время начала извержения; б) Объем выброшенной вулканической породы; в) Направление течения вулканической лавы; г) Разрушительные последствия для расположенных рядом населённых пунктов; д) Температуру вулканической лавы.</p>	05
12	<p>В каком случае велосипедистам разрешено передвигаться по проезжей части по двое в одном ряду?</p> <p>а) В населённых пунктах, не относящихся к городам; б) В составе организованной группы более 5 человек; в) В составе организованной группы более 10 человек; г) На любой дороге за исключением магистралей; д) Ни в каком, это запрещено.</p>	05
13	<p>Международная эмблема гражданской обороны:</p> <p>а) Белая восьмиконечная звезда на оранжевом фоне; б) Зелёный треугольник на оранжевой восьмиконечной звезде; в) Красный круг; г) Оранжевый круг на синем фоне; д) Голубой треугольник на оранжевом фоне.</p>	05
14	<p>Как поступить, если при зажигании плиты газ не загорелся, а спичка погасла:</p> <p>а) Вызвать газовую службу; б) Попробовать зажечь газ второй спичкой; в) Попробовать зажечь газ электроподжигом; г) Перекрыть газ; д) Все варианты верны.</p>	05
15	<p>Выберите параметры цунами не относящиеся к основным:</p> <p>а) Масса волны; б) Скорость волны; в) Высота волны; г) Длина волны; д) Период волны</p>	05



Оценочные баллы: максимальный – 25 баллов; фактический – 12 баллов

Подписи членов жюри: _____