

МАТЕМАТИКА

Сколько птичек на картинке?



1 2 3 4 5

Сколько рыбок на картинке? Обведи это число.



1 2 3 4 5

Посчитай. Сколько зверушек на картинке? Обведи это число



1 2 3 4 5

Счет от 1 до 5

Сколько тигров на картинке?



Сколько слонов на картинке?



Сколько белок на картинке?



Закрашиваем клетки

Закрась 3 клетки.



Закрась 4 клетки.



Закрась 5 клеток.



Количественное сравнение предметов (больше, меньше)

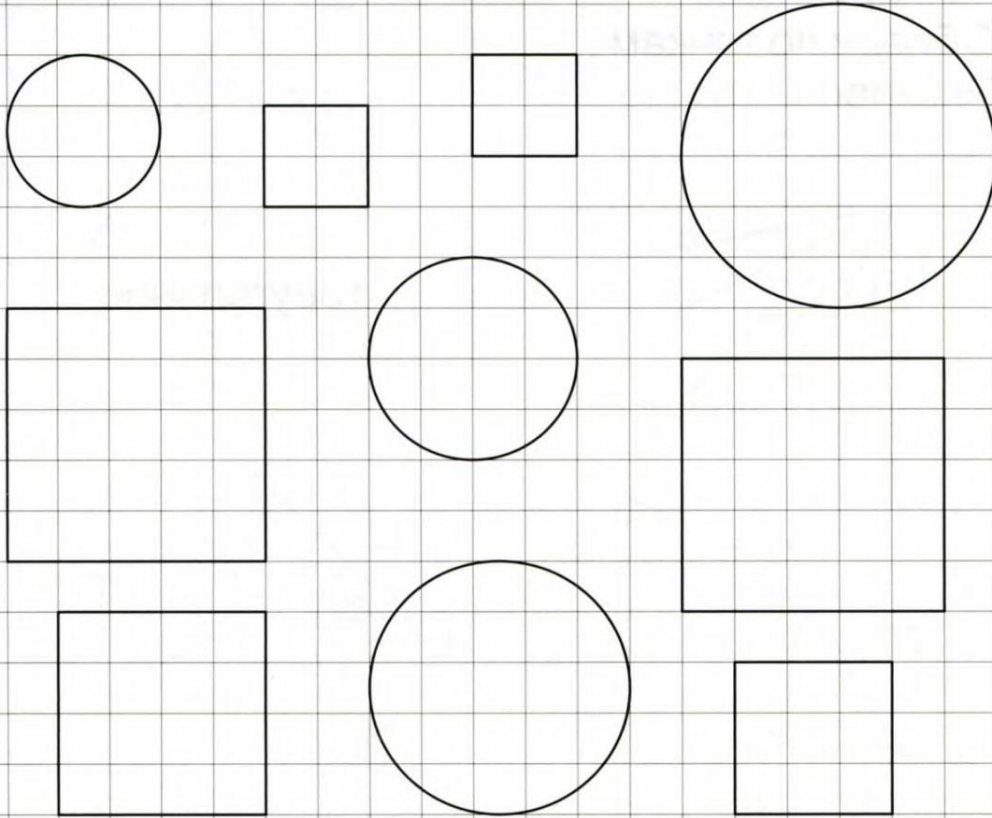
Где больше кружек, справа или слева?



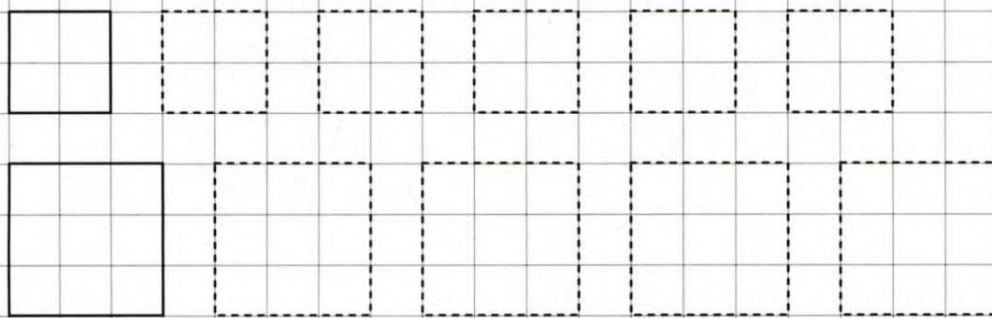
Где меньше тарелок, справа или слева?



Раскрась только квадраты.




Обведи квадраты по точкам. Маленькие раскрась жёлтым, а большие-красным.



Упражнение «Подумай и ответь правильно»

Рассмотрите внимательно следующую картинку и ответьте на следующие вопросы.



Сколько зайчиков на первой картинке?

Сколько зайчиков на второй картинке?

На какой картинке зайчиков больше?

На этих двух картинках зайчиков поровну?

Упражнение «Посмотри и правильно ответь на вопросы»

Рассмотрите внимательно следующую картинку и ответьте на следующие вопросы.



Сколько кубиков нарисовано на первой картинке?

Сколько кубиков нарисовано на второй картинке?

На какой картинке нарисовано кубиков больше справа или слева?