

Тренировочная работа №5 по МАТЕМАТИКЕ

11 класс

22 апреля 2020 года

Вариант МА1910501

Выполнена: ФИО _____ класс _____

Инструкция по выполнению работы

Работа по математике включает в себя 20 заданий.

На выполнение работы отводится 3 часа (180 минут).

Ответы к заданиям записываются в виде числа или последовательности цифр в поле ответа в тексте работы.

При выполнении заданий можно пользоваться черновиком. Записи в черновике не учитываются при оценивании работы. Баллы, полученные Вами за выполненные задания, суммируются. Постарайтесь выполнить как можно больше заданий и набрать наибольшее количество баллов.

Желаем успеха!

Ответом к каждому заданию является конечная десятичная дробь, целое число или последовательность цифр. Запишите ответы к заданиям в поле ответа в тексте работы.

1 Найдите значение выражения $\frac{7}{3} : \left(\frac{5}{9} - \frac{2}{5}\right)$.

Ответ: _____.

2 Найдите значение выражения $\frac{7^{-3}}{(7^2)^{-2}}$.

Ответ: _____.

3 В школе девочки составляют 52 % числа всех учащихся. Сколько в этой школе девочек, если их на 18 человек больше, чем мальчиков?

Ответ: _____.

4 Теорему косинусов можно записать в виде $\cos \gamma = \frac{a^2 + b^2 - c^2}{2ab}$, где a , b и c — стороны треугольника, а γ — угол между сторонами a и b . Пользуясь этой формулой, найдите величину $\cos \gamma$, если $a=7$, $b=10$ и $c=11$.

Ответ: _____.

5 Найдите значение выражения $\frac{\log_5(11^{15})}{3\log_5 11}$.

Ответ: _____.

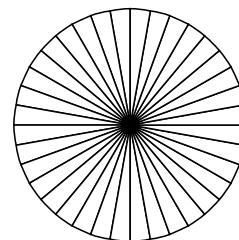
6 В доме, в котором живёт Петя, один подъезд. На каждом этаже по шесть квартир. Петя живёт в квартире № 49. На каком этаже живёт Петя?

Ответ: _____.

7 Найдите корень уравнения $4^{x+4} \cdot 4^{5-2x} = 16$.

Ответ: _____.

8 Колесо имеет 36 спиц. Углы между соседними спицами равны. Найдите величину угла (в градусах), который образуют две соседние спицы.



Ответ: _____.

9 Установите соответствие между величинами и их возможными значениями: к каждому элементу первого столбца подберите соответствующий элемент из второго столбца.

ВЕЛИЧИНЫ

ЗНАЧЕНИЯ

А) объём воды в Онежском озере

1) 0,5 л

Б) объём бутылки воды

2) 60 м^3

В) объём туристического рюкзака для взрослого человека

3) 90 л

Г) объём контейнера для мебели

4) 295 км^3

В таблице под каждой буквой, соответствующей величине, укажите номер её возможного значения.

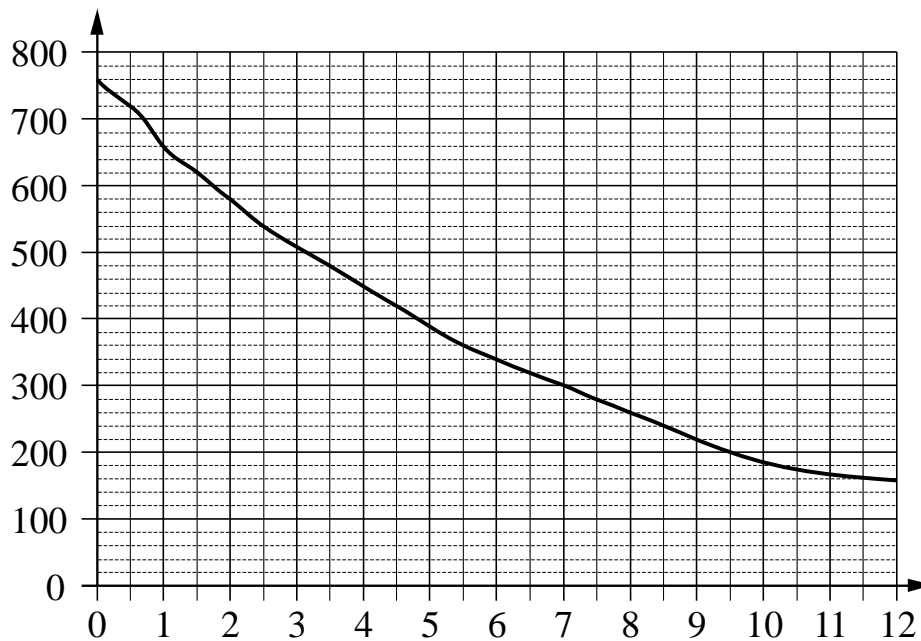
Ответ:

А	Б	В	Г

10 Помещение освещается фонарём с двумя лампами. Вероятность перегорания одной лампы в течение года равна 0,1. Найдите вероятность того, что в течение года обе лампы перегорят.

Ответ: _____.

- 11** На графике изображена зависимость атмосферного давления от высоты над уровнем моря. На горизонтальной оси отмечена высота над уровнем моря в километрах, на вертикальной — давление в миллиметрах ртутного столба.



Определите по графику, на какой высоте атмосферное давление равно 300 миллиметрам ртутного столба. Ответ дайте в километрах.

Ответ: _____.

- 12** В таблице 1 приведены минимальные баллы ЕГЭ по четырём предметам, необходимые для подачи документов на факультеты 1–6.

Таблица 1

Предмет Факультет	Русский язык	Обществознание	История	Иностранный язык (английский)
1	50	60	60	50
2	27	42	32	40
3	40	70	32	60
4	36	42	50	22
5	27	65	32	55
6	27	42	60	22

В таблице 2 приведены данные о баллах ЕГЭ по четырём предметам абитуриента В.

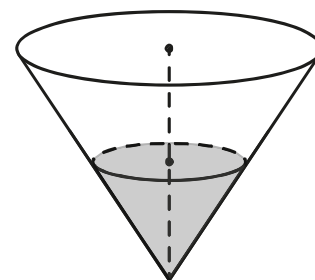
Таблица 2

Предмет	Русский язык	Обществознание	История	Английский язык
Баллы	68	65	58	64

Выберите факультеты, на которые может подавать документы абитуриент В. В ответе укажите номера всех выбранных факультетов без пробелов, запятых и других дополнительных символов.

Ответ: _____.

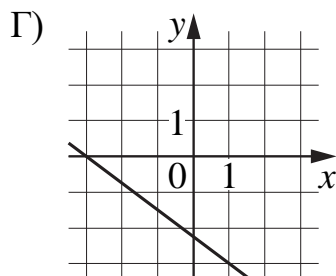
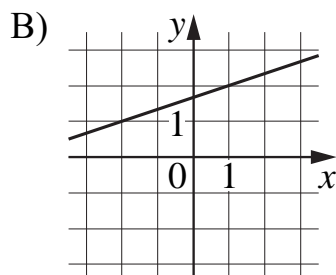
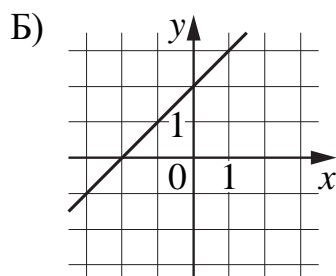
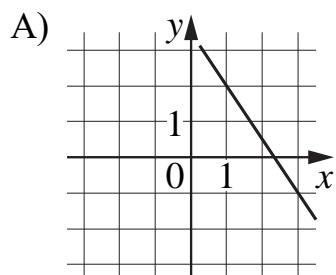
- 13** В сосуде, имеющем форму конуса, уровень жидкости достигает $\frac{1}{2}$ высоты. Объём жидкости равен 30 мл. Сколько миллилитров жидкости нужно долить, чтобы наполнить сосуд доверху?



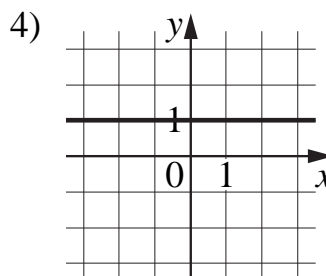
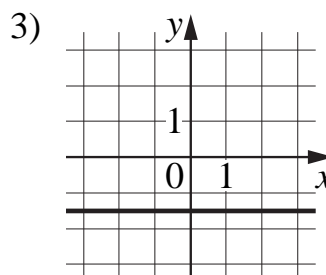
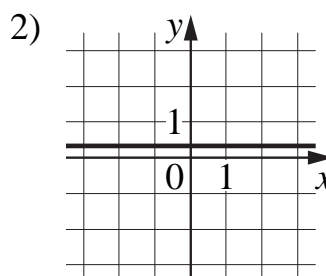
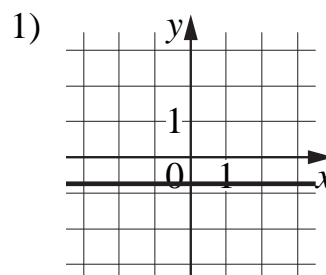
Ответ: _____.

14 Установите соответствие между графиками линейных функций и графиками их производных.

ГРАФИКИ ФУНКЦИЙ



ГРАФИКИ ПРОИЗВОДНЫХ

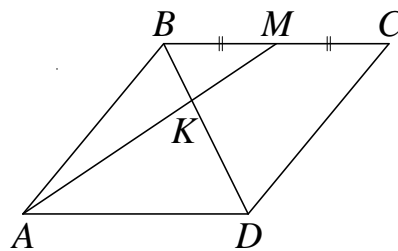


В таблице под каждой буквой укажите соответствующий номер.

Ответ:

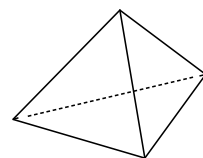
А	Б	В	Г

- 15** В параллелограмме $ABCD$ отмечена точка M — середина стороны BC . Отрезки BD и AM пересекаются в точке K . Найдите длину отрезка BK , если $BD = 12$.



Ответ: _____.

- 16** Стороны основания правильной треугольной пирамиды равны 8, а боковые рёбра равны 5. Найдите площадь боковой поверхности этой пирамиды.



Ответ: _____.

- 17** Каждому из четырёх чисел в левом столбце соответствует отрезок, которому оно принадлежит. Установите соответствие между числами и отрезками из правого столбца.

ЧИСЛА	ОТРЕЗКИ
А) $\log_5 7$	1) $[0; 1]$
Б) $\frac{17}{6}$	2) $[1; 2]$
В) $\sqrt{0,5}$	3) $[2; 3]$
Г) $0,22^{-1}$	4) $[4; 5]$

Впишите в приведённую в ответе таблицу под каждой буквой соответствующий отрезку номер.

Ответ:

А	Б	В	Г

18 Каждый раз, когда Надя приезжает в деревню к бабушке в гости, бабушка заплетает ей косички. Также Надя заплетает себе косички всегда, когда идёт на физкультуру. Выберите утверждения, которые верны при приведённых условиях.

- 1) Каждый раз, когда у Нади заплетены косички, она находится в деревне.
- 2) Если Надя без косичек, значит, она не у бабушки в гостях.
- 3) Если Надя без косичек, значит, сегодня физкультура.
- 4) Когда Надя сдаёт норматив по бегу на физкультуре, она с косичками.

В ответе запишите номера выбранных утверждений без пробелов, запятых и других дополнительных символов.

Ответ: _____.

19 Четырёхзначное число A состоит из цифр 3, 4, 8, 9, а четырёхзначное число B — из цифр 6, 7, 8, 9. Известно, что $B = 2A$. Найдите число A . В ответе укажите какое-нибудь одно такое число, большее 3500.

Ответ: _____.

20 В магазине квас на разлив можно купить в бутылках, причём стоимость кваса в бутылке складывается из стоимости самой бутылки и кваса, налитого в неё. Цена бутылки не зависит от её объёма. Бутылка кваса объёмом 1 литр стоит 42 рубля, объёмом 2 литра — 72 рубля. Сколько рублей будет стоить бутылка кваса объёмом 1,5 литра?

Ответ: _____.

Тренировочная работа №5 по МАТЕМАТИКЕ

11 класс

22 апреля 2020 года

Вариант МА1910502

Выполнена: ФИО _____ класс _____

Инструкция по выполнению работы

Работа по математике включает в себя 20 заданий.

На выполнение работы отводится 3 часа (180 минут).

Ответы к заданиям записываются в виде числа или последовательности цифр в поле ответа в тексте работы.

При выполнении заданий можно пользоваться черновиком. Записи в черновике не учитываются при оценивании работы. Баллы, полученные Вами за выполненные задания, суммируются. Постарайтесь выполнить как можно больше заданий и набрать наибольшее количество баллов.

Желаем успеха!

Ответом к каждому заданию является конечная десятичная дробь, целое число или последовательность цифр. Запишите ответы к заданиям в поле ответа в тексте работы.

1 Найдите значение выражения $\frac{26}{3} : \left(\frac{7}{3} - \frac{5}{4}\right)$.

Ответ: _____.

2 Найдите значение выражения $\frac{3^{-13}}{(3^5)^{-3}}$.

Ответ: _____.

3 В школе девочки составляют 56 % числа всех учащихся. Сколько в этой школе девочек, если их на 90 человек больше, чем мальчиков?

Ответ: _____.

4 Теорему косинусов можно записать в виде $\cos \gamma = \frac{a^2 + b^2 - c^2}{2ab}$, где a , b и c — стороны треугольника, а γ — угол между сторонами a и b . Пользуясь этой формулой, найдите величину $\cos \gamma$, если $a = 5$, $b = 8$ и $c = 9$.

Ответ: _____.

5 Найдите значение выражения $\frac{\log_7(11^8)}{2\log_7 11}$.

Ответ: _____.

6 В доме, в котором живёт Петя, один подъезд. На каждом этаже по шесть квартир. Петя живёт в квартире № 69. На каком этаже живёт Петя?

Ответ: _____.

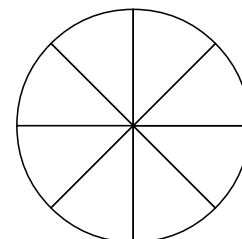
7

Найдите корень уравнения $\left(\frac{1}{4}\right)^{4x+1} \cdot \left(\frac{1}{4}\right)^{5-2x} = \frac{1}{16}$.

Ответ: _____.

8

Колесо имеет 8 спиц. Углы между соседними спицами равны. Найдите величину угла (в градусах), который образуют две соседние спицы.



Ответ: _____.

9

Установите соответствие между величинами и их возможными значениями: к каждому элементу первого столбца подберите соответствующий элемент из второго столбца.

ВЕЛИЧИНЫ

- А) объём воды в озере Байкал
- Б) объём пакета кефира
- В) объём бассейна
- Г) объём ящика для фруктов

ЗНАЧЕНИЯ

- 1) 1 л
- 2) 23 615,39 км³
- 3) 72 л
- 4) 600 м³

В таблице под каждой буквой, соответствующей величине, укажите номер её возможного значения.

Ответ:

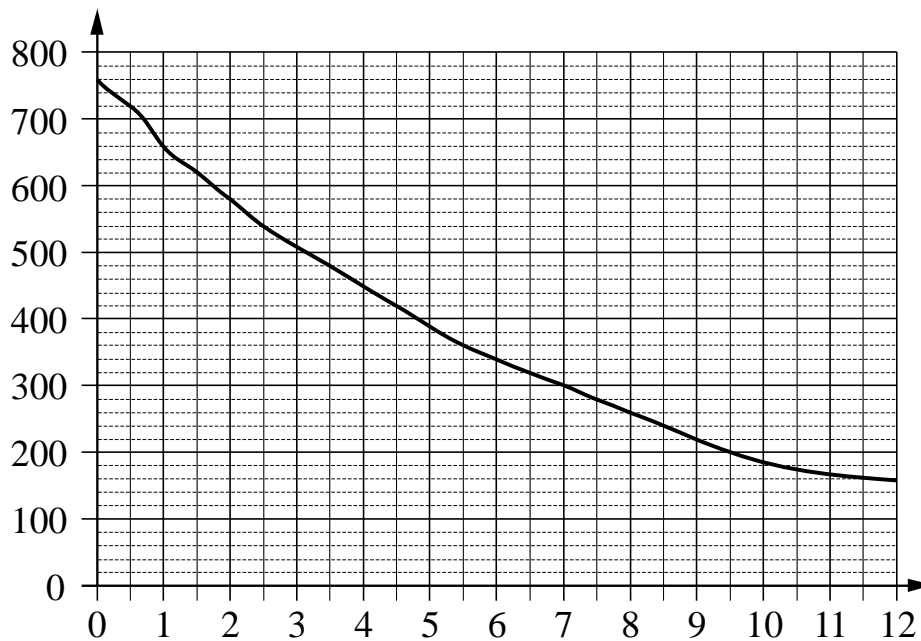
А	Б	В	Г

10

Помещение освещается фонарём с двумя лампами. Вероятность перегорания одной лампы в течение года равна 0,02. Найдите вероятность того, что в течение года обе лампы перегорят.

Ответ: _____.

- 11** На графике изображена зависимость атмосферного давления от высоты над уровнем моря. На горизонтальной оси отмечена высота над уровнем моря в километрах, на вертикальной — давление в миллиметрах ртутного столба.



Определите по графику, на какой высоте атмосферное давление равно 320 миллиметрам ртутного столба. Ответ дайте в километрах.

Ответ: _____.

- 12** В таблице 1 приведены минимальные баллы ЕГЭ по четырём предметам, необходимые для подачи документов на факультеты 1–6.

Таблица 1

Предмет Факультет	Математика (проф. ур.)	Русский язык	Физика	Химия
1	27	40	36	45
2	40	36	36	50
3	27	36	51	51
4	60	36	60	36
5	55	55	55	55
6	45	36	45	45

В таблице 2 приведены данные о баллах ЕГЭ по четырём предметам абитуриента В.

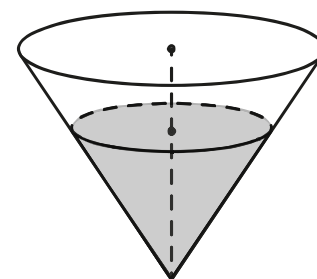
Таблица 2

Предмет	Математика (проф. ур.)	Русский язык	Физика	Химия
Баллы	75	88	48	45

Выберите факультеты, на которые может подавать документы абитуриент В. В ответе укажите номера всех выбранных факультетов без пробелов, запятых и других дополнительных символов.

Ответ: _____.

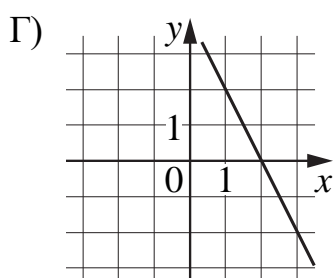
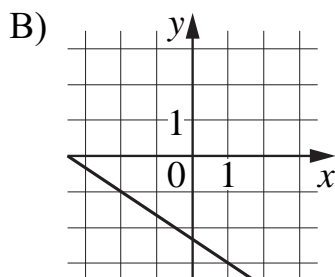
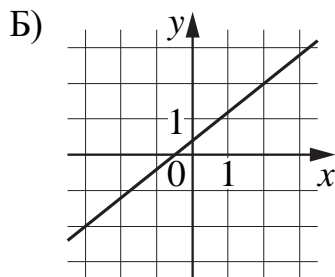
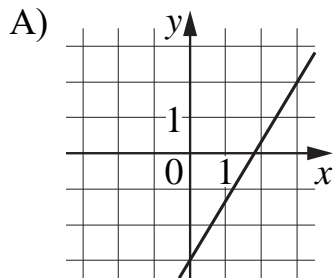
- 13** В сосуде, имеющем форму конуса, уровень жидкости достигает $\frac{2}{3}$ высоты. Объем жидкости равен 160 мл. Сколько миллилитров жидкости нужно долить, чтобы наполнить сосуд доверху?



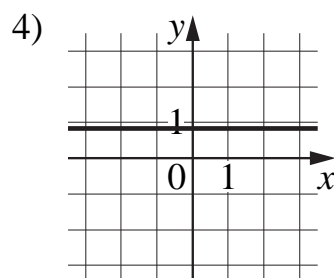
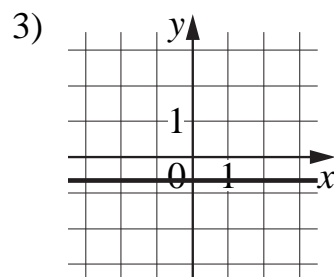
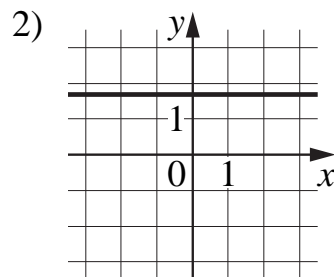
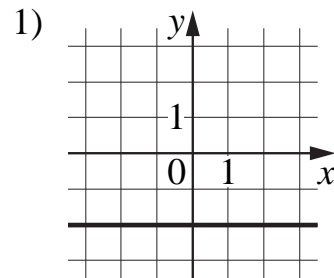
Ответ: _____.

14 Установите соответствие между графиками линейных функций и графиками их производных.

ГРАФИКИ ФУНКЦИЙ



ГРАФИКИ ПРОИЗВОДНЫХ

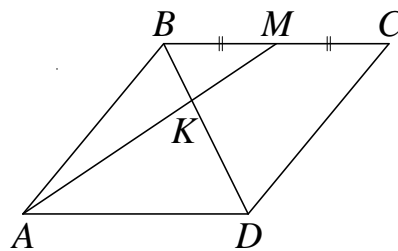


В таблице под каждой буквой укажите соответствующий номер.

Ответ:

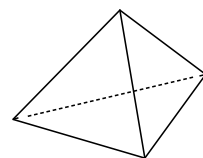
А	Б	В	Г

- 15** В параллелограмме $ABCD$ отмечена точка M — середина стороны BC . Отрезки BD и AM пересекаются в точке K . Найдите длину отрезка BK , если $BD = 18$.



Ответ: _____.

- 16** Стороны основания правильной треугольной пирамиды равны 24, а боковые рёбра равны 20. Найдите площадь боковой поверхности этой пирамиды.



Ответ: _____.

- 17** Каждому из четырёх чисел в левом столбце соответствует отрезок, которому оно принадлежит. Установите соответствие между числами и отрезками из правого столбца.

ЧИСЛА	ОТРЕЗКИ
А) $\log_2 10$	1) $[1; 2]$
Б) $\frac{7}{3}$	2) $[2; 3]$
В) $\sqrt{26}$	3) $[3; 4]$
Г) $0,6^{-1}$	4) $[5; 6]$

Впишите в приведённую в ответе таблицу под каждой буквой соответствующий отрезку номер.

Ответ:

А	Б	В	Г

18 Гитарист Андрей выступает на концертах только со своей гитарой. Также Андрей обязательно берёт с собой гитару в поход. Выберите утверждения, которые верны при приведённых условиях.

- 1) Каждый раз, когда Андрей берёт с собой гитару, он будет выступать на концерте.
- 2) В любое время, когда Андрей не в походе, у него нет с собой гитары.
- 3) Если Андрей без гитары, значит, он не в походе.
- 4) Если в субботу Андрей будет выступать на концерте, посвящённом Дню Победы, то он в субботу будет со своей гитарой.

В ответе запишите номера выбранных утверждений без пробелов, запятых и других дополнительных символов.

Ответ: _____.

19 Четырёхзначное число A состоит из цифр 2, 3, 7, 8, а четырёхзначное число B — из цифр 4, 5, 6, 7. Известно, что $B = 2A$. Найдите число A . В ответе укажите какое-нибудь одно такое число, большее 2500.

Ответ: _____.

20 В магазине квас на разлив можно купить в бутылках, причём стоимость кваса в бутылке складывается из стоимости самой бутылки и кваса, налитого в неё. Цена бутылки не зависит от её объёма. Бутылка кваса объёмом 1 литр стоит 44 рубля, объёмом 2 литра — 80 рублей. Сколько рублей будет стоить бутылка кваса объёмом 0,5 литра?

Ответ: _____.

Тренировочная работа №5 по МАТЕМАТИКЕ

11 класс

22 апреля 2020 года

Вариант МА1910503

Выполнена: ФИО _____ класс _____

Инструкция по выполнению работы

Работа по математике включает в себя 20 заданий.

На выполнение работы отводится 3 часа (180 минут).

Ответы к заданиям записываются в виде числа или последовательности цифр в поле ответа в тексте работы.

При выполнении заданий можно пользоваться черновиком. Записи в черновике не учитываются при оценивании работы. Баллы, полученные Вами за выполненные задания, суммируются. Постарайтесь выполнить как можно больше заданий и набрать наибольшее количество баллов.

Желаем успеха!

Ответом к каждому заданию является конечная десятичная дробь, целое число или последовательность цифр. Запишите ответы к заданиям в поле ответа в тексте работы.

1 Найдите значение выражения $\frac{23}{14} : \left(\frac{5}{4} - \frac{3}{7}\right)$.

Ответ: _____.

2 Найдите значение выражения $\frac{6^{-4}}{(6^3)^{-2}}$.

Ответ: _____.

3 В школе мальчики составляют 54 % числа всех учащихся. Сколько в этой школе мальчиков, если их на 28 человек больше, чем девочек?

Ответ: _____.

4 Теорему косинусов можно записать в виде $\cos \gamma = \frac{a^2 + b^2 - c^2}{2ab}$, где a , b и c — стороны треугольника, а γ — угол между сторонами a и b . Пользуясь этой формулой, найдите величину $\cos \gamma$, если $a = 5$, $b = 6$ и $c = 7$.

Ответ: _____.

5 Найдите значение выражения $\frac{\log_3(5^2)}{2\log_3 5}$.

Ответ: _____.

6 В доме, в котором живёт Петя, один подъезд. На каждом этаже по семь квартир. Петя живёт в квартире № 52. На каком этаже живёт Петя?

Ответ: _____.

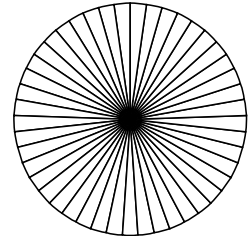
7

Найдите корень уравнения $\left(\frac{1}{3}\right)^{4x-4} \cdot \left(\frac{1}{3}\right)^{2-3x} = 1$.

Ответ: _____.

8

Колесо имеет 45 спиц. Углы между соседними спицами равны. Найдите величину угла (в градусах), который образуют две соседние спицы.



Ответ: _____.

9

Установите соответствие между величинами и их возможными значениями: к каждому элементу первого столбца подберите соответствующий элемент из второго столбца.

ВЕЛИЧИНЫ

ЗНАЧЕНИЯ

А) объём бутылки газировки

1) 2 л

Б) объём багажника автомобиля

2) 200 л

В) объём грузового отсека транспортного самолёта

3) 555 000 км³

Г) объём воды в Чёрном море

4) 400 м³

В таблице под каждой буквой, соответствующей величине, укажите номер её возможного значения.

Ответ:

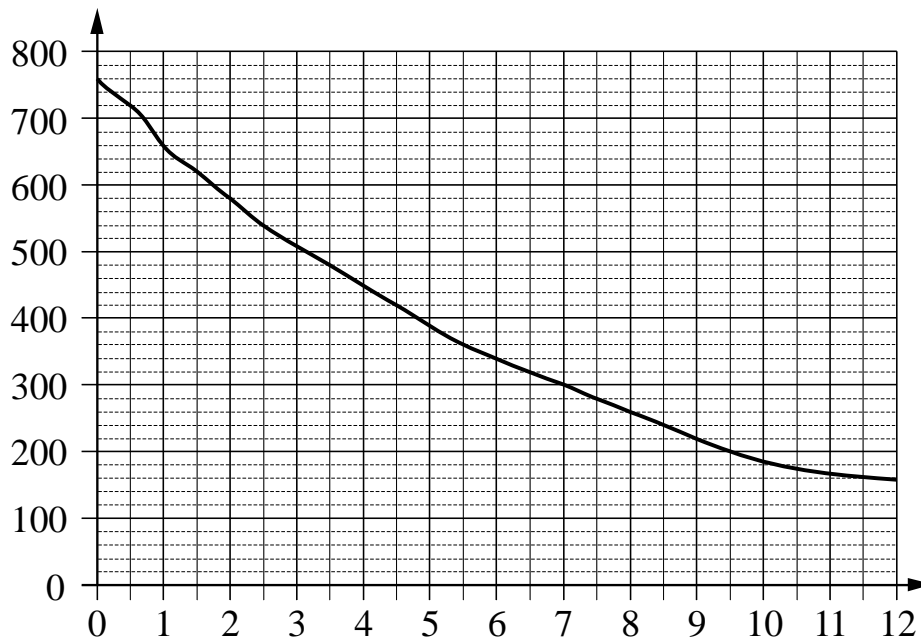
А	Б	В	Г

10

Помещение освещается фонарём с двумя лампами. Вероятность перегорания одной лампы в течение года равна 0,05. Найдите вероятность того, что в течение года обе лампы перегорят.

Ответ: _____.

- 11** На графике изображена зависимость атмосферного давления от высоты над уровнем моря. На горизонтальной оси отмечена высота над уровнем моря в километрах, на вертикальной — давление в миллиметрах ртутного столба.



Определите по графику, на какой высоте атмосферное давление равно 420 миллиметрам ртутного столба. Ответ дайте в километрах.

Ответ: _____.

- 12** В таблице 1 приведены минимальные баллы ЕГЭ по четырём предметам, необходимые для подачи документов на факультеты 1–6.

Таблица 1

Предмет Факультет	Математика (проф. ур.)	Русский язык	Обществознание	Иностранный язык (английский)
1	50	50	50	50
2	27	36	45	60
3	60	50	50	60
4	40	61	42	22
5	42	36	42	22
6	36	50	60	40

В таблице 2 приведены данные о баллах ЕГЭ по четырём предметам абитуриента В.

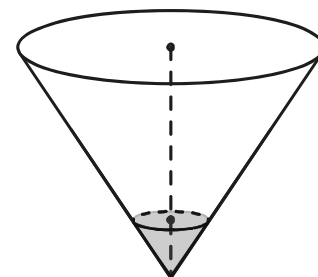
Таблица 2

Предмет	Математика (проф. ур.)	Русский язык	Обществознание	Английский язык
Баллы	40	76	48	82

Выберите факультеты, на которые может подавать документы абитуриент В. В ответе укажите номера всех выбранных факультетов без пробелов, запятых и других дополнительных символов.

Ответ: _____.

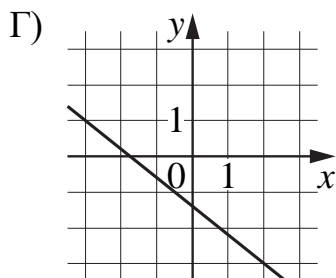
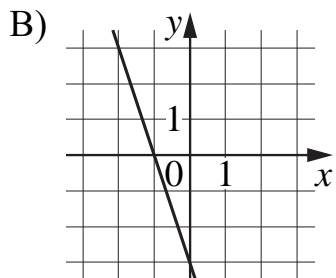
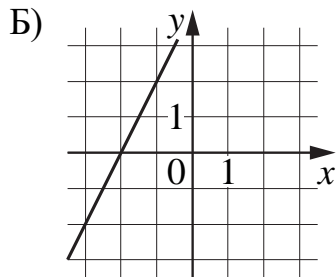
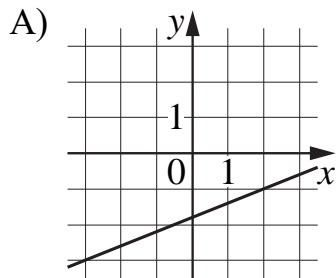
- 13** В сосуде, имеющем форму конуса, уровень жидкости достигает $\frac{2}{7}$ высоты. Объём жидкости равен 40 мл. Сколько миллилитров жидкости нужно долить, чтобы наполнить сосуд доверху?



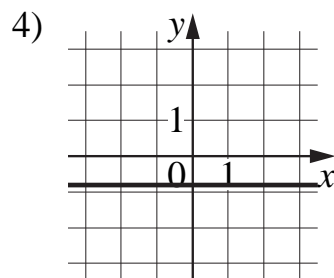
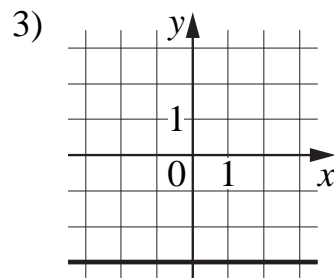
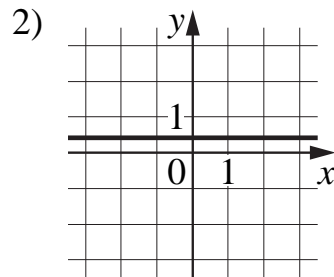
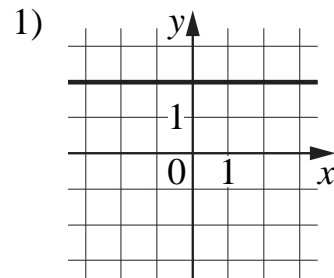
Ответ: _____.

14 Установите соответствие между графиками линейных функций и графиками их производных.

ГРАФИКИ ФУНКЦИЙ



ГРАФИКИ ПРОИЗВОДНЫХ

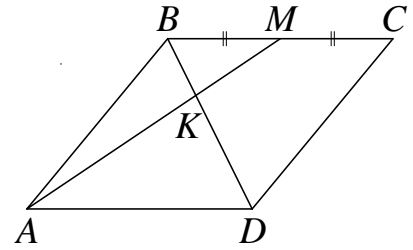


В таблице под каждой буквой укажите соответствующий номер.

Ответ:

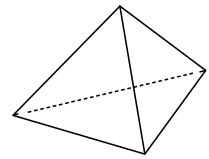
А	Б	В	Г

- 15** В параллелограмме $ABCD$ отмечена точка M — середина стороны BC . Отрезки BD и AM пересекаются в точке K . Найдите BK , если $BD = 9$.



Ответ: _____.

- 16** Стороны основания правильной треугольной пирамиды равны 18, а боковые рёбра равны 15. Найдите площадь боковой поверхности этой пирамиды.



Ответ: _____.

- 17** Каждому из четырёх чисел в левом столбце соответствует отрезок, которому оно принадлежит. Установите соответствие между числами и отрезками из правого столбца.

ЧИСЛА	ОТРЕЗКИ
А) $\log_5 20$	1) $[0; 1]$
Б) $\frac{29}{13}$	2) $[1; 2]$
В) $\sqrt{10}$	3) $[2; 3]$
Г) $2,3^{-3}$	4) $[3; 4]$

Впишите в приведённую в ответе таблицу под каждой буквой соответствующий отрезку номер.

Ответ:

А	Б	В	Г

18 Игорь Витальевич часто ездит на работу на велосипеде. Он не ездит на велосипеде в те дни, когда идёт дождь или снег, а также по четвергам, когда Игорь Витальевич надевает парадный костюм. Выберите утверждения, которые верны при приведённых условиях.

- 1) Сегодня Игорь Витальевич приехал на работу на велосипеде, значит, сегодня нет дождя.
- 2) Каждый раз, когда в течение дня будет ясно, Игорь Витальевич едет на работу на велосипеде.
- 3) Каждый раз, когда Игорь Витальевич добирается до работы без велосипеда, он одет в парадный костюм.
- 4) Каждый раз, когда на улице идёт снег, Игорь Витальевич добирается до работы без велосипеда.

В ответе запишите номера выбранных утверждений без пробелов, запятых и других дополнительных символов.

Ответ: _____.

19 Четырёхзначное число A состоит из цифр 1, 4, 6, 9, а четырёхзначное число B — из цифр 2, 3, 8, 9. Известно, что $B = 2A$. Найдите число A . В ответе укажите какое-нибудь одно такое число, большее 1500.

Ответ: _____.

20 В магазине квас на разлив можно купить в бутылках, причём стоимость кваса в бутылке складывается из стоимости самой бутылки и кваса, налитого в неё. Цена бутылки не зависит от её объёма. Бутылка кваса объёмом 1 литр стоит 45 рублей, объёмом 2 литра — 81 рубль. Сколько рублей будет стоить бутылка кваса объёмом 1,5 литра?

Ответ: _____.

Тренировочная работа №5 по МАТЕМАТИКЕ

11 класс

22 апреля 2020 года

Вариант МА1910504

Выполнена: ФИО _____ класс _____

Инструкция по выполнению работы

Работа по математике включает в себя 20 заданий.

На выполнение работы отводится 3 часа (180 минут).

Ответы к заданиям записываются в виде числа или последовательности цифр в поле ответа в тексте работы.

При выполнении заданий можно пользоваться черновиком. Записи в черновике не учитываются при оценивании работы. Баллы, полученные Вами за выполненные задания, суммируются. Постарайтесь выполнить как можно больше заданий и набрать наибольшее количество баллов.

Желаем успеха!

Ответом к каждому заданию является конечная десятичная дробь, целое число или последовательность цифр. Запишите ответы к заданиям в поле ответа в тексте работы.

1 Найдите значение выражения $\frac{55}{6} : \left(\frac{7}{4} - \frac{4}{3}\right)$.

Ответ: _____.

2 Найдите значение выражения $\frac{7^{-4}}{(7^3)^{-2}}$.

Ответ: _____.

3 В школе девочки составляют 51 % числа всех учащихся. Сколько в этой школе девочек, если их на 8 человек больше, чем мальчиков?

Ответ: _____.

4 Теорему косинусов можно записать в виде $\cos \gamma = \frac{a^2 + b^2 - c^2}{2ab}$, где a , b и c — стороны треугольника, а γ — угол между сторонами a и b . Пользуясь этой формулой, найдите величину $\cos \gamma$, если $a = 3$, $b = 8$ и $c = 7$.

Ответ: _____.

5 Найдите значение выражения $\frac{\log_7(4^6)}{3\log_7 4}$.

Ответ: _____.

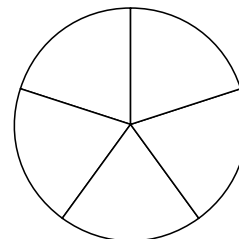
6 В доме, в котором живёт Петя, один подъезд. На каждом этаже по пять квартир. Петя живёт в квартире № 49. На каком этаже живёт Петя?

Ответ: _____.

7 Найдите корень уравнения $2^{-3x+1} \cdot 2^{-x-5} = \frac{1}{64}$.

Ответ: _____.

8 Колесо имеет 5 спиц. Углы между соседними спицами равны. Найдите величину угла (в градусах), который образуют две соседние спицы.



Ответ: _____.

9 Установите соответствие между величинами и их возможными значениями: к каждому элементу первого столбца подберите соответствующий элемент из второго столбца.

ВЕЛИЧИНЫ

ЗНАЧЕНИЯ

А) объём ящика с яблоками

1) 108 л

Б) объём воды в озере Ханка

2) 900 м³

В) объём бутылки соевого соуса

3) 0,2 л

Г) объём бассейна в спорткомплексе

4) 18,3 км³

В таблице под каждой буквой, соответствующей величине, укажите номер её возможного значения.

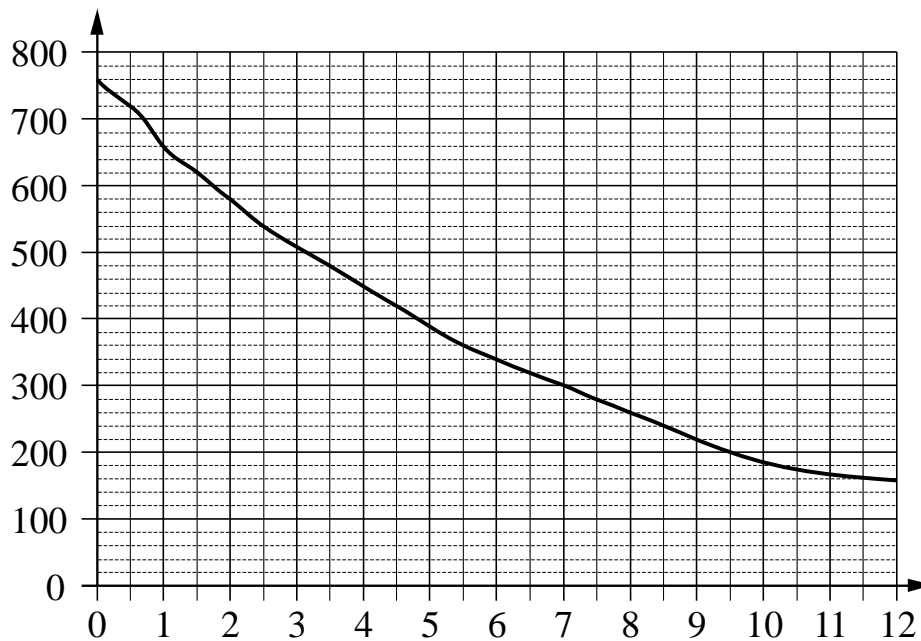
Ответ:

А	Б	В	Г

10 Помещение освещается фонарём с двумя лампами. Вероятность перегорания одной лампы в течение года равна 0,2. Найдите вероятность того, что в течение года обе лампы перегорят.

Ответ: _____.

- 11** На графике изображена зависимость атмосферного давления от высоты над уровнем моря. На горизонтальной оси отмечена высота над уровнем моря в километрах, на вертикальной — давление в миллиметрах ртутного столба.



Определите по графику, на какой высоте атмосферное давление равно 280 миллиметрам ртутного столба. Ответ дайте в километрах.

Ответ: _____.

- 12** В таблице 1 приведены минимальные баллы ЕГЭ по четырём предметам, необходимые для подачи документов на факультеты 1–6.

Таблица 1

Предмет Факультет	Математика (проф. ур.)	Русский язык	Биология	Химия
1	60	36	50	36
2	40	40	36	55
3	40	40	50	50
4	27	61	60	40
5	27	51	36	36
6	27	36	65	45

В таблице 2 приведены данные о баллах ЕГЭ по четырём предметам абитуриента В.

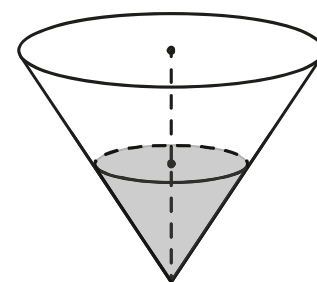
Таблица 2

Предмет	Математика (проф. ур.)	Русский язык	Биология	Химия
Баллы	42	55	62	52

Выберите факультеты, на которые может подавать документы абитуриент В. В ответе укажите номера всех выбранных факультетов без пробелов, запятых и других дополнительных символов.

Ответ: _____.

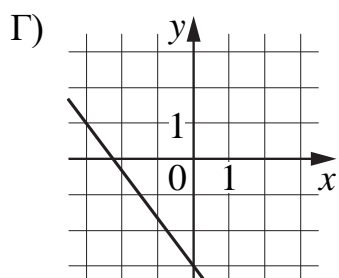
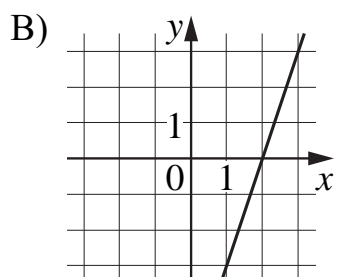
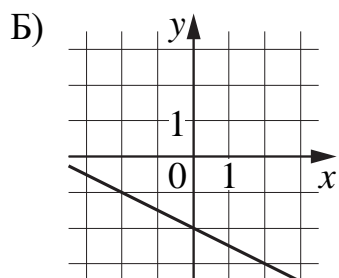
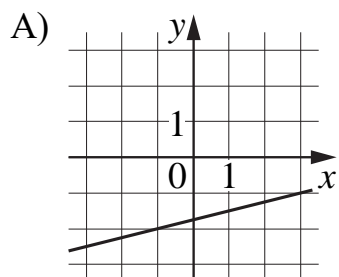
- 13** В сосуде, имеющем форму конуса, уровень жидкости достигает $\frac{1}{2}$ высоты. Объём жидкости равен 190 мл. Сколько миллилитров жидкости нужно долить, чтобы наполнить сосуд доверху?



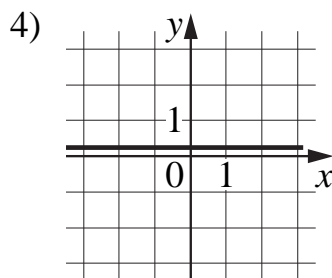
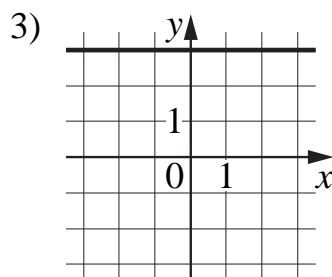
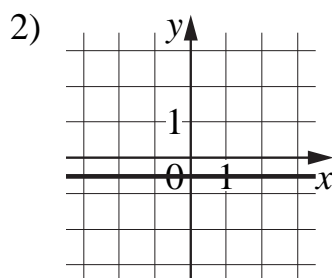
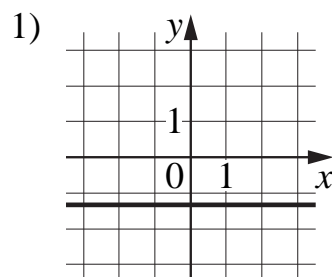
Ответ: _____.

14 Установите соответствие между графиками линейных функций и графиками их производных.

ГРАФИКИ ФУНКЦИЙ



ГРАФИКИ ПРОИЗВОДНЫХ

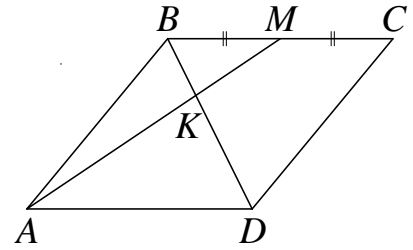


В таблице под каждой буквой укажите соответствующий номер.

Ответ:

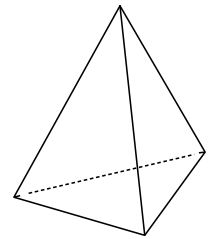
А	Б	В	Г

- 15** В параллелограмме $ABCD$ отмечена точка M — середина стороны BC . Отрезки BD и AM пересекаются в точке K . Найдите длину отрезка BK , если $BD = 15$.



Ответ: _____.

- 16** Стороны основания правильной треугольной пирамиды равны 10, а боковые рёбра равны 13. Найдите площадь боковой поверхности этой пирамиды.



Ответ: _____.

- 17** Каждому из четырёх чисел в левом столбце соответствует отрезок, которому оно принадлежит. Установите соответствие между числами и отрезками из правого столбца.

ЧИСЛА	ОТРЕЗКИ
А) $\log_2 35$	1) $[1; 2]$
Б) $\frac{7}{4}$	2) $[2; 3]$
В) $\sqrt{13}$	3) $[3; 4]$
Г) $0,39^{-1}$	4) $[5; 6]$

Впишите в приведённую в ответе таблицу под каждой буквой соответствующий отрезку номер.

Ответ:

А	Б	В	Г

18 В 9 «Б» классе география по расписанию по средам и пятницам. Каждый ученик должен приносить атлас на каждый урок географии. Выберите утверждения, которые верны при приведённых условиях.

- 1) Всякий день, когда ученик 9 «Б» класса берёт с собой в школу атлас, является пятницей.
- 2) В среду Маше из 9 «Б» класса надо принести в школу атлас.
- 3) По четвергам ученикам 9 «Б» класса не надо брать в школу географический атлас.
- 4) В каждый день, отличный от среды, ученикам 9 «Б» класса атлас можно в школу не брать.

В ответе запишите номера выбранных утверждений без пробелов, запятых и других дополнительных символов.

Ответ: _____.

19 Четырёхзначное число A состоит из цифр 1, 2, 6, 7, а четырёхзначное число B — из цифр 2, 3, 4, 5. Известно, что $B = 2A$. Найдите число A . В ответе укажите какое-нибудь одно такое число, большее 1500.

Ответ: _____.

20 В магазине квас на разлив можно купить в бутылках, причём стоимость кваса в бутылке складывается из стоимости самой бутылки и кваса, налитого в неё. Цена бутылки не зависит от её объёма. Бутылка кваса объёмом 1 литр стоит 44 рубля, объёмом 2 литра — 76 рублей. Сколько рублей будет стоить бутылка кваса объёмом 1,5 литра?

Ответ: _____.