

Спорткомплекс

Задание 1 / 3

Прочитайте текст «Спорткомплекс», расположенный справа. Запишите свой ответ на вопрос в виде числа.

Коля знает, что ширина участка под спортивный комплекс равна 11 м. Он решил узнать длину участка с помощью схемы и единственной имевшейся у него линейки, приложив её несколько раз.

Какова длина участка в метрах?

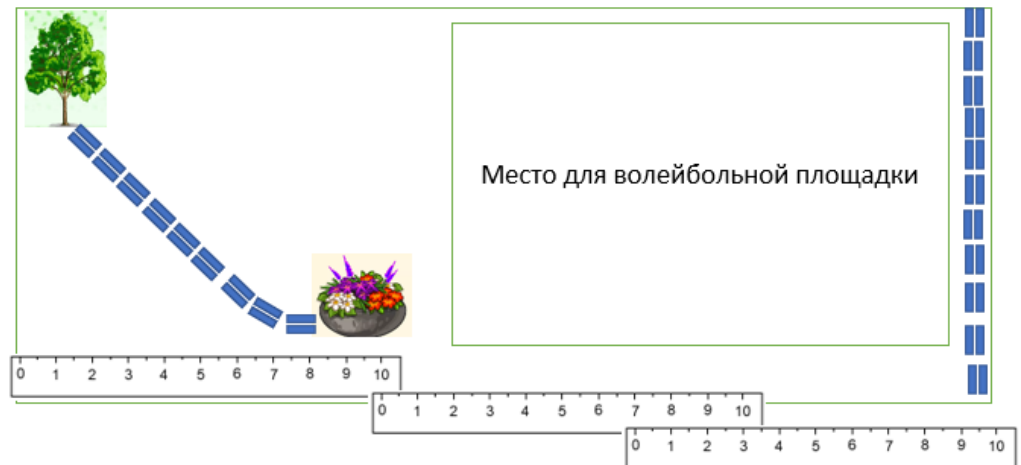
Запишите свой ответ в виде числа.

СПОРТКОМПЛЕКС

В оздоровительном лагере ребята вместе с вожатым решили оборудовать спортивный комплекс. Было решено сделать волейбольную площадку, установить мишень для стрельбы из лука и доску для записи результатов соревнований.

Сначала ребята сделали схему.

Схема спортивного комплекса



1 см на схеме соответствует 1 м на местности

Спорткомплекс

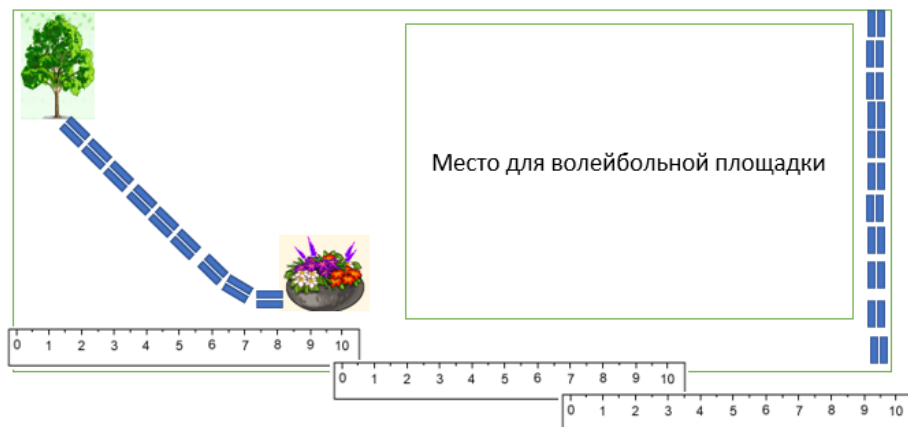
Задание 2 / 3

Прочитайте текст «Спорткомплекс», расположенный справа. Для ответа на вопрос используйте метод «Перетащить и оставить».

Покажите на схеме расположение мишени (поставьте букву М) и доски для записи результатов (поставьте букву Д), соблюдая следующие условия:

- мишень надо расположить в пяти метрах от дерева;
- доску надо расположить более чем в шести метрах от дерева, между деревом и клумбой, но ближе к клумбе.

Используйте метод «Перетащить и оставить», чтобы переместить буквы М и Д на схему ниже. Чтобы изменить свой ответ, перетащите букву на её исходное место, а затем перетащите эту букву в выбранное место.

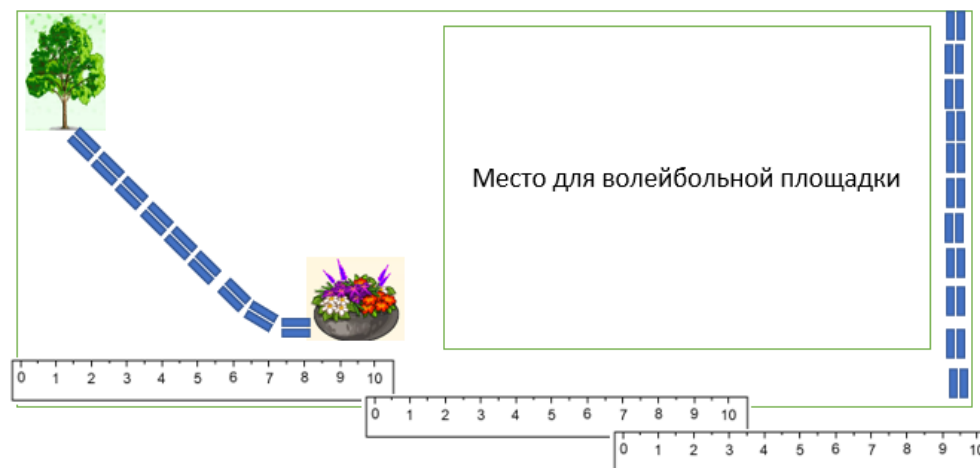


СПОРТКОМПЛЕКС

В оздоровительном лагере ребята вместе с вожатым решили оборудовать спортивный комплекс. Было решено сделать волейбольную площадку, установить мишень для стрельбы из лука и доску для записи результатов соревнований.

Сначала ребята сделали схему.

Схема спортивного комплекса



1 см на схеме соответствует 1 м на местности

Спорткомплекс

Задание 3 / 3

Прочитайте текст «Спорткомплекс», расположенный справа.
Для ответа на вопрос отметьте нужный вариант ответа.

Когда комплекс был готов, Коля обошёл волейбольную площадку по границе и установил, что им сделано 72 шага.

Какова длина волейбольной площадки, если ширина составила 12 шагов?

Отметьте один верный вариант ответа.

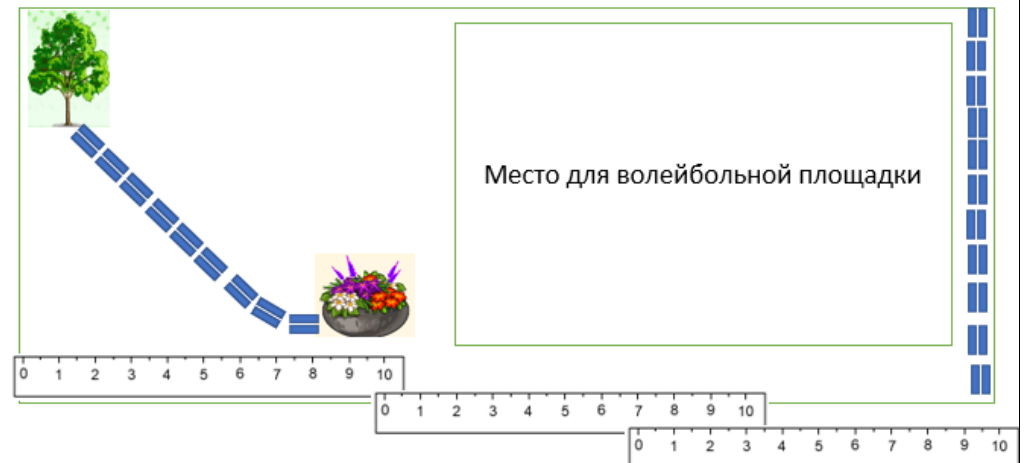
- 168 шагов
- 60 шагов
- 48 шагов
- 24 шага

СПОРТКОМПЛЕКС

В оздоровительном лагере ребята вместе с вожатым решили оборудовать спортивный комплекс. Было решено сделать волейбольную площадку, установить мишень для стрельбы из лука и доску для записи результатов соревнований.

Сначала ребята сделали схему.

Схема спортивного комплекса



1 см на схеме соответствует 1 м на местности